

تم تحميل وعرض هذا المادة من موقع واجبي:

wajibi.com



www.wajibi.net

واجبي موقع تعليمي يوفر مجموعة واسعة
من الخدمات والموارد التعليمية، يهدف موقع واجبي إلى
تسهيل عملية التعليم ويقدم حلول المناهج للطلاب في
جميع المراحل الدراسية.

حمل تطبيق واجبي من هنا  يصلك كل جديد





قررت وزارة التعليم تدريس
هذا الكتاب وطبعه على نفقتها



وزارة التعليم
Ministry of Education

المملكة العربية السعودية

الدراسات الاجتماعية

الصف الرابع الابتدائي

الفصول الدراسية الثلاثة

قام بالتأليف والمراجعة
فريق من المتخصصين

الاسم:

الصف:

المدرسة:

يوزع مجاناً ولا يباع

وزارة التعليم
Ministry of Education
2024 - 1446

٢٠٢٤/١٤٤٦ هـ

© وزارة التعليم ، ١٤٤٤ هـ

فهرسة مكتبة الملك فهد الوطنية أثناء النشر

وزارة التعليم

الدراسات الاجتماعية : للصف الرابع الابتدائي

التعليم العام / وزارة التعليم -. الرياض ، ١٤٤٤ هـ

٢٣٢ ص : ٢١ x ٢٥,٥ سم

ردمك: ٩٧٨-٦٠٣-٥٠٨-٧٧٧-٣

١- العلوم لاجتماعية - تعليم - السعودية

٢- التعليم الابتدائي - السعودية -أ-العنوان

ديوي ٣٧٢,٨٣ ١٤٤١/٨٣٨١

رقم الإيداع: ١٤٤١/٨٣٨١

ردمك: ٩٧٨-٦٠٣-٥٠٨-٧٧٧-٣

خادم الحرمين الشريفين
الملك سلمان بن عبدالعزيز آل سعود - يحفظه الله -
يقبل علم الوطن ١٤٤٠ هـ



© الرسوم

دائرة الملك عبدالعزيز

© الخرائط

دائرة الملك عبدالعزيز

طُبِعَ هذا الكتاب لأغراض التعليم، ولا يحق نسخ أي جزء منه أو استعماله أو استعمال الرسوم، أو الصور، أو الخرائط، أو المحتوى بأي شكل من الأشكال، أو بأي وسيلة من الوسائل التصويرية، أو الإلكترونية، أو الميكانيكية، أو غيرها مما يستحدث مستقبلاً إلا بإذن من الناشر.

مواد إثرائية وداعمة على "منصة عين الإثرائية"



ien.edu.sa

أعضاء المعلمين والمعلمات، والطلاب والطالبات، وأولياء الأمور، وكل مهتم بالتربية والتعليم:
يسعدنا تواصلكم؛ لتطوير الكتاب المدرسي، ومقترحاتكم محل اهتمامنا.



fb.ien.edu.sa

وزارة التعليم

Ministry of Education

2024 - 1446

بِسْمِ اللّٰهِ الرَّحْمٰنِ الرَّحِیْمِ



وزارة التعليم

Ministry of Education

2024 - 1446

بِسْمِ اللَّهِ الرَّحْمَنِ الرَّحِيمِ
الْحَمْدُ لِلَّهِ الَّذِي هَدَانَا لِهَذَا وَمَا كُنَّا لِنَشْكُرَهُ لَوْلَا رَحْمَتُ اللَّهِ عَلَيْنَا لَكُنَّا مِنَ الْخَاسِرِينَ



صاحب السمو الملكي
الأمير محمد بن سلمان بن عبدالعزيز آل سعود
ولي العهد رئيس مجلس الوزراء



خادم الحرمين الشريفين
الملك سلمان بن عبدالعزيز آل سعود
ملك المملكة العربية السعودية





رؤية
VISION
2030
المملكة العربية السعودية
KINGDOM OF SAUDI ARABIA

ركائز القوة



قوة استثمارية
رائدة



محور ربط
القارات الثلاث



العمق الإسلامي والعربي
بلادنا قبلة المسلمين

محاور الرؤية



وطن طموح

حكومته فاعلة
مواطنه مسؤول



اقتصاد مزدهر

فرصه مثمرة
تنافسيته جاذبة
استثماره فاعل
موقعه مُستغل



مجتمع حيوي

قيمه راسخة
بيئته عامرة
بنيانه متين



الفصل الدراسي الثاني

محتويات

الفصل الدراسي الثاني

الوحدة الرابعة: الاقتصاد ٩١

- ٩٤ الدرس الرابع عشر: مفهوم الاقتصاد
- ٩٧ الدرس الخامس عشر: الموارد والاستهلاك
- ١٠١ الدرس السادس عشر: التبادل التجاري
- ١٠٨ تقويم الوحدة الرابعة

الوحدة الخامسة: الأرض والخريطة ١١٢

- ١١٤ الدرس السابع عشر: الأرض
- ١١٧ الدرس الثامن عشر: أشكال سطح الأرض
- ١٢٣ الدرس التاسع عشر: دوران الأرض
- ١٢٦ الدرس العشرون: دوران القمر حول الأرض
- ١٣٠ الدرس الحادي والعشرون: الخريطة
- ١٣٧ تقويم الوحدة الخامسة

الوحدة السادسة: المواطنة المسؤولة ١٤٢

- ١٤٤ الدرس الثاني والعشرون: الأسرة والمجتمع
- ١٤٧ الدرس الثالث والعشرون: الحقوق والمسؤوليات
- ١٥٠ الدرس الرابع والعشرون: العمل الجماعي
- ١٥٦ تقويم الوحدة السادسة

الوحدة الرابعة

الاقتصاد



- ◆ الدرس الرابع عشر: مفهوم الاقتصاد
- ◆ الدرس الخامس عشر: الموارد والاستهلاك
- ◆ الدرس السادس عشر: التبادل التجاري





سوف أتعلم في هذه الوحدة

- ◆ مفهوم الاقتصاد.
- ◆ أنواع الموارد.
- ◆ التبادل التجاري قديماً وحديثاً.
- ◆ ترشيد الاستهلاك والادخار.



❓ ما النشاط الاقتصادي؟
❓ كيف أكون قادراً على إدارة مشترياتي؟

النشاط الاقتصادي:

هو إنتاج السلع والخدمات، وتوزيعها، وتبادلها، واستهلاكها.



إنتاج التمور

يطرح الاقتصادي أسئلة، مثل:

ماذا ننتج؟

كيف ننتج؟

لمن ننتج؟



إنتاج الحبيب

❓ أسئلة في الاقتصاد:

ما أبرز السلع التي تستهلكها أسرتك؟

كيف تحصل أسرتك على هذه السلع؟

السَّلع:

هي كل ما يُصنَع ويُنْتَج مما يحتاج إليه الإنسان، ويستهلكه في حياته، سواء استهلاكاً مباشراً أم غير مباشر.



١

نشاط

● لماذا نعتقد أن المملكة العربية السعودية دولة مصنعة ومنتجة؟

.....

.....

.....

نستعمل في حياتنا اليومية سلعاً كثيرة، مثل: الأدوات، والأطعمة، والملابس، التي تُصنع من المواد الأولية، وتُحوَّل إلى سلع مفيدة.

مثل: الأطعمة الأساسية والملابس.

ضرورية

مثل: السيارات الفارهة والمجوهرات.

غير ضرورية

السَّلع



الإنتاج:

هو عملية تحويل المواد الخام من قبل أفراد أو مؤسسات إلى منتجات وتقديم الخدمات التي يحتاج إليها الإنسان.



نشاط ٢

● يصنف الطلبة الأعمال الاقتصادية الآتية وفق نوع إنتاجها:

- | | | |
|------------------|----------------------------|--------------------------------|
| أ- التجارة | <input type="radio"/> مادي | <input type="radio"/> غير مادي |
| ب- صناعة الملابس | <input type="radio"/> مادي | <input type="radio"/> غير مادي |
| ج- التدريب | <input type="radio"/> مادي | <input type="radio"/> غير مادي |
| د- بناء المساكن | <input type="radio"/> مادي | <input type="radio"/> غير مادي |



الموارد والاستهلاك



- ❓ ما الموارد؟ وما أنواعها؟
- ❓ ماذا نستفيد من الموارد؟

◀ **الموارد:** هي الأشياء التي يعتمد عليها الإنتاج.

أنواع الموارد:



١- الموارد البشرية: هم **الناس** الذين يعملون ويعدون المحرك الأساس للعمل وإنتاج السلع والخدمات.

... أمثلة:

عمال البناء، والأطباء، والمعلمون.



٢- الموارد الطبيعية: هي **الأشياء** التي يحصل عليها الإنسان من **البيئة الطبيعية** لتلبية احتياجاته.

... أمثلة:

النفط، والمعادن، والمياه، والأشجار، والتربة.



مصنع لإنتاج الأكياس البلاستيكية في الرياض

٣- رأس المال: هي **أموال** وإمكانات أخرى يستعملها الإنسان في الإنتاج.

... أمثلة:

المصانع، والمُعَدَّات، والأموال.

للاطلاع

البنوك التجارية تساعد الأفراد على تسهيل تعاملاتهم المالية كالبيع والشراء، وذلك عن طريق فتح حسابات جارية لتعاملاتهم المالية وحفظ أموالهم عن طريق حسابات الادخار



١

نشاط

● بالرجوع إلى مصادر التعلم يذكر الطلبة أمثلة للموارد البشرية والموارد الطبيعية ورأس المال.

◀ الطاقة: هي قدرة المواد على **تحريك** الآلات والمعدات.
وللطاقة عدة أنواع منها ما يأتي:

نماذج من أنواع الطاقة



طاقة شمسية



طاقة ذرية



طاقة الرياح



طاقة حرارية



◀ **المُنتج**: هو الشخص الذي **يصنع** البضائع أو **يزرع** الأرض، أو **يوفر** الخدمات.

... أمثلة:

عُمال المصانع، والمعلّمون، والأطباء، والمزارعون.



◀ **المُستهلك**: هو الشخص الذي **يستعمل** السُّلع والخدمات والأشياء، و**يستفيد** منها.

... أمثلة:

عندما تشتري شيئاً من متجر، أو تستفيد من منتجات زراعية أو صناعية أو خدمات تعليمية أو صحية فأنت **مستهلك**.

تُستعمل السُّلع والخدمات بناءً على احتياجات المستهلكين، ويتفاعل البائعون والمشترون في تبادلها من خلال التجارة.

◀ **الأدخار**: هو **تخصيص** جزء من المال، و**حفظه** لتلبية الاحتياجات في **المستقبل**.





● بالرجوع إلى مصادر التعلم يذكر الطلبة فوائد الأدخار.

.....

.....

◀ ترشيد الاستهلاك: هو استعمال المَوارِد والأموال استعمالاً معتدلاً.

ومن صور الترشيد:

- ١- إطفاء الأجهزة التي لا نحتاج إليها؛ لتلافي ارتفاع تكلفة الكهرباء.
- ٢- استعمال المياه وفق الحاجة وإغلاق الحنفيات عند الانتهاء مباشرة؛ لتلافي ارتفاع تكلفة المياه.
- ٣- اختيار الأشياء ذات الأسعار المعتدلة.

هاتفان (جوالان) من نوع واحد



٤٠٠ ريال
تخفيضات
الشهر المقبل



٥٠٠ ريالاً
الشراء الآن



حقيبتان بجودة واحدة



٣٠٠ ريال



٤٠٠ ريالاً





التبادل التجاري



❓ ما التبادل التجاري؟

❓ ما فوائد التبادل التجاري؟

◀ التبادل التجاري: هو تداول السلع والخدمات بين الناس.

يدفع الناس الأموال مقابل البضائع



◀ شراء السلع قديماً وحديثاً:



قديماً:

قبل ظهور العُمَلات كان الناس يشترون ويبيعون **بمُقايضة** ما لديهم من سلع مقابل ما لدى الآخرين من سلع أخرى، فيشترون مثلاً: الأقط مقابل التمر، والسمن مقابل القمح، وهكذا.

حديثاً:

يشترى الناس اليوم السلع **بالمال** في المتاجر أو الأسواق، أو من مواقع الإنترنت، بوسائل متعددة، مثل: الدفع نقداً، أو الدفع الإلكتروني بالبطاقة أو التحويل البنكي.

للإطلاع

البنك المركزي هو الذي يصدر العملات الورقية والمعدنية وينظم عمل البنوك التجارية. في البنك التجاري يستطيع الأفراد فتح الحسابات والحصول على البطاقات البنكية التي تساعدهم في البيع والشراء، وحفظ أموالهم وادخارها أو استثمارها.



البطاقة البنكية



نقداً



الإنترنت

للاطلاع



عشرة ريال

العُملة: هي وسيط للتبادل التجاري، وتختلف من دولة إلى أخرى، وتكون على شكل ورقي أو معدني. وعملة المملكة العربية السعودية هي الريال السعودي.

التبادل التجاري وفوائده:

تعتمد الدول على **التبادل التجاري** بينها؛ من أجل تنمية اقتصادها، من خلال الأعمال التي يقوم بها الأفراد باستخدام الموارد المتوفرة للحصول على احتياجاتهم.

قديمًا كان التبادل التجاري يستغرق **شهوراً**، أما **اليوم** فقد أصبح التبادل التجاري **سريعاً**؛ نتيجة توافر وسائل المواصلات الحديثة والتقنيات الجديدة.

من فوائد التبادل التجاري ما يأتي:

- ◆ أن **نحصل** من دول أخرى على **منتجات** كثيرة يصعب توافرها في وطننا، مثل بعض الفواكه والخضراوات.
- ◆ أن **نستفيد** من **صناعات** بعض الدول الأخرى، مثل: الأجهزة الإلكترونية، والسيارات.
- ◆ أن **نبيع إنتاجنا** الوطني، مثل: النفط ومشتقاته، والتمور، وغيرها.



أختار الشيء
الذي صنّع في وطني
دعماً لاقتصاده

صناعة
سعودية



١

نشاط

- لفت نظر أحمد عند ذهابه مع والده للتسوق أن والده يحرص على شراء السلع المصنّعة في المملكة العربية السعودية. يوضح الطلبة سبب ذلك.





٢

نشاط

● يحدد الطلبة ما يُعدُّ تبادلاً تجارياً فيما يأتي:

مُقايسة (تبادل) خمس
تفاحات بأربع برتقالات

دفع قيمة حقيبة مدرسية
بالريال السعودي

تقديم هدايا

دفع قيمة حقيبة مدرسية
بالدولار الأمريكي

إعادة كتاب مستعار





قراءة

نشاط

اقرأ النص ثم أجب عن الأسئلة
في رمز الاستجابة المرفق



تاجر الملح (قصة من التراث العالمي)

في قرية ريفية صغيرة عاش تاجر ذكي يعمل في بيع الملح؛ حيث كان يجلبه من
ضفاف البحيرة وينقله إلى المدينة ليبيعه بواسطة حماره كل صباح ...
كان الحمار كسولاً ودائماً يشعر بالملل من حمل الملح كل يوم؛ على الرغم من أن التاجر
يقدم له الطعام والشراب، ويهتم به ولا يقسو عليه.

وفي أحد الأيام كان الحمار يسير مع التاجر إلى المدينة، وعلى ظهره أكياس من الملح،
ففكر في حيلة يتخلص بها من هذه الحمولة، واهتدى إلى حيلة مكررة؛ حيث اقترب من

حَافَةَ النَّهْرِ الَّذِي يَسِيرُ بِجَانِبِهِ؛ لِيَنْزَلِقَ وَيَسْقُطَ فِيهِ؛ فَذَابَ الْمِلْحُ فِي الْمَاءِ، وَعِنْدَمَا خَرَجَ مِنَ النَّهْرِ وَجَدَ أَنَّ الْحُمُولَةَ أَصْبَحَتْ خَفِيفَةً؛ فَفَرِحَ الْحِمَارُ، وَعَرَفَ أَنَّ حُطَّتْهُ قَدْ نَجَحَتْ.
لَمْ يَغْضَبِ التَّاجِرُ وَلَمْ يُعَاقِبِ الْحِمَارَ، وَرَأَى أَنَّ ذَلِكَ مِنْ قَضَاءِ اللَّهِ وَقَدَرِهِ؛ عَلَى الرُّغْمِ مِنْ خَسَارَتِهِ تِلْكَ الْبِضَاعَةَ.

وَفِي الْيَوْمِ التَّالِيِ كَرَّرَ الْحِمَارُ ذَلِكَ ظَنًّا مِنْهُ أَنَّهُ يَخْدَعُ التَّاجِرَ؛ لِتَخِفَّ حُمُولَةُ الْمِلْحِ؛ فَفَهِمَ التَّاجِرُ مَقْصِدَ الْحِمَارِ وَغَيَّرَ نَشَاطَهُ التَّجَارِيَّ إِلَى بَيْعِ الْقُطْنِ وَفَقَّأَ لِمَوْقِفِ الْحِمَارِ مِنَ الْعَمَلِ.

وَذَاتَ يَوْمٍ أَرَادَ التَّاجِرُ بَيْعَ مَا جَمَعَهُ مِنَ الْقُطْنِ فِي الْمَدِينَةِ وَكَانَ يَسِيرُ فِي الطَّرِيقِ نَفْسِهِ؛ حَيْثُ يَمُرُّ بِجَانِبِ النَّهْرِ... فَقَرَّرَ الْحِمَارُ أَنْ يُكْرِرَ خُدْعَتَهُ عَلَى التَّاجِرِ؛ فَتَظَاهَرَ بِالْإِنْزِلَاقِ لِيَسْقُطَ نَفْسَهُ فِي النَّهْرِ؛ لَكِنَّ الْقُطْنَ تَشْرَبَ الْمَاءَ وَكَادَ أَنْ يَغْرَقَ الْحِمَارُ، وَأَصْبَحَ الْقُطْنُ أَكْثَرَ ثِقَلًا... بَعْدَ ذَلِكَ أَدْرَكَ الْحِمَارُ عَاقِبَةَ الْخِدَاعِ... وَأَنَّ الْمَكْرَ السَّيِّئَ لَا يَحِيْقُ إِلَّا بِأَهْلِهِ.

يجيب الطلبة عن الأسئلة الآتية:

١- ما الفكرة الرئيسة لهذه القصة؟

•

٢- ضع عنواناً آخر مناسباً لهذه القصة.

•

٣- لماذا تعتقد أن الحمار لن يكرر خديعته مرة أخرى؟

•

٤- ما الجملة - في النص - التي تدلُّ على حِلْمِ التاجر على الحمار؟

•



تقويم الوحدة الرابعة



وزارة التعليم

Ministry of Education

2024 - 1446

١ يختار الطلبة الخيار الصحيح فيما يأتي:

أ- شراء الدواء من الصيدلية هو:

رأس مال إنتاج استهلاك بيع

ب- صناعة الدواء هو:

رأس مال إنتاج استهلاك بيع

ج- كان الناس قديماً يشترون السلّع بـ:

السلّع الإنترنت البطاقة الذكية الهاتف

٢ يضع الطلبة دائرة على الكلمات التي تدل على الإنتاج المادي،
ومربعاً على الكلمات التي تدل على الإنتاج غير المادي:

التعليم

السيارات

التمر

الهواتف

العلاج

السياحة



٣ يحدّد الطلبة حالات الادّخار في العبارات الآتية:

- شراء سلّع دون حاجة.
- حفظ بعض المال لشراء لعبة إلكترونية بعد مدة من الزمن.
- طلب مزيد من المال من الوالدين.
- الاقتراض من الطلبة في المدرسة.

٤ يحدّد الطلبة حالات ترشيد الاستهلاك في العبارات الآتية:

- شراء السلّع مرتفعة الثمن في المتجر.
- شراء أكثر من وجبة غذائية في وقت واحد.
- اختيار الحقيبة ذات السعر الأقل.
- إغلاق الإضاءة عند انتهاء الحاجة إليها.

٥ يصحح الطلبة الكلمات التي تحتها خط وفق ما يناسبها من الكلمات الآتية:

(المعادن - السياحة - صناعة السيارات - الخبز)

- أ- من السلع الضرورية السيارات الفارهة (.....).
- ب- من أنواع الإنتاج المادي التعليم (.....).
- ج- من الموارد الطبيعية السيارات (.....).
- د- من أنواع الإنتاج غير المادي إنتاج التمور (.....).

٦ يصل الطلبة عبارات المجموعة (أ) بما يناسبها في المجموعة (ب) بالاستعانة بالأرقام:

المجموعة (أ)	المجموعة (ب)
١- من الموارد البشرية	<input type="checkbox"/> المياه والتربة
٢- من الموارد الطبيعية	<input type="checkbox"/> الرياح
٣- من رأس المال	<input type="checkbox"/> المعلم والطبيب
٤- من مصادر الطاقة	<input type="checkbox"/> الشركات والمصانع

٧ يملأ الطلبة الفراغات الآتية ويحذفون حروف الإجابات من الجدول للتعرف على كلمة السر.



أتسلى وأتعلم

أ	ح	م	ب	و	ط	ن	ي	ا	ل
م	ق	ا	ل	ا	د	خ	ا	ر	
ل	ك	ا	ا	ل	ا	ن	ت	ا	ج
ة	ا	ي	ل	ع	ر	ب	ي	ة	ا
ل	س	ض	ع	ض	ر	و	ر	ي	ة
و	د	ة	ي	ة	ا	ل	س	ل	ع

كلمة السر

.....

١- الأطعمة الأساسية والملابس هي سلع

٢- تحويل المواد الخام إلى منتجات هو

٣- تخصيص جزء من المال، وحفظه للمستقبل هو

٤- التبادل التجاري هو تداول والخدمات بين الناس.

٥- تبادل السلع قديماً يسمى

الوحدة الخامسة

الأرض والخريطة



- ◆ الدرس السابع عشر: الأرض
- ◆ الدرس الثامن عشر: أشكال سطح الأرض
- ◆ الدرس التاسع عشر: دوران الأرض
- ◆ الدرس العشرون: دوران القمر حول الأرض
- ◆ الدرس الحادي والعشرون: الخريطة





سوف أتعلم في هذه الوحدة

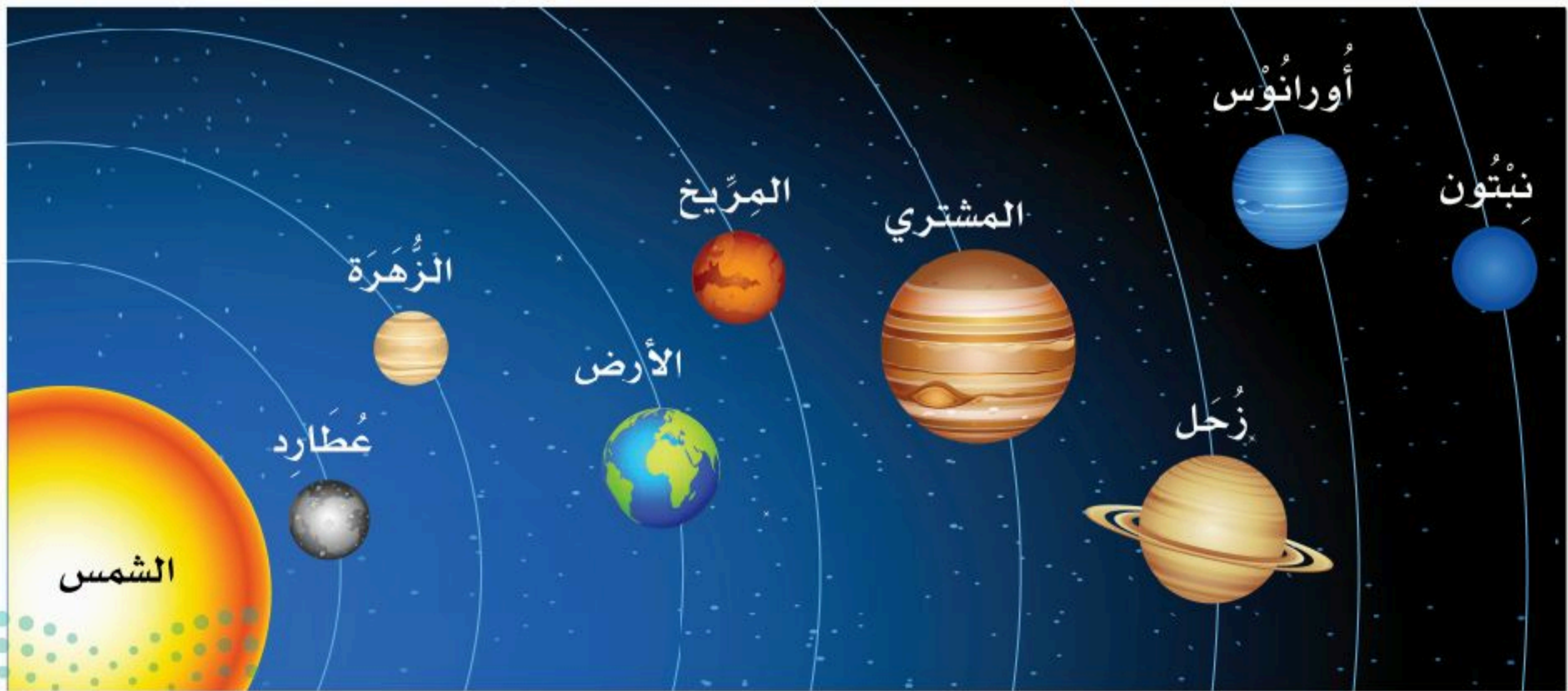
- ◆ موقع الأرض من المجموعة الشمسية.
- ◆ أشكال سطح الأرض.
- ◆ حركات الأرض ونتائجها.
- ◆ أوجه القمر والسنة القمرية.
- ◆ عناصر الخريطة.





- ٤ مِمَّ تتكون المجموعة الشمسية؟
- ٤ ما أهمية موقع الأرض في المجموعة الشمسية؟

الأرض جزء من المجموعة الشمسية التي خلقها الله عز وجل في الكون، وجعل الإنسان فيها؛ ليعمرها ويستفيد منها، قال الله تعالى: ﴿هُوَ الَّذِي خَلَقَ لَكُمْ مَا فِي الْأَرْضِ جَمِيعًا﴾ [البقرة: ٢٩]



لماذا لا نرى الشكل الكروي للأرض؟

● الأرض كبيرة جداً.

● الرؤية للشكل الكروي تكون من ارتفاعات عالية جداً أو من مسافات بعيدة جداً.



ما شكل الأرض؟

أسهمت الاكتشافات العلمية في تحديد شكل الأرض، وقد وصفها العلماء منذ قديم الزمن - ومنهم العلماء المسلمون - بأنها كُرْوِيَّة الشكل، ولذلك تسمى الكرة الأرضية.



١

نشاط

● أ- على ماذا يدل اللون الأزرق في الشكل أعلاه؟

.....

● ب- برأيك ماذا سيكون وصفك للأرض لو لم تعلم بكرويتها؟

.....





الأرض كُرْوِيَّة الشكل ويظهر لنا أن الناس الذين يعيشون في جنوبها سوف يسقطون، والحقيقة أنه بسبب الجاذبية تتجه جميع الأشياء على سطح الأرض - ومنها الناس - عمودياً نحو سطح الأرض ثم يجذبهم مركز الأرض ولا يشعرون بأن رؤوسهم أسفل.

٢

نشاط



● لماذا يختفي الجزء السفلي من السفينة عندما تبتعد عن الشاطئ؟



❓ ما التضاريس التي في الصورة؟

❓ لماذا تعلق الثلوج قمم الجبال؟

❓ من أين تبدأ الأنهار وأين تصب؟



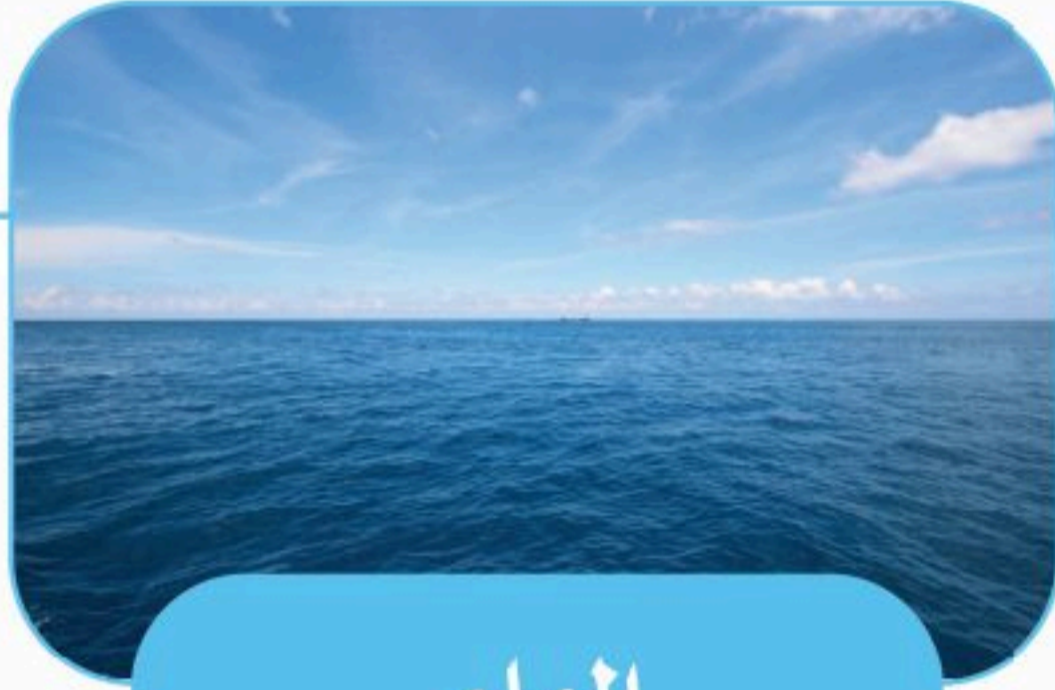
أشكال سطح الأرض

◀ سطح الأرض:

ينقسم سطح الأرض إلى قسمين، هما:

١- **اليابسة:** وهي تتكون من كتلٍ كبرى من اليابس تسمى كلُّ منها **قارّة**، وفيها **الجبال والسهول**، وتُشكّل ٢٩٪ من سطح الأرض.

٢- **الماء:** وهو يتكون من خمسة **مسطحات** مائية كبرى، تسمى **محيطات**، إضافةً إلى عدد من البحار والأنهار، وتُشكّل ٧١٪ من سطح الأرض.



الماء


الأنهار

المحيطات

البحيرات

البحار

الخلجان



اليابسة

القارات

الهضاب

الجبال

الصحاري

التلال

الجُزر

الأودية

الواحات

السهول



١

نشاط



يستعين الطلبة بالخريطة ويجيبون عن الأسئلة الآتية:

● أ- ما القارّات المطلة على المحيط الهادئ؟

.....

● ب- ماذا سيغيّر لو كانت اليابسة أكبر من الماء؟

.....

● ج- ما العلاقة بين اليابسة والماء؟



يعيش الناس في كل قارات العالم عدا القارة القطبية الجنوبية؛ لشدة البرودة والجفاف فيها، ويختلف عدد السُّكَّان بين القارات، فأكثرها سكاناً هي قارة آسيا، وأقلها هي قارة أستراليا.

يزداد عدد السُّكَّان في المناطق الساحلية، وبالقرب من الأودية، ومنابع المياه، في حين يقل عدد السُّكَّان في الصحاري وأعالي الجبال.

من الأشكال الطبيعية على سطح الأرض



الهضبة

أرض مرتفعة قليلاً وواسعة
ومبسطة



الجبل

كتلة صخرية مرتفعة
ولها قمة



الواحة

منطقة خصبة تمتاز بوجود
النباتات والمياه الجوفية



السهل

أرض واسعة
ومبسطة



الصحراء

أرض واسعة ومفتوحة وقليلة الماء والنبات



الوادي

أرض منخفضة تجري فيها مياه الأمطار



شبه الجزيرة

أرض يابسة محاطة بالماء من ثلاث جهات



الجزيرة

أرض يابسة محاطة بالماء من جميع الجهات





نشاط ٢

● أ- ما الفرق بين الجزيرة وشبه الجزيرة؟

.....

● ب- لماذا يقل عدد السكان في الصحاري؟

.....

● ج- يبين الطلبة سبب اختيار المكان المفضل لهم للعيش من خلال الصور السابقة؟

.....

تلاطلاع



في بلادنا أودية وصحار كبيرة، وواجبنا الابتعاد عن الأودية عند نزول المطر، وألا نتجول في الصحراء إلا مع رفقاء أو عند معرفة الطريق.

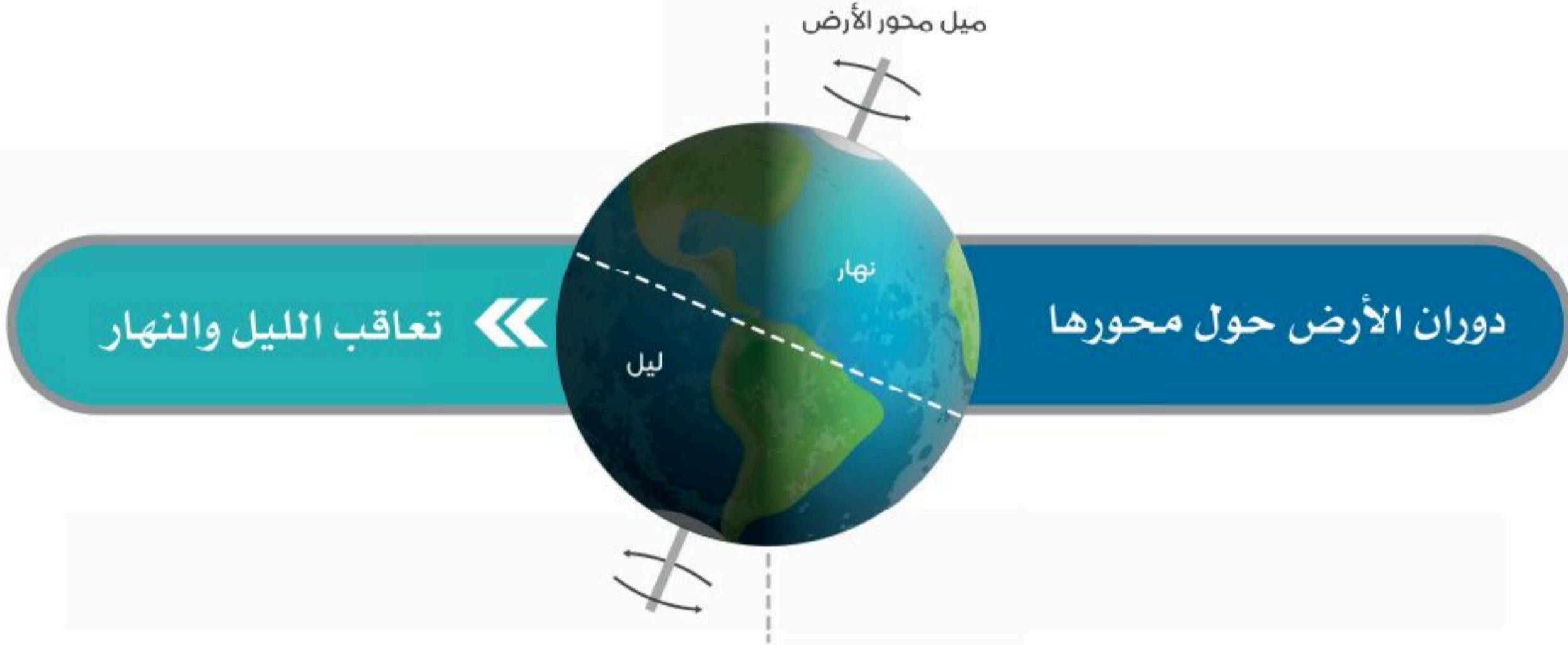


الدرس التاسع عشر

دوران الأرض



- ❓ من أي جهة تشرق الشمس؟
- ❓ بماذا تمد الشمس كوكب الأرض؟
- ❓ هل يمكن أن تضيء الشمس الكرة الأرضية كلها في وقت واحد؟



للأرض حركتان:

الأولى: **حول محورها**، وينتج عنها تعاقب الليل والنهار.

الثانية: **حول الشمس**، وذلك في ٣٦٥ يوماً و٦ ساعات، وتنتج عنها الفصول الأربعة.

الوحدة الخامسة | الدرس التاسع عشر



فصل الربيع (٢١ مارس - ٢٠ يونيو)



فصل الشتاء (٢٢ ديسمبر - ٢٠ مارس)



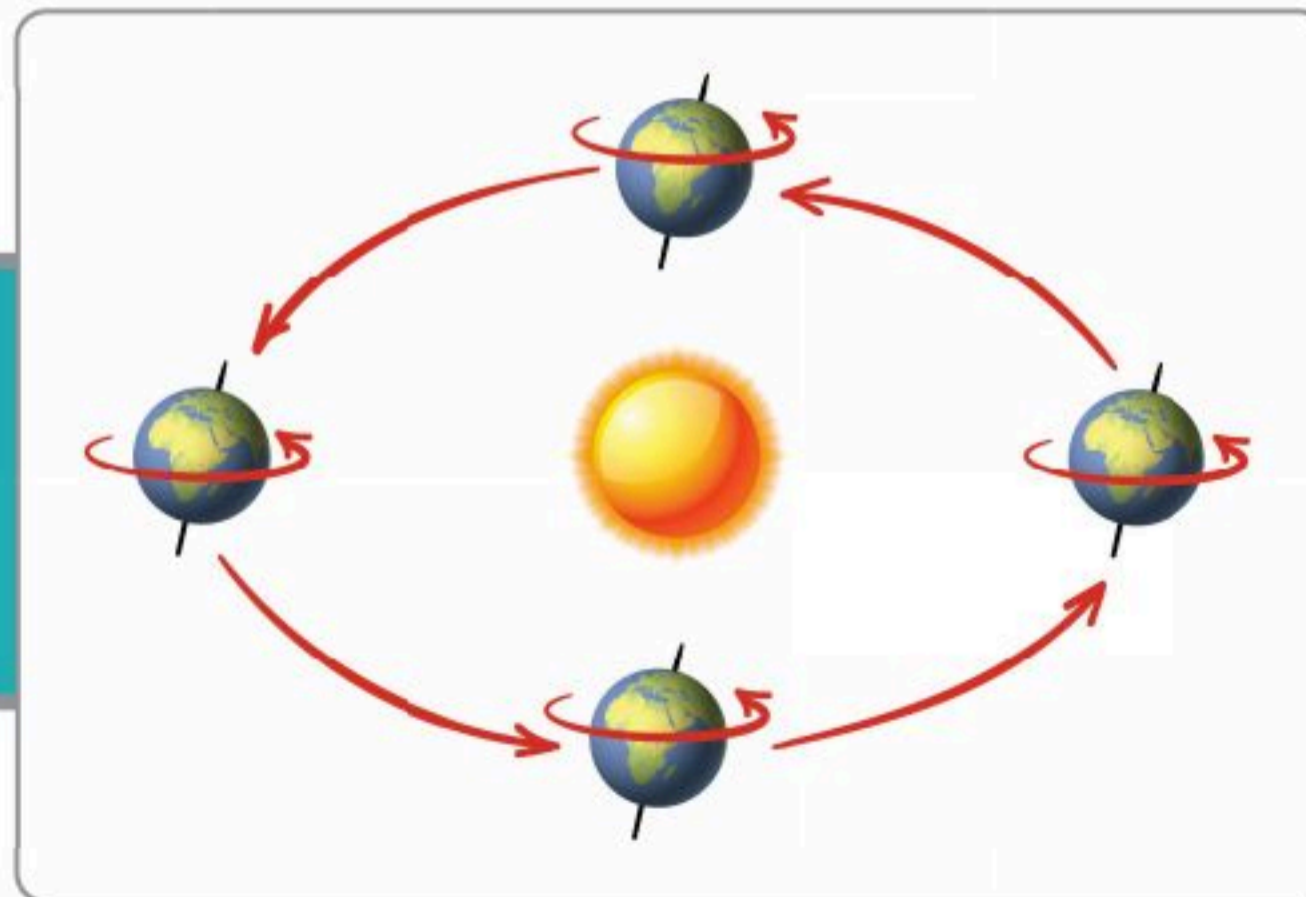
فصل الخريف (٢٣ سبتمبر - ٢١ ديسمبر)



فصل الصيف (٢١ يونيو - ٢٢ سبتمبر)

لو كانت الأرض ثابتة لما صار هناك **فصول مناخية** متنوعة، ولأن الأرض تدور حول الشمس فإن هناك مناطق حارة وباردة ومعتدلة كما أرادها الله سبحانه وتعالى. وقد جعل الله لنا **أربعة فصول** تتعاقب في الحدوث في السنة، هي: الشتاء والربيع والصيف والخريف، ويكون المناخ والفصول في نصف الكرة الأرضية الجنوبي على العكس من نصفها الشمالي.

يؤدي إلى حدوث
الفصول الأربعة



دوران الأرض
حول الشمس



نشاط ١

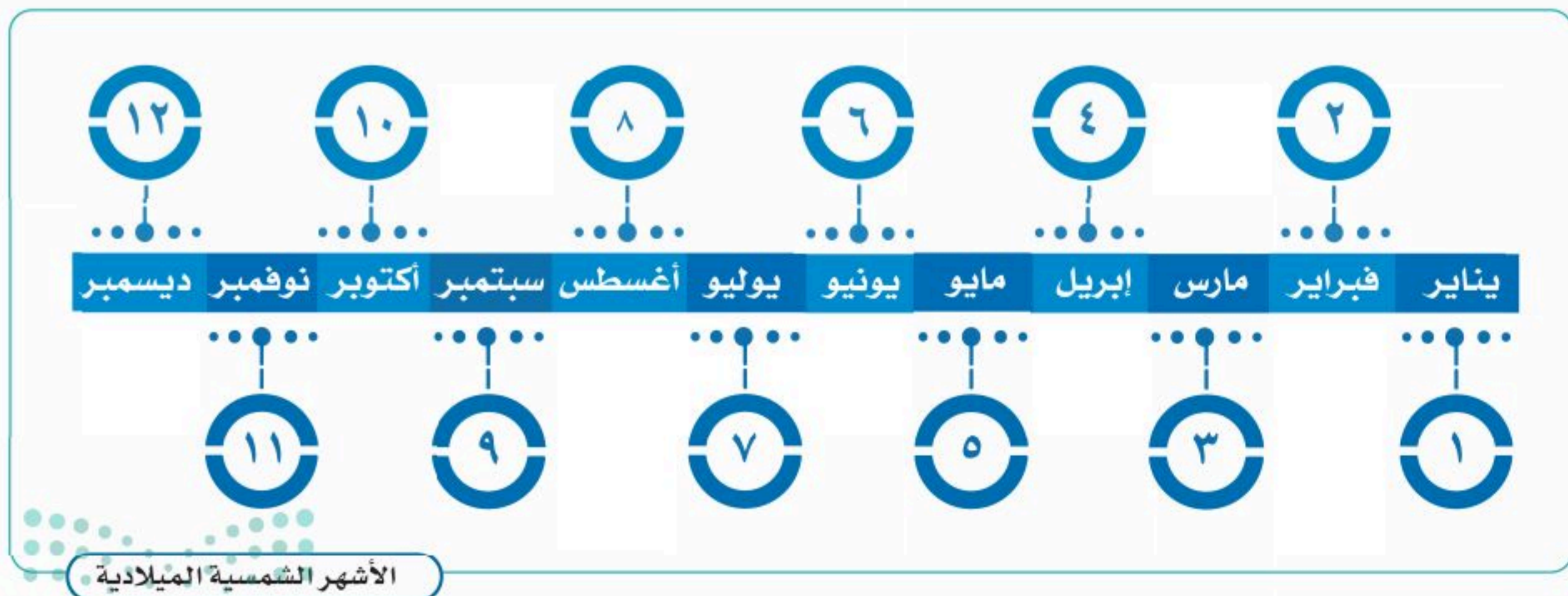
● أ- ماذا سيحدث لو توقف دوران الأرض حول محورها؟

.....

● ب- ماذا يستفيد الإنسان من تعاقب الليل والنهار؟

.....

ما أهمية تنوع الفصول الأربعة؟





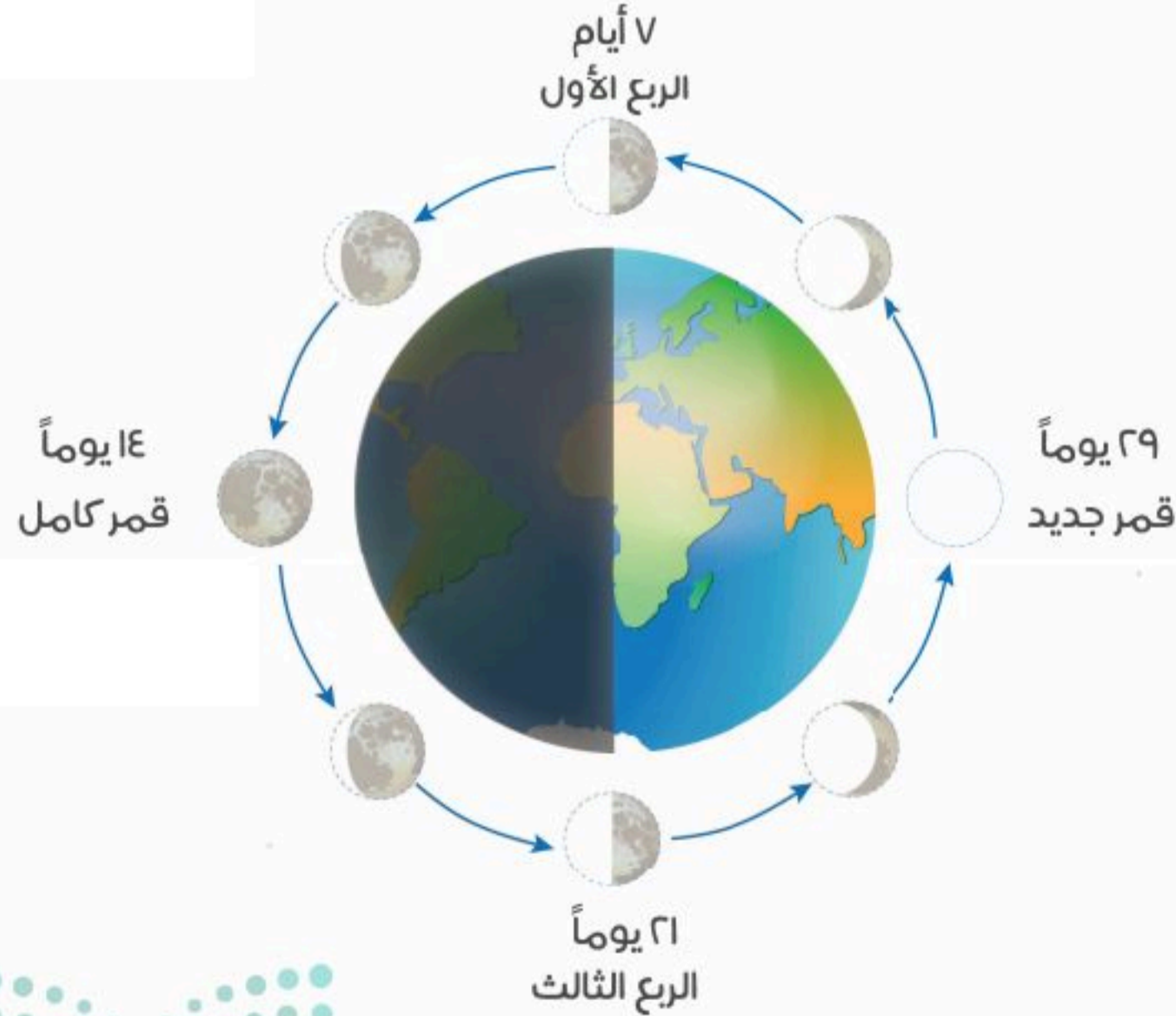
❓ ما شكل القمر، هل هو مسطح أم كروي؟

❓ أيهما أكبر حجماً القمر أم الأرض؟

القمر

جرم سماوي تابع للأرض غير مضيء، وهو يعكس لنا ضوء الشمس، ونحن لا نرى منه سوى الجهة المضيئة، وأما الجهة الأخرى فلا نراها؛ لأنها مظلمة.

دورة القمر حول الأرض:



يدور القمر حول الأرض مرة كل شهر؛ فينتج عن ذلك الشهر القمري، مثل: (المُحَرَّم ، صَفَر). ويكون القمر في أول الشهر هلالاً، ثم يبدأ بالظهور فيكون عند منتصف الشهر بَدْرًا عندما نراه بصورته الدائرية الكاملة، وعندما يختفي يكون مَحَاقًا (القمر الوليد).

السنة القمرية: هي المدة التي يأخذها القمر ليتم ١٢ دورة (١٢ شهراً) حول الأرض، وتسمى السنة القمرية (بالحجرية) عند العرب والمسلمين، وتبدأ بشهر المحرم وتنتهي بشهر ذي الحجة. ويظهر القمر بأشكال مختلفة عند دورانه حول الأرض مقابل الشمس، وتسمى هذه الأشكال **أوجه القمر**، وكل وجه من أوجه القمر يمثل مساحة مختلفة من الجزء المضاء من القمر.



١

نشاط

● لماذا يحرص المسلمون على تتبع حركة أوجه القمر؟





نشاط ٢

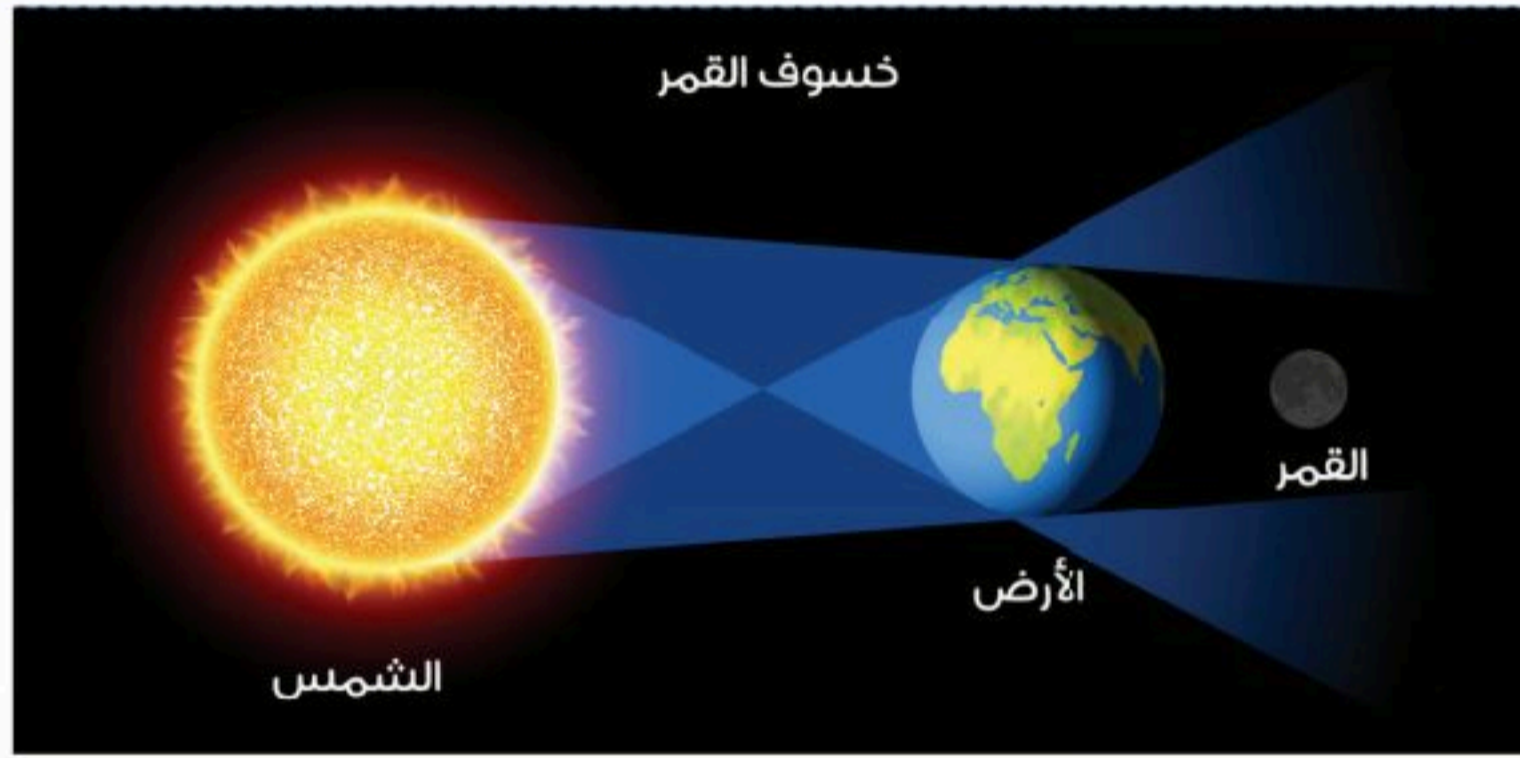
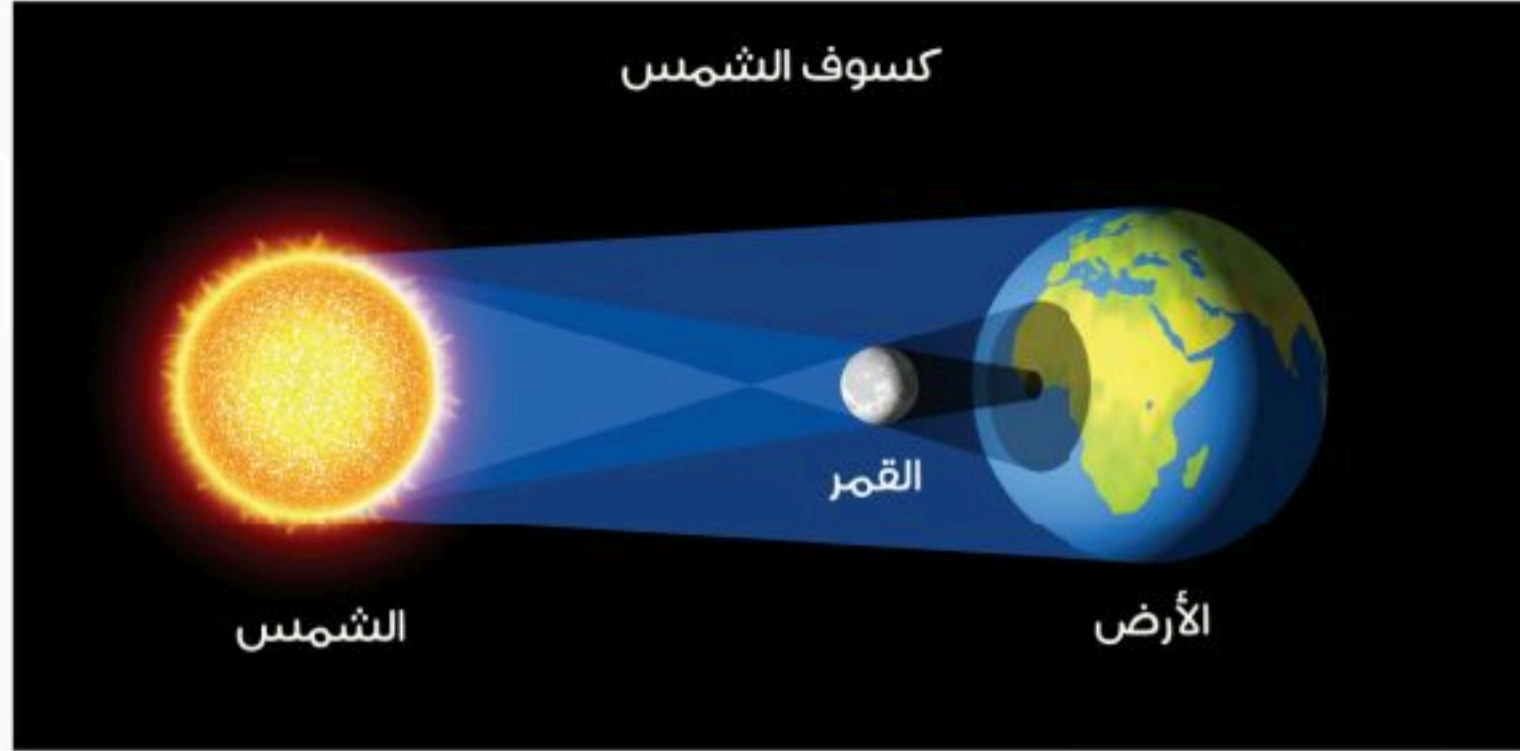
• يرتب الطلبة أسماء الشهور القمرية (الهجرية) وفق التسلسل من ١ إلى ١٢:

أسماء الشهور القمرية			
<input type="radio"/> جُمَادَى الْأُولَى	<input type="radio"/> ربيع الآخر	<input type="radio"/> ٧ رجب	<input type="radio"/> جُمَادَى الْآخِرَة
<input type="radio"/> ربيع الأول	<input type="radio"/> ١٠ شوال	<input type="radio"/> ١٢ ذو الحجة	<input type="radio"/> ذُو الْقَعْدَة
<input type="radio"/> شعبان	<input type="radio"/> الْمُحَرَّم	<input type="radio"/> رمضان	<input type="radio"/> ٢ صَفَر

للاطلاع

المَدّ والجَزْر ظاهرتان طبيعيتان تحدثان للمحيطات والبحار، فالمَدُّ يُحْدِثُ فِيهَا ارتفاعاً ووقتياً تدريجياً في منسوب المياه، والجَزْرُ يُحْدِثُ فِيهَا انخفاضاً ووقتياً تدريجياً في منسوب المياه. وتنشأ هذه الظاهرة عن تأثيرات قوى جاذبية القمر والشمس وحركة دوران الأرض، وتحدث هاتان الظاهرتان كل اثنتي عشرة ساعة.





كُسُوفُ الشَّمْسِ

هو احتجاب ضوء الشمس عن جزء من الأرض، وذلك عندما يتوسط القمر بينهما.

خُسُوفُ القَمَرِ

هو احتجاب ضوء الشمس عن القمر، وذلك عندما يكون القمر بَدْرًا وتتوسط الأرض بينه وبين الشمس، فيقع ظلها عليه فتحجب عنه ضوء الشمس فيبدو مظلمًا.



٣

نشاط

● أ- ماذا أفعل عند كسوف الشمس؟

.....

● ب- لماذا يظهر القمر مضيئاً في الليل؟

.....

● ج- لماذا لا يمكن رؤية ضوء القمر في حالة الخسوف الكلي؟

.....



الدرس الحادي والعشرون

الخريطة



❓ كيف أعرف موقع المملكة العربية السعودية في العالم وبين الدول؟

❓ أين تقع المدينة التي أسكن بها؟

الخريطة

رسم توضيحي لسطح الأرض أو لجزءٍ منه، وهي من أقدم الوسائل التي ابتكرها الإنسان من أجل معرفة مظاهر الطبيعة والمكان الذي يعيش فيه، مع تدوين معلومات يريد أن يحتفظ بها لنفسه أو ينقلها للآخرين.

فوائد الخريطة:

- 1- تساعدنا الخريطة على تحديد الأماكن ومواقعها، مثل: تحديد موقع وطني المملكة العربية السعودية بين دول العالم.
- 2- تساعدنا على معرفة المدن داخل وطني والمسافات بينها.



عناصر الخريطة

للخريطة عناصر أساسية توضح المعلومات فيها:





١

نشاط

● أ- يتأمل الطلبة الشكل الآتي، ثم يسجلون العناصر الأساسية للخريطة:



● ب- يصف الطلبة شعورهم لو كانوا في زمن لا توجد به خرائط؟

.....

.....

● ج- لماذا يفضل بعض الناس الخرائط الرقمية على الخرائط الورقية؟

.....

.....

نُظُم المعلومات الجغرافية

تطورت الخريطة لتصبح رقمية.

الخريطة الرقمية: هي خريطة إلكترونية، ويمكن الحصول عليها من التطبيقات الحاسوبية، مثل: جوجل إيرث.

للاطلاع

فوائد الخريطة الرقمية:

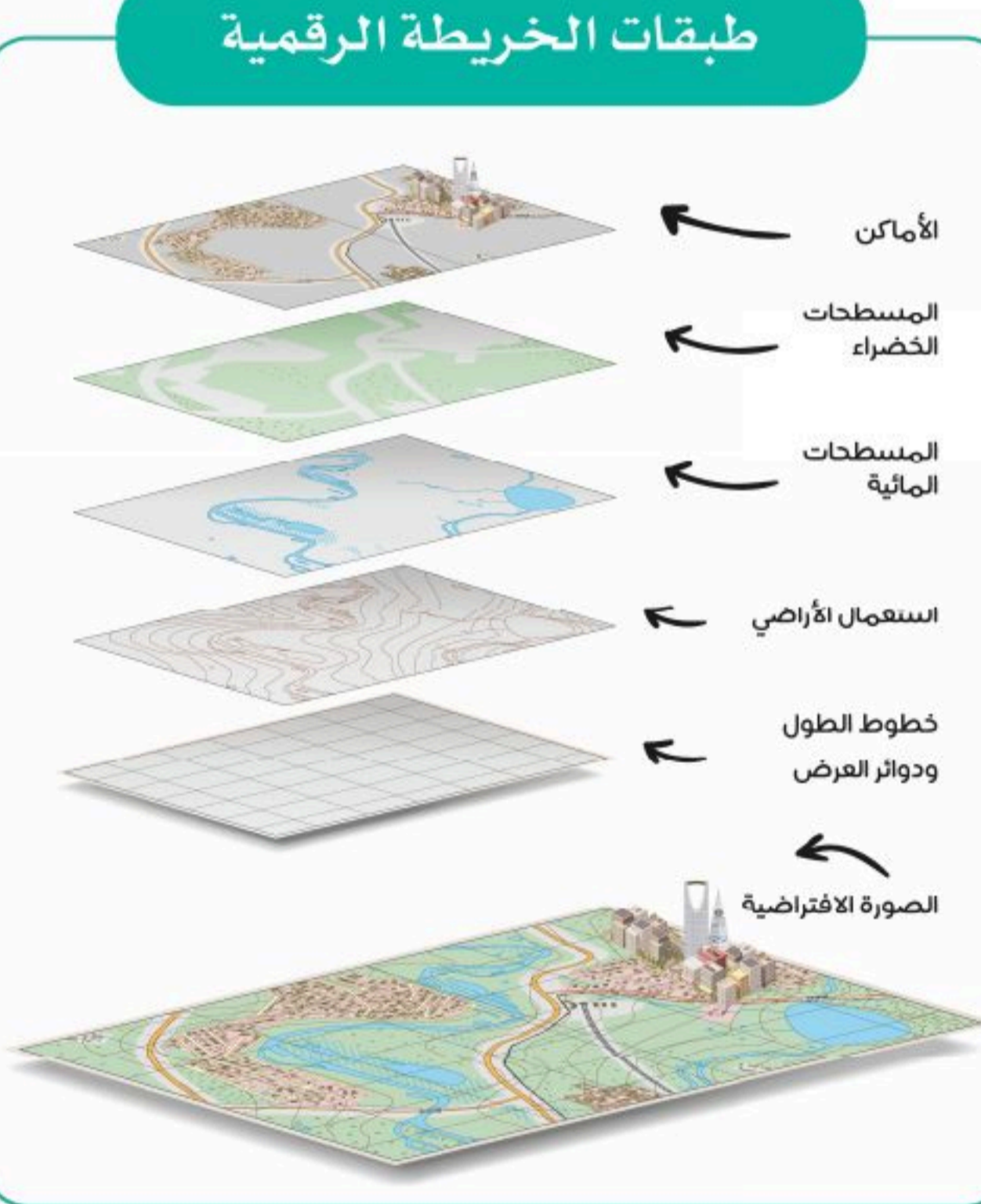
- 1- سهولة استعمالها والحصول عليها.
- 2- إمكانية تحديثها بسهولة.
- 3- إمكانية التحكم بها من حيث القرب والأبعاد وإظهار التمثيل الحقيقي للواقع.



تتولى الهيئة العامة للمساحة والمعلومات الجيومكانية إنتاج الخرائط الرقمية لوطني المملكة العربية السعودية.



هيئة المساحة الجيولوجية السعودية
SAUDI GEOLOGICAL SURVEY
www.sgs.org.sa



تتولى هيئة المساحة الجيولوجية السعودية إنتاج الخرائط الجيولوجية (طبقات الأرض) الرقمية لوطني المملكة العربية السعودية.



اقرأ النص ثم أجب عن الأسئلة
في رمز الاستجابة المرفق



الحمارُ مافين والكنز (قصةٌ من التراثِ الروسي)

في أحدِ أيامِ الربيعِ الجميلةِ والهادئةِ، كانَ هناكِ حمارٌ اسمه (مافين) يَمْرُحُ بَيْنَ الأعشابِ والأزهارِ، وَيَتَأَمَّلُ شُرُوقَ الشَّمْسِ وَهِيَ تَخْرُجُ فِي الأفقِ بِأشِعَّتِهَا الدَّهِيَّةِ السَّاطِعَةِ، وَيَسْتَمْتِعُ بِنَسِيمِ الهَوَاءِ العَلِيلِ، وَفَجْأَةً وَهُوَ يَرْكُضُ التَّصَقَّتْ بِوَجْهِهِ قِطْعَةٌ وَرَقٍ مُجَعَّدَةٍ، فَالْتَقَطَهَا بِسُرْعَةٍ وَتَفَحَّصَهَا بِعِنَايَةٍ، فَوَجَدَ أَنَّهَا حَرِيْطَةٌ، أَحَدَ نَفْسًا عَمِيْقًا وَحَدَّقَ فِي الوَرَقَةِ مَرَّةً أُخْرَى، ثُمَّ صَاحَ بِصَوْتٍ عَالٍ: الكَنْزُ.. الكَنْزُ.. إِنَّهُ مُخَبَّأٌ تَحْتَ شَجَرَةٍ بَلُوْطٍ كَبِيْرَةٍ! سَوِّفَ أُسْرِعُ إِلَيْهَا وَأَحْفِرُ الآنَ.

وحيثما استدار لينطلق إلى المكان رأى البطريق (شاهين) يحدق فيه قائلاً في دهشة: إنها خريطة كنز! لا شك أن هذا الكنز مخبأ في القطب الجنوبي المتجمد، لا داعي للقلق وإضاعة الوقت، هيا بنا... دعنا نأخذ الزلاجة ونذهب إلى هناك.

تساءل الحمام (مافين) في نفسه قائلاً وهو ينظر مرة أخرى إلى الخريطة: القطب الجنوبي! لا.. لا أظن أنه هناك، لدي يقين بأن الكنز مدفون تحت شجرة بلوط، فبسط الخريطة على الأرض وحفض رأسه وهو ينظر إليها بتفحص، كان يظن أن هذه هي أفضل طريقة للتأكد من مكان الكنز، أما البطريق (شاهين) فتفحص الخريطة باستخدام العدسة المكبرة، وفجأة وهما منهما مكان في التفحص سقط ظل على الخريطة؛ إنه ظل الصبي (بوني)، الذي قال لهما: أنا أعرف المكان في هذه الخريطة، لقد ولدت وعشت هناك، وأعرفه جيداً.

حدق الثلاثة في الخريطة مرة أخرى، فقال الحمام (مافين) هامساً: إنه تحت شجرة بلوط، وتمتم البطريق شاهين قائلاً: إنه في القطب الجنوبي، أما الصبي فقال مبتهجاً: إنه في الغابة أنا متأكد من ذلك.

فجأة قفز الثلاثة من مكانهم، وفي هذه اللحظة مدت النعامة رقبتها الطويلة ونظرت إلى الخريطة وابتسمت قائلة: إنه في إفريقيا لقد عشت هناك فترة من حياتي في مكان فيه جبال ووديان وأنهار جميلة، سأذهب الآن إلى ذلك المكان، ويجب علي أولاً أن أأخذ الخريطة معي، فصرخ الحمام في وجهها قائلاً: لا، لن تأخذها أنا من وجدتها أولاً!، فقال البطريق شاهين: بل أنا من يأخذها، وجذب الخريطة بقوة إليه، فقفز الصبي (بوني) وأمسك بجزء من الخريطة، وقبضت النعامة على الجزء الآخر منها، وأمسك الحمام على جزء منها بأسنانه، وتجادبوا جميعاً حتى تمزقت الخريطة إلى قطع صغيرة، فأرادوا جميعها ووضعوها بسرعة على الأرض... فهبت الرياح وطارت بها بعيداً.



يختار الطلبة الإجابة الصحيحة فيما يأتي:

١- في أي فصل وجد الحمار (مافين) خريطة الكنز؟

- فصل الشتاء فصل الخريف فصل الربيع فصل الصيف

٢- وجد الحمار (مافين) وهو يلعب:

- قطعة ورق قطعة قماش قطعة خبز قطعة حلوى

٣- أي من العبارات الآتية قالها الحمار (مافين) حين وجد الخريطة؟

- "الكنز! إنه مخبأ تحت الثلج" "الكنز! إنه مخبأ تحت شجرة البلوط"

- "الكنز! إنه مخبأ في إفريقيا" "الكنز! إنه مخبأ في القطب الجنوبي"

٤- فرح الطفل (بوني) عندما رأى الخريطة لأنه:

- رأى الكنز عرف مكان الكنز وجد الكنز أخذ الكنز

٥- تمزقت الخريطة إلى قطع صغيرة بينهم لأنهم:

- تجاذبها بقوة بينهم وضعوها على الأرض

- وضعوها في مهب الرياح تفحصوها بالعدسة المكبرة





تقويم الوحدة الخامسة



وزارة التعليم

Ministry of Education

2024 - 1446



١ ينظر الطلبة إلى الطائرة في الشكل ثم يدلّون على كروية الأرض.

.....
.....

٢ يكتب الطلبة نوع الشكل الطبيعي لسطح الأرض في كل صورة.



.....



.....



.....



.....

٣ يسمي الطلبة قارات العالم وفقاً لأكبرها مساحة:

- ١
٢
٣
٤
٥
٦

٤ يصحح الطلبة العبارات الآتية:

أ- تعد الأرض الكوكب الأول قريباً للشمس.

.....

ب- يقع المحيط الهندي بين قارتي إفريقيا وأمريكا الشمالية.

.....

ج- ينتج عن دوران الأرض حول محورها تعاقب الفصول الأربعة.

.....

٥ يضع الطلبة خطأً تحت الإجابة الصحيحة:

- أ- المسطح المائي هو أرض مغمورة:
ب- أحد أشكال اليابسة:
ج- تفصل بين المسطحات المائية:
(بالمياه / بالجبال / بالتلال / بالجُزر).
(الأنهار / الجبال / البحار / المحيطات).
(اليابسة / الأنهار / المحيطات / البحار).



٦ يصل الطلبة ما في المجموعة (أ) بما يناسبها في المجموعة (ب) باستعمال الأرقام:

المجموعة (أ)	المجموعة (ب)
١- الجبل	<input type="checkbox"/> أرض واسعة قليلة الماء والنبات.
٢- الهضبة	<input type="checkbox"/> أرض يابسة محاطة بالماء من جميع الجهات.
٣- الواحة	<input type="checkbox"/> كتلة صخرية مرتفعة ولها قمة.
٤- شبه الجزيرة	<input type="checkbox"/> أرض مرتفعة قليلاً وواسعة ومنبسطة.
٥- الجزيرة	<input type="checkbox"/> أرض يابسة مُحاطة بالماء من ثلاث جهات.
٦- الصحراء	<input type="checkbox"/> أرض خصبة بها مزارع وأشجار.

٧ يُكمل الطلبة الفراغات الآتية:

أ- من أشكال اليابسة:

- ، ،
- ب- من عناصر الخريطة الأساسية: ١- ٢-
- ج- يقع وطني المملكة العربية السعودية في قارة وتحيط به قارتي
- و
- د- من أمثلة الخرائط الإلكترونية:

٨ ما الفرق بين كسوف الشمس وخسوف القمر؟



٩ يضع الطلبة علامة (✓) أمام العبارة الصحيحة، وعلامة (x) أمام العبارة غير الصحيحة:

- أ- أسهمت الاكتشافات العلمية في تحديد شكل الأرض.
- ب- ينقسم سطح الأرض إلى قسمين: يابسة وماء.
- ج- يعيش الناس في كل قارات العالم عدا القارة القطبية الشمالية.
- د- تدور الأرض حول الشمس، وينتج عن ذلك تعاقب الليل والنهار.
- هـ- يدور القمر حول الأرض مرة كل ستة أشهر.
- و- المد والجزر ظاهرتان طبيعيتان تحدثان للمحيطات والبحار.
- ز- الخريطة الرقمية: هي خريطة إلكترونية، ويمكن الحصول عليها من التطبيقات الحاسوبية.
- ح- الخريطة من أحدث الوسائل التي ابتكرها الإنسان من أجل معرفة مظاهر الطبيعة والمكان الذي يعيش فيه.
- ط- يزداد عدد السُّكَّان في المناطق الصحراوية.



الوحدة السادسة

المواطنةُ المسؤولة



◆ الدرس الثاني والعشرون: الأسرة والمجتمع

◆ الدرس الثالث والعشرون: الحقوق والمسؤوليات

◆ الدرس الرابع والعشرون: العمل الجماعي





سوف أتعلم في هذه الوحدة

- ◆ مفهوم الأسرة والمجتمع.
- ◆ مفهوم الحقوق والواجبات.
- ◆ فوائد العمل الجماعي.



الدرس الثاني والعشرون

الأسرة والمجتمع



❓ ما أهمية الأسرة؟

❓ ماذا يعني تعاون جميع أفراد الأسرة في المنزل؟

الأسرة أساس المجتمع، وتتكون من أب وأم وأولاد. ويتكون المجتمع من عدة أسر.

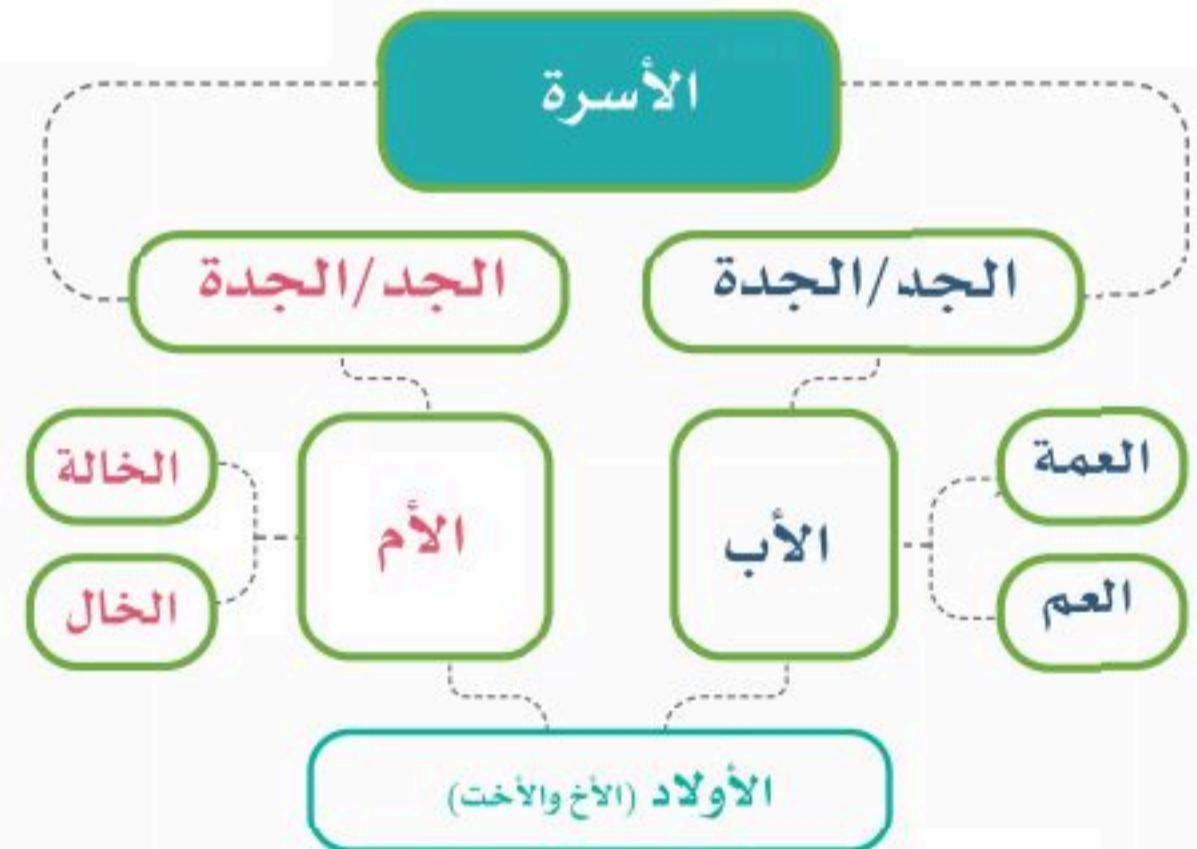
❖ لكل فرد في الأسرة طموحات في المستقبل.

❖ كل فرد في الأسرة لديه صفات خاصة تميزه عن الآخرين.

❖ لكل فرد في الأسرة قدرات، وإمكانات، ومهارات.

❖ لأسرتي التي أنتمي إليها أثر كبير في

تكوين شخصيتي.





المدرسة تشبه الأسرة

- ◆ نعتني بالآخرين.
- ◆ نلعب معاً.
- ◆ نتعلم معاً.
- ◆ نتبع النظام.
- ◆ نؤدي الواجبات.

نتكاتف معاً
لحماية الوطن
وخدمته

يحب كلُّ
منَّا الآخر

يحافظ كلُّ منَّا
على الآخر

نأكل
معاً

يلبي كلُّ
منَّا احتياجات
الآخر

نلعب
معاً

يعتني
كل منَّا
بالآخر

نعمل
معاً

الأسرة





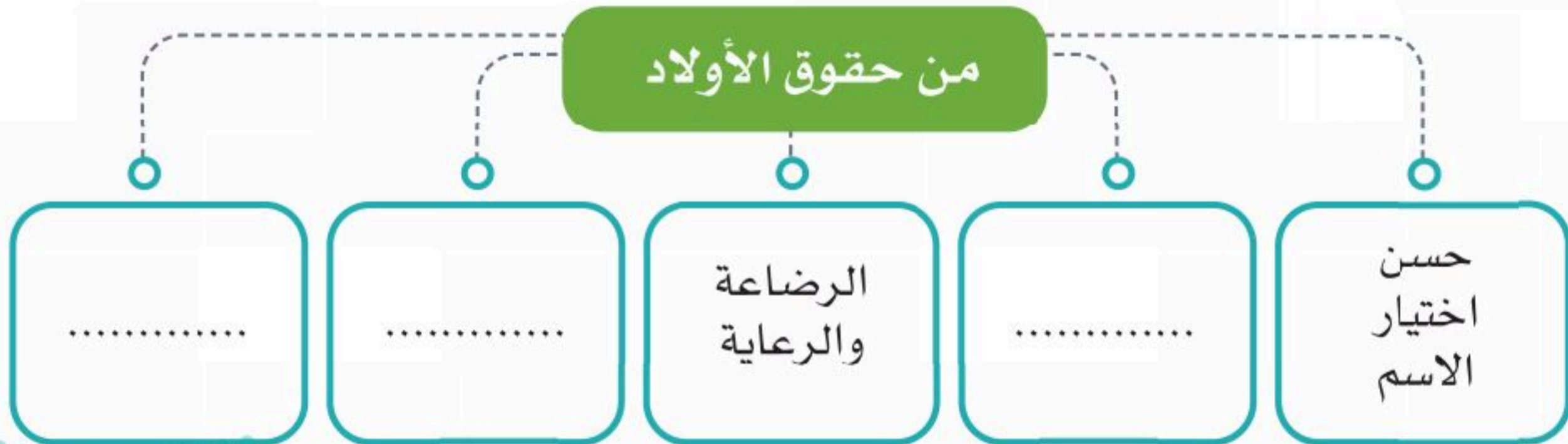
نشاط ١

● يكمل الطلبة حقوق الوالدين في الفراغات الآتية:



نشاط ٢

● للأولاد حقوق على الوالدين، فما هي؟





الدرس الثالث والعشرون

الحقوق والمسؤوليات



❓ ما حقوقنا ومسؤولياتنا؟

❓ كيف نكون مواطنين مسؤولين؟

◀ الحقوق

ما يستحقه الطلبة في حياتهم.

... مثال:

يحق لطلبة المدارس تناول وجبة غذائية صحيّة في أثناء اليوم الدراسي في وقت الفسحة.

◀ المسؤولية

واجب أو عمل يلتزم الفرد أو المجتمع تنفيذه.

... مثال:

بعد تناول أحمد وجبة طعام، يتحمل مسؤولية رمي المخلفات في سلة المهملات.





نشاط ١

● يكمل الطلبة الفراغات الآتية:

واجباتي في المدرسة

- أن أحضر مبكراً.
- أن أنجز واجباتي.

-
-

حقوق في المدرسة

- أن أتسلم الكتب الدراسية.
- أن تكون المدرسة مهيأة.

-
-



المواطن الصالح

هو المواطن الذي يتقيد بالنظام، ويشعر بالمسؤولية، ويؤدي الواجبات، وينتمي لوطنه، ويحرص على أمنه.

من مسؤولياتي أن

أتجنب التلطف على الآخرين
بكلمات غير مقبولة

أتجنب المواقع غير المناسبة
لعمري

أحبّ للآخرين ما أحبّ لنفسي

لا أتواصل مع من لا أعرفهم

أستعمل الأجهزة الإلكترونية
بمسؤولية

أعبر عن رأيي بهدوء
ولطف

أحترم حقوق الآخرين
ومعلوماتهم

أترك الإسراف في قضاء
الوقت عند استعمال الإنترنت



٢

نشاط

أ- يضع الطلبة العبارات الآتية في مكانها المناسب:

- الحصول على تغذية صحيّة - العمل بجد - طاعة ولي الأمر - احترام الآخرين -
الحصول على عناية صحيّة - الحصول على تعليم.

الواجبات

الحقوق

ب- ما فائدة الالتزام بالمسؤوليات؟



الدرس الرابع والعشرون

العمل الجماعي



- ❓ هل يمكن أن يؤدي شخص واحد عمل الجميع؟ ولماذا؟
- ❓ ماذا نستفيد من العمل الجماعي؟



يكون العمل الجماعي بين اثنين أو أكثر، وتُوزَع الأعمال بينهم بقيادة أحدهم، ويتعاونون في أدائها من أجل تحقيق الهدف الذي يقصدونه.



مجموعة من الطلاب يعملون معاً في أعمال تشجير المدرسة

❓ ماذا نستفيد من العمل الجماعي في حياتنا؟

- نستطيع عندما نعمل معاً أن:
- ◆ ننهى العمل سريعاً، وبجودة أفضل.
- ◆ نتغلب على الصعوبات، كي نصل إلى الهدف المقصود.
- ◆ نتعلم فيما بيننا.
- ◆ نعزز الثقة بأنفسنا.



١

نشاط

تتكون فرق العمل من عدد من الأشخاص، وهناك عدد من العوامل لتحقيق النجاح في العمل الجماعي، مثل:

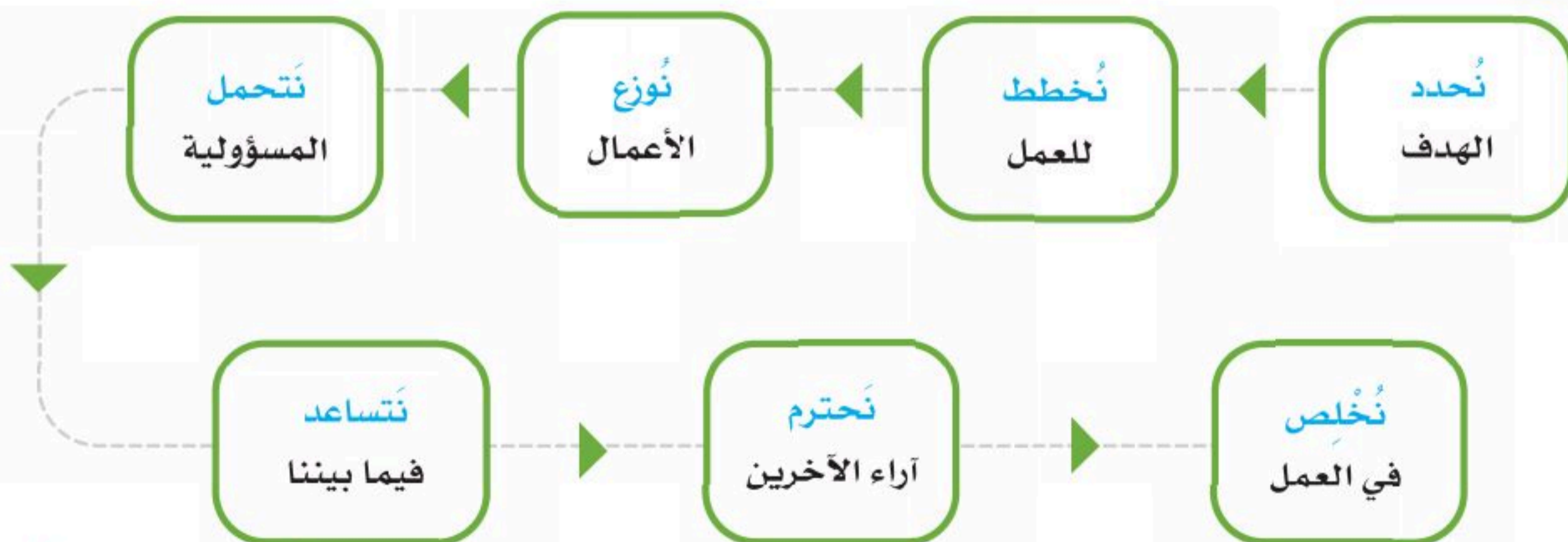
- ١- تحديد الهدف من العمل.
- ٢- التخطيط للعمل.
- ٣- الالتزام في العمل.
- ٤- تحديد الأعمال تحديداً دقيقاً.

● يذكر الطلبة عوامل أخرى:

- ٥-
- ٦-
- ٧-

◀ عوامل نجاح العمل الجماعي

يعتمد العمل الجماعي على عدد من العوامل التي تساعد على نجاحه، ومن أبرزها ما يأتي:





٢

نشاط

● أ- ما الفرق بين العمل الفردي والعمل الجماعي من حيث النتائج؟

.....

•

● ب- كيف يتم تكوين فريق العمل الجماعي؟

.....

•

● ج- ما فائدة العمل الجماعي للوطن؟

.....

•





اقرأ النص ثم أجب عن الأسئلة
في رمز الاستجابة المرفق



الاجتهادُ طريقُ النجاحِ (قصةٌ من التراثِ الصيني)

في قريةٍ صغيرةٍ وبعيدةٍ عاشَ صبيٌّ من عائلةٍ فقيرةٍ جداً، تحاولُ جاهدةً الحصولَ على قوتها اليومي وسقفٍ يُظل رؤوسهم، ولا شيء أكثر من ذلك. كان الصبيُّ مجتهداً في دراسته رغم ظروفه القاسية؛ فهو يساعدُ والديه في العملِ بعد عودته من المدرسة، وفي الليل يُذاكر دروسه على ضوءِ مصباحٍ صغيرٍ في كوخهم الخشبي الذي لم يكن نورُه كافياً لكي يقرأ جيداً. يتساءل في نفسه قائلاً: كيف سأكون قادراً على المذاكرة والنجاح والوصول للجامعة وأنا أدرس في هذا الظلام؟! إنَّ الأمرَ مستحيل!

في ليلة شتوية وبينما هو يتأمل منظر الثلج من النافذة، أدرك أن الثلج ينبعث منه ضوء أبيض خافت وجميل لكنه غير محسوس بوضوح، قرر الصبي الذي كان ذكياً جداً الاستفادة من هذه الفرصة الصغيرة، فأخذ معطفه ولوازم المدرسة وخرج من غرفته، كانت كومة الثلج سميكة جداً جلس عليها وفتح كتابه، وبفضل الضوء الأبيض الذي عكسه الثلج استطاع الرؤية والقراءة، كان البرد شديداً لدرجة أنه يصعب عليه قلب صفحات الكتاب، لكنه ظل صابراً لأنه يرى أن النجاح لا يكون إلا بالصبر والمثابرة، وبقي هناك طوال الليل، وفي كل ليلة من ليالي الشتاء يفعل الأمر نفسه.

مر الشتاء بسرعة وأقبل الربيع وذاب الثلج، حزن الصبي وبكى على ذوبان الثلج فهو يرى فرصته الوحيدة للدراسة تذوب أمام عينيه. حاول النوم تلك الليلة فلم يستطع وأخذ يتقلب على سريره ثم نظر إلى النافذة ورأى منظر الربيع وقد جلب الكثير من اليراعات التي أضاءت المكان، لقد أذهله المشهد الجميل وفجأة طرأت له فكرة جديدة، فركض إلى غرفته والتقط كتبه وعاد إلى الغابة، وجلس تحت جذع شجرة ضخمة وترك اليراعات تقترب منه، كان النور كافياً ليرى الكتاب ويقرأ وشعر عندها بالسعادة الغامرة مرة أخرى.

ليلة بعد ليلة كرر الأمر نفسه يدرس تحت ضوء الحشرات الصغيرة، لقد استطاع التقدم في دراسته وحاول التغلب على ظروفه الصعبة بالجهد والصبر حتى استطاع دخول الجامعة ليصبح بعدها طبيباً ناجحاً ويتمكن من انتشال عائلته من الفقر؛ فقد واجه الصعوبات بالصبر والحماس والمثابرة حتى تحقق حلمه، إن لكل فرد من قدرات ومهارات يستطيع بها أن يواجه ظروفه ليحقق أهدافه وطموحاته مثل ما فعل هذا الصبي.



يجيب الطلبة عن الأسئلة الآتية:

١- ضع عنواناً آخرًا مناسباً للقصة.

٢- ما الفكرة الرئيسة للفقرة الثانية؟

٣- يختار الطلبة الإجابة الصحيحة فيما يأتي:

أ- كيف يحقق الإنسان أهدافه؟

- يستسلم لظروفه. يعتمد على الآخرين.
- يتمنى حظ الآخرين. يواجه ظروفه بالصبر والاجتهاد.

ب- أين عاش الصبي؟

- في قرية. في مدينة. في غابة. في صحراء.

ج- لماذا حزن الصبي على ذوبان الثلج؟

- لأن الثلج موسم التزلج واللعب. لأن الثلج يبهج النفس.
- لأن الثلج يعكس الضوء. لأن الثلج يجذب الحشرات.

د- أي من العبارات التالية تدل على حزن الصبي عند انتهاء فصل الشتاء؟

- كان الصبي مجتهداً في دراسته. رأى فرصته الوحيدة للدراسة تذوب أمام عينيه.
- جلس على كومة الثلج السمينة جداً وفتح كتابه. واجه الصعوبات بالصبر والحماس والمثابرة.





تقويم الوحدة السادسة



وزارة التعليم

Ministry of Education

2024 - 1446

١ يكمل الطلبة الفراغات الآتية:

- أ- الأسرة هي أساس
- ب- يتكون المجتمع من عدّة
- ج- لكل شخص خاصة تميزه عن الآخرين.
- د- أقاربي من جهة أبي هم أعمامي وعماتي. وأقاربي من جهة أمي هم:

٢ يكتب الطلبة ثلاثاً من فوائد العمل الجماعي:

- ١-
- ٢-
- ٣-

٣ في رأيك، ما أهم الواجبات التي ينبغي على الطلبة التزامها في المدرسة؟

- ١-
- ٢-
- ٣-

٤ في رأيك، ما أهم الحقوق التي ينبغي توفيرها للطلبة في المدرسة؟

- ١-
- ٢-
- ٣-



٥ يضع الطلبة علامة (✓) أمام العبارة الصحيحة، وعلامة (X) أمام العبارة غير الصحيحة:

أ- المواطن الصالح هو من يلتزم النظام.

ب- أتواصل مع من لا أعرفهم عند استعمال الإنترنت.

ج- لا أتلفظ على الآخرين بألفاظ غير مناسبة عندما

أتواصل معهم رقمياً.

د- لا يحق لي السخرية من الآخرين بتاتا.

٦ مم تتكون أسرتك؟

.....

•

٧ ما الفرق بين الحقوق والمسؤوليات؟

.....

•



٨ يصل الطلبة ما في المجموعة (أ) بما يناسبها في المجموعة (ب) باستعمال الأرقام:

المجموعة (ب)	المجموعة (أ)
طاعتها. <input type="checkbox"/>	١- يتكون المجتمع من
في سلة المهملات. <input type="checkbox"/>	٢- من حقوق الوالدين
عدة أسر. <input type="checkbox"/>	٣- من مسؤولية الطالب رمي المخالفات
بين الأفراد. <input type="checkbox"/>	٤- من عوامل نجاح العمل الجماعي
تحديد الهدف. <input type="checkbox"/>	٥- في العمل يجب توزيع الأعمال

٩ ما وجه الشبه بين المدرسة والأسرة؟

.....

.....

.....

