

تم تحميل وعرض هذا المادة من موقع واجبي:



www.wajibi.net

اشترك معنا ليصلك كل جديد:





أوراق عمل



الصف الأول متوسط

الفصل الدراسي الأول

ورقة عمل درس المجموعة الشمسية

اسحب السماء الكواكب حسب بعدها عن الشمس

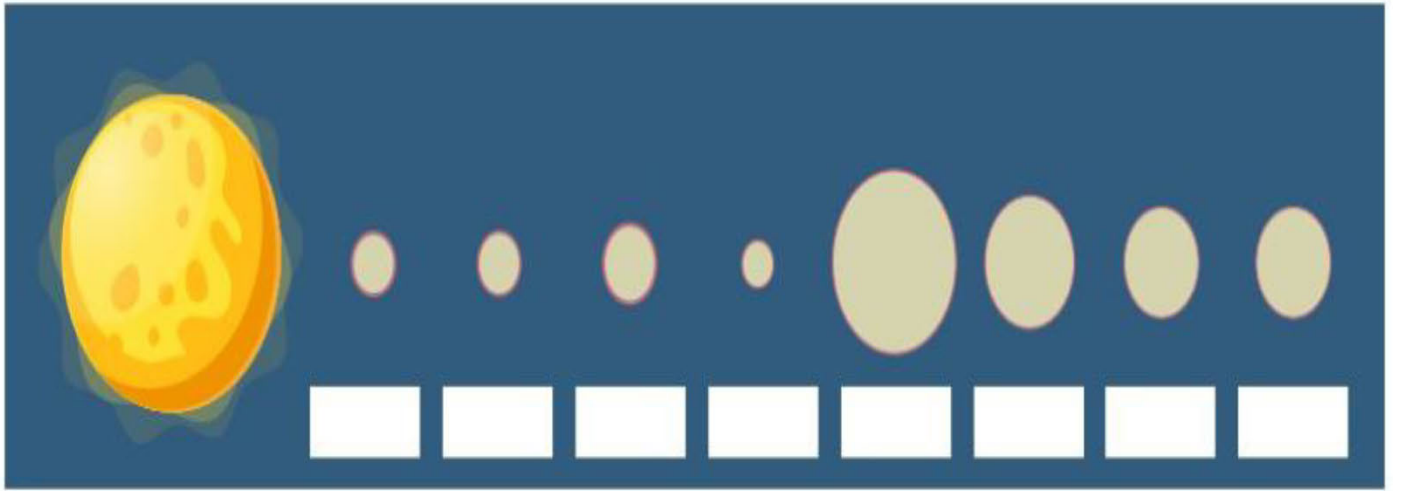
زحل

المشتري

المريخ

الزهرة

عطارد



اختر الإجابة الصحيحة مما يلي:

(١) أكبر كوكب في المجموعة الشمسية

زحل

عطارد

المشتري

(٢) اصغر كوكب في المجموعة الشمسية

زحل

عطارد

المشتري

ورقة عمل درس شكل الارض

ضع إشارة صح أو خطأ أمام العبارة كلاً من العبارات التالية

١) شكل الارض كامل الاستدارة

٢) ابعاد الارض متساوية

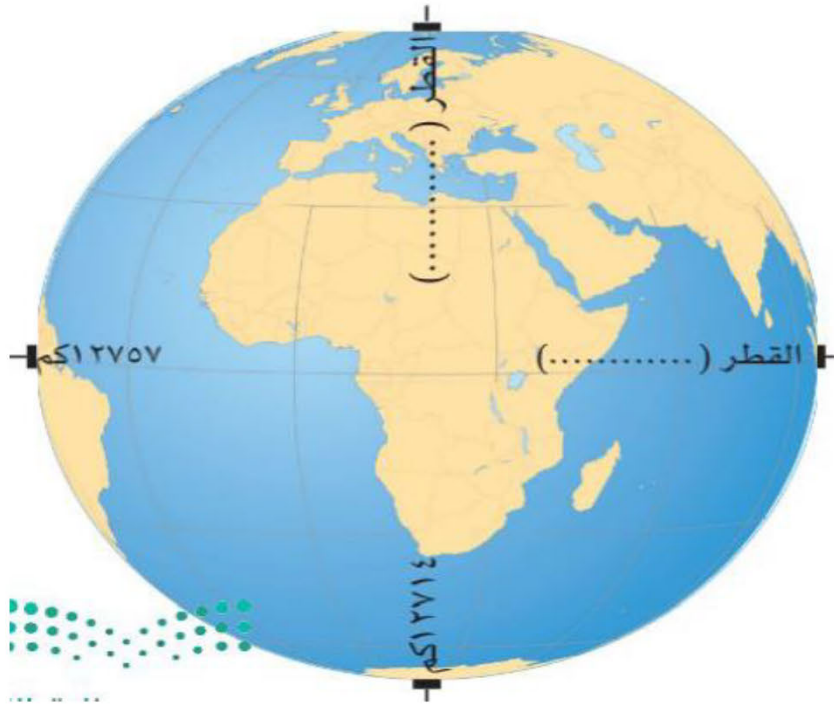
٣) يمتد محور الارض القطبي من الشمال الى الجنوب

٤) القطر الاستوائي خط وهمي مستقيم يصل بين ابعاد نقطتين على خط الاستواء ويمر بمركز الارض

اسحب الكلمات لملاً ما يناسبها

الاستوائي

القطبي



ورقة عمل درس خطوط الطول ودوائر العرض

اسحب الكلمات ملأ ما يناسبها

متساوية في الطول

غير متساوية في الطول

دوائر

انصاف الدوائر

دوائر العرض	خطوط الطول

اختر الإجابة الصحيحة مما يلي:

١) خطوط وهمية طولية ترسم على شكل الكرة الأرضية من القطب الشمالي إلى القطب الجنوبي

دوائر العرض

خطوط الطول

٢) دوائر وهمية عرضية ترسم على نموذج الكرة الأرضية والخرائط

دوائر العرض

خطوط الطول

ورقة عمل درس حركة الارض

اسحب الكلمات ملأ ما يناسبها

ثبات ميل محور

ميل محور الارض

دوران الارض حول الشمس

دوران الارض حول محورها

اسباب ظاهرة تعاقب الليل والنهار	اسباب ظاهرة الفصول المناخية الاربعة

اختر الإجابة الصحيحة مما يلي:

١) عندما تكون الشمس عمودية على مدار السرطان يكون في النصف الشمالي

للارض

فصل الربيع

فصل الشتاء

فصل الصيف

٢) عندما تكون الشمس عمودية على مدار الجدي يكون في النصف الشمالي للارض

فصل الربيع

فصل الشتاء

فصل الصيف

ورقة عمل درس سطح الأرض

اختر الإجابة الصحيحة مما يلي:

(١) أكبر محيط هو

المحيط الهندي

المحيط الاطلنطي

المحيط الهادي

(٢) اصغر محيط هو

المحيط المتجمد الشمالي

المحيط الاطلنطي

المحيط الهادي

(٣) مسطح مائي مالح واسع عميق يحيط بكتل اليابسة

المحيط

النهر

الهضبة

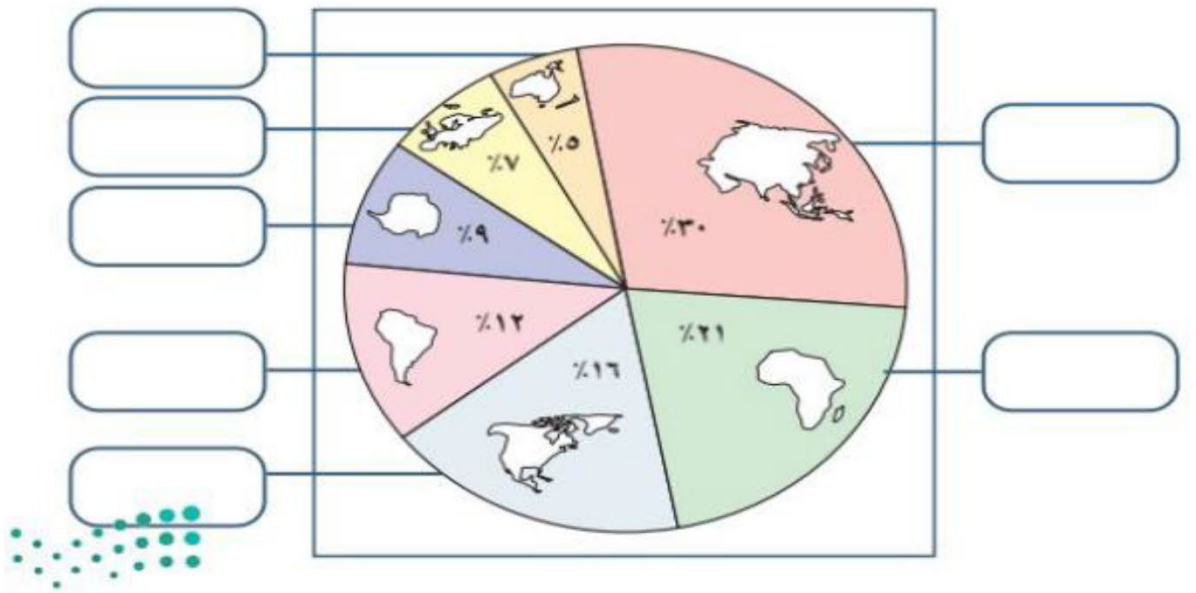
اسحب الكلمات ملأ يناسبها

قارة امريكا الشمالية

قارة استراليا

قارة إفريقيا

قارة آسيا



ورقة عمل درس الحضارات القديمة

صل المجموعة (أ) بما يناسبها من المجموعة (ب) :

المجموعة (ب)	المجموعة (أ)
نشأت المدن الكبيرة فيها على ضفاف نهر النيل هي تفاعل المجموعات البشرية مع البيئات المحيطة بهم نشأت في بلاد ما بين النهرين في العراق	الحضارة حضارة بلاد الرافدين حضارة مصر القديمة

إسحب الكلمات ملأً يناسبها:

السومريون

البيت الحرام (الكعبة)

المناخ

مصر القديمة

- اول بيت وضع للناس على وجه الأرض.....
- من ابرز عوامل قيام الحضارة
- من ابرز شعوب في حضارة بلاد الرافدين القديمة
- في حضارة عرفت الكتابة الهيروغليفية

ورقة عمل درس الحضارة الإسلامية

صل المجموعة (أ) بما يناسبها من المجموعة (ب) :

المجموعة (أ)	المجموعة (ب)
الوزارة	مهمته نقل الرسائل بين الخليفة وولاة الأقاليم
الشرطة	تعني المعاونة في تحمل الأعباء
البريد	رجال يتولون حفظ الأمن ليلا

اختر الإجابة الصحيحة مما يلي:

(١) هو جمع واردات الدولة وتنظيمها وتحقق التوازن بين الموارد والمصروفات

القضاء

الدواوين

بيت المال

(٢) هم رجال يتولون حفظ الامن ليلا

القضاء

الوزراء

العسس

(٣) الاساس الاول للحضارة الاسلامية

الاساس العلمي

الاساس اللغوي

الاساس الديني

ورقة عمل درس العلوم والمعارف في الحضارة الإسلامية

صل المجموعة (أ) بما يناسبها من المجموعة (ب) :

المجموعة (أ)	المجموعة (ب)
العلوم الشرعية	علم الفيزياء - علم الكيمياء
علوم اللغة العربية	علم التفسير - علم الفقه
العلوم الطبيعية	علم النحو - علم الادب

ضع إشارة صح أو خطأ أمام العبارة كلاً من العبارات التالية

(١) علم الفقه يقصد به استنباط الاحكام الشرعية من القرآن الكريم والسنة النبوية

(٢) طور المسلمون اسس الطب واعتنوا به

(٣) لم يعتني المسلمين بالترجمة

ورقة عمل درس العمارة والفنون في الحضارة الإسلامية

اختر الإجابة الصحيحة مما يلي:

(١) يقع مسجد القبلتين

دمشق

تونس

المدينة المنورة

(٢) يقع المسجد الاموي في

دمشق

تونس

المدينة المنورة

(٣) ارتبط الفن الاسلامي ب

المدن

الحضارة

الدين

اسحب الكلمات ملأ ما يناسبها

القلع والحصون

المآذن

الجامع الاموي

- ابداع المسلمون في فن العمارة والزخرفة الإسلامية فبنوا
- من اشهر المساجد التي بناها المسلمون مسجد
- اعتنى المسلمون ببناء لحماية حدود الدولة

ورقة عمل درس الجوانب الاقتصادية في الحضارة الاسلامية

صل المجموعة (أ) بما يناسبها من المجموعة (ب) :

المجموعة (أ)	المجموعة (ب)
الزراعة	مثل صناعة الادوية - الزجاج - الاسلحة
الصناعة	اسهمت في نشر الاسلام لامانة المسلمين في التعامل
التجارة	المصدر الاول لغذاء الانسان

ضع إشارة صح أو خطأ أمام العبارة كلاً من العبارات التالية

١. ازدهرت الصناعة في العصر الاسلامي

٢. تقدم العلم يؤدي لإزدهار الصناعة

٣. لم يعتنوا المسلمون بالزراعة

ورقة عمل درس التخطيط وأهدافه

اسحب الكلمات ملأ ما يناسبها

نخطط

الوقت

النجاح

الأعمال

يساعدنا التخطيط علىويحقق لنا مجالا للاستمتاع بالوقت عندما

..... جيدا

تنظيم الوقت مهم للتخطيط ويفيدنا في أداء في المحدد لها

ضع إشارة صح أو خطأ أمام العبارة كلاً من العبارات التالية

(١) تعني رؤية ٢٠٣٠ بتحقيق شخصية وطنية تحرص على التخطيط

(٢) من اسس التخطيط تنظيم الوقت

(٣) من نتائج التخطيط التوتر والقلق

ورقة عمل درس تنظيم الوقت

ضع إشارة صح أو خطأ أمام العبارة كلاً من العبارات التالية

(١) الجدية في التزام التخطيط للدراسة

(٢) تصميم جدول للاعمال اليومية

(٣) تحديد الأعمال دون زمن

(٤) تحديد وقت للراحة المنتظمة

(٥) وضع جميع العمال اليومية المهمة وغير المهمة

اسحب الكلمات لملاً ما يناسبها

جدول

الوقت

الأعمال

من ابرز خطوات تنظيم الوقت :

١- حصراليومية

٢- تحديد لإنجاز الاعمال

٣- تصميم للاعمال التي جرى حصرها