


تم تحميل وعرض هذا المادة من موقع واجبي:



www.wajibi.net

اشترك معنا ليصلك كل جديد:

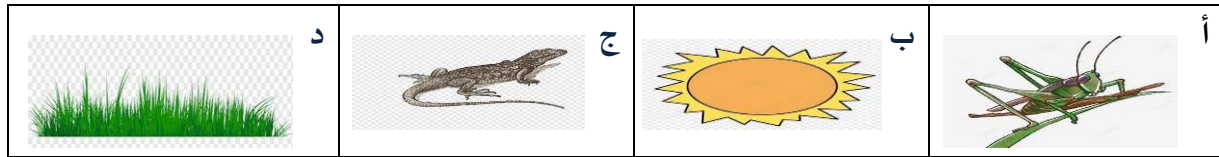




تقويم ختامي لمهارات علوم الصف الثاني_ الفصل الدراسي الاول لعام ١٤٤٥ هـ.

* / نضع علامة (✓) تحت الأجوبة الصحيحة :

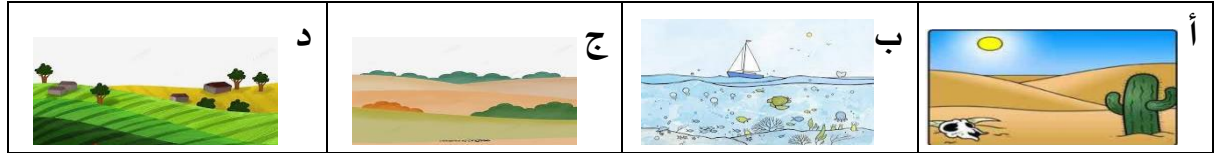
١ / أي المراحل التالية تمثل بداية السلسلة الغذائية :



٢ / كيف تختلف النباتات عن باقي المخلوقات ؟

د	ج	ب	أ
تنتج غذاءها من الشمس	تحتاج للماء لتعيش	تحتاج للهواء لتنمو	تحتل مكان صغير


٣ / أي من هذه المواطن تعيش فيها السحلية :



٤ / ما الخاصية التي ساعدت الدب القطبي على العيش في المنطقة القطبية :

د	ج	ب	أ
الاسنان الحادة	الحرشيف	العيون الحادة	الفرو السميك

٥ / المرحلة الأخيرة من دورة حياة الفراشة هي :



• نرتب دورة حياة الفاصولياء



*نرتب حيوانات السلسلة الغذائية من ١ - ٤



*كيف نعرف أن الشيء مخلوق حي؟

١- ٢- ٣- ٤-

نضع كل كلمة تحت مكانها الصحيح:

تعيش الحيوانات التالية في المواطن (صحراء - غابة - صحراء باردة - غابة مطيرة)



سكرة الشمري



انتهت الاسئلة ...