

التاريخ:	 وزارة التعليم Ministry of Education	المملكة العربية السعودية
المادة: العلوم		وزارة التعليم
الصف: الأول الابتدائي		الإدارة العامة للتعليم بمنطقة
الفصل /		اسم الطالب/ة

تقويم ختامي لمهارات علوم الصف الأول – (الفصل الدراسي الثالث) عام ١٤٤٤

السؤال الأول: نكتب (الصيف_ الشتاء_ الربيع_ الخريف) تحت صورة كل فصل:

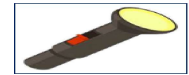
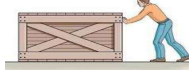








السؤال الثاني: نصل كل كلمة بالصورة المناسبة:



غائم

ضوء

حرارة

صوت

دفع

السؤال الثالث: نحدد موقع الأشياء ب (تحت_ يمين - فوق _ خلف) تحت كل صورة:


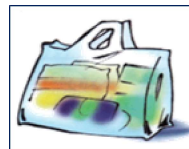







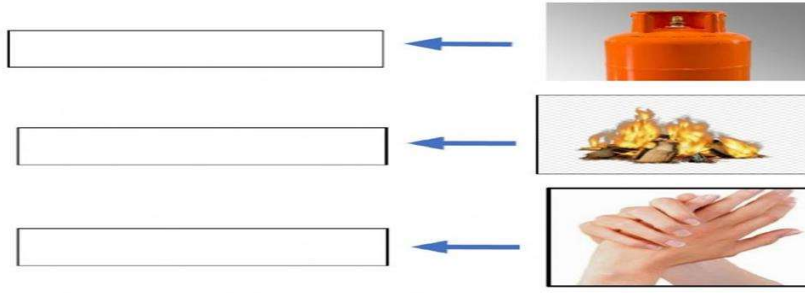


السؤال الرابع: * نضع إشارة صح تحت الجسم الذي يسمح بمرور الضوء من خلاله:




ب/ ايهما نلبس في فصل الشتاء؟ ←

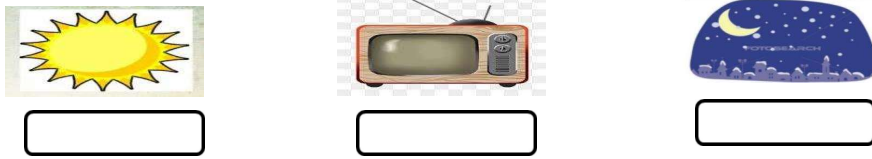
السؤال الخامس: نكتب مصادر الحرارة بجانب كل صورة (الاحتكاك * احتراق الخشب * الغاز)



السؤال السادس: ١. أيهما يصدر صوت:



٢. ما مصادر الضوء الطبيعية على الأرض:



السؤال السابع: ١. نصف نوع الحركة في الصور التالية (دورانية * مستقيم * متعرج):



ب. نصل كل مفردة بمعناها

مقدار البعد بين جسمين

السرعة

وصف حركة الجسم سريعة او بطيئة

المسافة



بالتوفيق يا صغاري

سكره الشمري

التاريخ:	 وزارة التعليم Ministry of Education	المملكة العربية السعودية
المادة: العلوم		وزارة التعليم
الصف: الأول الابتدائي		الإدارة العامة للتعليم بمنطقة
اسم الطالب/ة.....		الفصل/.....

تقويم ختامي لمهارات علوم الصف الأول - (الفصل الدراسي الثالث) عام ١٤٤٤

السؤال الأول: نكتب (الصيف الشتاء الربيع الخريف) تحت صورة كل فصل:



الخريف



الربيع



الشتاء



الصيف

السؤال الثاني: نصل كل كلمة بالصورة المناسبة:

غانم



- غانم
- ضوء
- حرارة
- صوت
- دفع

السؤال الثالث: نحدد موقع الأشياء ب (تحت - يمين - فوق - خلف) تحت كل صورة:



فوق



تحت





يمين



خلف

السؤال الرابع: * نضع إشارة صح تحت الجسم الذي يسمح بمرور الضوء من خلاله:





ب/ ايهما نلبس في فصل الشتاء؟






غي عطاء مة

السؤال الخامس: نكتب مصادر الحرارة بجانب كل صورة (الاحتكاك * احتراق الخشب * الغاز)

<input type="text" value="الغاز"/>	←	
<input type="text" value="احتراق الخشب"/>	←	
<input type="text" value="الاحتكاك"/>	←	

السؤال السادس: ١. أيهما يصدر صوت :

		
<input type="text"/>	<input type="text"/>	<input checked="" type="text"/>

٢ / ما مصادر الضوء الطبيعية على الأرض :

		
<input checked="" type="text"/>	<input type="text"/>	<input type="text"/>

السؤال السابع: ١. نصف نوع الحركة في الصور التالية (دورانية * مستقيم * متعرج):

		
<input type="text" value="دورانية"/>	<input type="text" value="متعرج"/>	<input type="text" value="مستقيم"/>

ب. نصل كل مفردة بمعناها

<u>مقدار البعد بين جسمين</u>	<input type="text" value="السرعة"/>
<u>وصف حركة الجسم سريعة او بطيئة</u>	<input type="text" value="المسافة"/>



بالتوفيق يا صغاري

سكره الشمري

تم الحل بواسطة:

غي عطاء مة