

تم تحميل وعرض هذا المادة من موقع واجبي:



www.wajibi.net

اشترك معنا ليصلك كل جديد:





اختبار منتصف الفصل الدراسي الثالث

٢٠ درجة

الاسم :

١٢ درجة

السؤال الأول: اختر الإجابة الصحيحة لكل فقرة

(١) مساحة الشكل المركب = ملم^٢

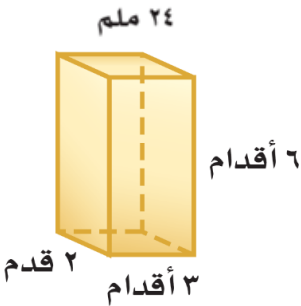


- أ ٢٥٠ ب ٢٤٠ ج ٢٤٥ د ٢٥٥

(٢) مجسم قاعدته الوحيدة مضلع وواجهه مثلثات.

- أ الأسطوانة ب المخروط ج الحجم د الهرم

(٣) حجم المنشور بالشكل المجاور = قدم^٣

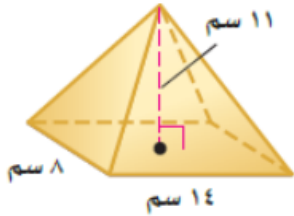


- أ ٣٦ ب ٣٤ ج ٣٢ د ٣٠

(٤) المستقيم الناتج عن تقاطع مستويين يسمى

- أ الوجه ب الحرف ج الرأس د القطر

(٥) حجم الهرم بالشكل المجاور = سم^٣

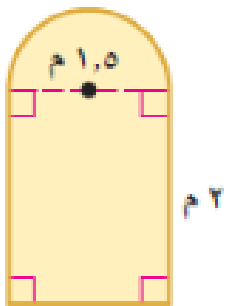


- أ ٤١٠,٧ ب ٥١٠,٧ ج ٣١٠,٧ د ٧١٠,٧

(٦) مجسم قاعدته دائرتان متطابقتان ومتوازيتان يسمى

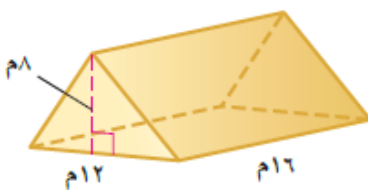
- أ المنشور ب المخروط ج الأسطوانة د الهرم

(٧) صممت نافذة كما في الشكل المجاور فما مساحتها بالمتر المربع ؟



- أ ٣,١ م^٢ ب ٣,٩ م^٢ ج ٤,١ م^٢ د ٤,٩ م^٢

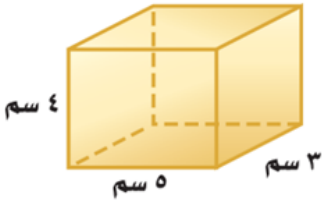
(٨) حجم المنشور بالشكل المجاور =



- أ ٧٤٨ م^٣ ب ٧٥٨ م^٣ ج ٧٦٨ م^٣ د ٧٧٨ م^٣

(٩) المساحة الجانبية لسطح أسطوانة ارتفاعها ٥ بوصات و نصف قطر القاعدة ١,٥ بوصة

- أ ٤٥,١ ب ٤٧,١ ج ٤٩,١ د ٤٣,١



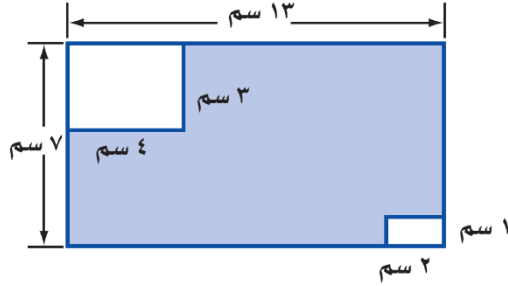
١٠ المساحة الكلية لسطح المنشور =

- أ ٩٤ سم^٢ ب ٨٤ سم^٢ ج ٧٤ سم^٢ د ٦٤ سم^٢



١١ حجم المخروط بالشكل المجاور =

- أ ١٥٣,٢ م^٣ ب ١٦٣,٢ م^٣ ج ١٧٣,٢ م^٣ د ١٨٣,٢ م^٣



١٢ مساحة المنطقة المظللة بالشكل =

- أ ٩١ سم^٢ ب ٨٢ سم^٢ ج ٦٣ سم^٢ د ٧٤ سم^٢

٤ درجات

السؤال الثاني: ضع الرقم المناسب من المجموعة (أ) أمام ما يناسبه من المجموعة (ب) :

م	المجموعة (أ)	م	المجموعة (ب)
١	نقطة تقاطع ثلاثة مستويات أو أكثر		الحرف
٢	مجسم له وجهان متوازيان ومتطابقان يسميان القاعدتين		الشكل المركب
٣	شكل ثلاثي الأبعاد له قاعدة دائرية و سطح منحنى يصل القاعدة بالرأس		الرأس
٤	قياس الحيز الذي يشغله الجسم في الفضاء ويقاس بالوحدات المكعبة		المخروط
٥			المنشور
٦			الحجم

٤ درجات

السؤال الثالث: حدد اسم المجسم التالي و بين عدد أوجهه وشكلها ثم أذكر عدد الأحراف والرؤوس

عدد الرؤوس	عدد الأحراف	عدد الأوجه وشكلها	اسم المجسم	المجسم
				



اختبار منتصف الفصل الدراسي الثالث

٢٠ درجة

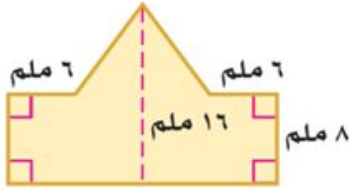
D M

الاسم :

١٢ درجة

السؤال الأول: اختر الإجابة الصحيحة لكل فقرة

(١) مساحة الشكل المركب = ملم^٢



- أ ٢٥٠ ب ٢٤٠ ج ٢٤٥ د ٢٥٥

(٢) مجسم قاعدته الوحيدة مضلع وواجهه مثلثات.

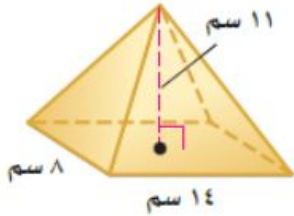


- أ الأسطوانة ب المخروط ج الحجم د الهرم

(٣) حجم المنشور بالشكل المجاور = قدم^٣

- أ ٣٦ ب ٣٤ ج ٣٢ د ٣٠

(٤) المستقيم الناتج عن تقاطع مستويين يسمى

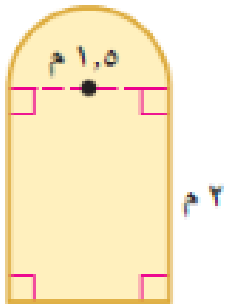


- أ الوجه ب الحرف ج الرأس د القطر

(٥) حجم الهرم بالشكل المجاور = سم^٣

- أ ٤١٠,٧ ب ٥١٠,٧ ج ٣١٠,٧ د ٧١٠,٧

(٦) مجسم قاعدته دائرتان متطابقتان ومتوازيتان يسمى

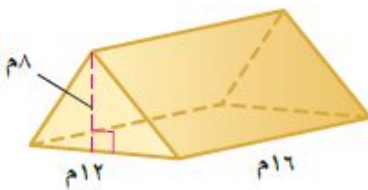


- أ المنشور ب المخروط ج الأسطوانة د الهرم

(٧) صممت نافذة كما في الشكل المجاور فما مساحتها بالمتر المربع ؟

- أ ٣,١ م^٢ ب ٣,٩ م^٢ ج ٤,١ م^٢ د ٤,٩ م^٢

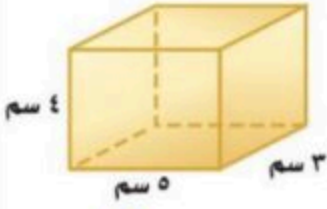
(٨) حجم المنشور بالشكل المجاور =



- أ ٧٤٨ م^٣ ب ٧٥٨ م^٣ ج ٧٦٨ م^٣ د ٧٧٨ م^٣

(٩) المساحة الجانبية لسطح أسطوانة ارتفاعها ٥ بوصات ونصف قطر القاعدة ١,٥ بوصة

- أ ٤٥,١ ب ٤٧,١ ج ٤٩,١ د ٤٣,١



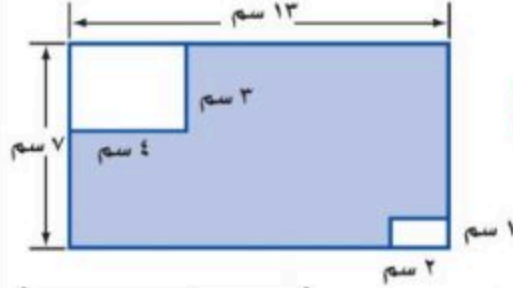
١٠ المساحة الكلية لسطح المنشور =

- أ ٩٤ سم^٢ ب ٨٤ سم^٢ ج ٧٤ سم^٢ د ٦٤ سم^٢



١١ حجم المخروط بالشكل المجاور =

- أ ١٥٣,٢ م^٣ ب ١٦٣,٢ م^٣ ج ١٧٣,٢ م^٣ د ١٨٣,٢ م^٣



١٢ مساحة المنطقة المظللة بالشكل =

- أ ٩١ سم^٢ ب ٨٢ سم^٢ ج ٦٣ سم^٢ د ٧٧ سم^٢

٤ درجات

السؤال الثاني: ضع الرقم المناسب من المجموعة (أ) أمام ما يناسبه من المجموعة (ب) :

م	المجموعة (أ)	م	المجموعة (ب)
١	نقطة تقاطع ثلاثة مستويات أو أكثر		الحرف
٢	مجسم له وجهان متوازيان ومتطابقان يسميان القاعدتين		الشكل المركب
٣	شكل ثلاثي الأبعاد له قاعدة دائرية و سطح منحنى يصل القاعدة بالرأس	١	الرأس
٤	قياس الحيز الذي يشغله الجسم في الفضاء ويقاس بالوحدات المكعبة	٣	المخروط
٥		٢	المنشور
٦		٤	الحجم

٤ درجات

السؤال الثالث: حدد اسم المجسم التالي وبن عدد أوجهه وشكلها ثم أذكر عدد الأحرف والرؤوس

عدد الرؤوس	عدد الأحرف	عدد الأوجه وشكلها	اسم المجسم	المجسم
٥ رؤوس	٨ أحرف	٥ أوجه مستطيل و ٤ مثلثات	هرم رباعي	



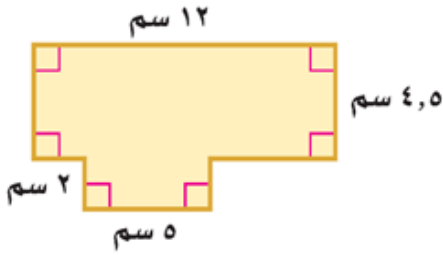
اختبار منتصف الفصل الدراسي الثالث

٢٠ درجة

الاسم :

١٠ درجات

السؤال الأول: اختر الإجابة الصحيحة لكل فقرة



(١) مساحة الشكل المركب = سم^٢

- أ ٥٤ ب ٦٤ ج ٧٤ د ٨٤

(٢) أوجد حجم منشور رباعي طوله ٣ سم وعرضه ٢ سم وارتفاعه ٦ سم

- أ ٣٦ سم^٣ ب ٣٤ سم^٣ ج ٣٢ سم^٣ د ٣٠ سم^٣

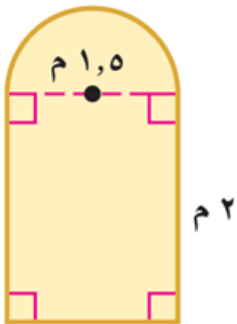
(٣) نقطة تقاطع ثلاثة مستويات أو أكثر

- أ الوجه ب الحرف ج الرأس د القطر

(٤) أوجد حجم هرم رباعي طوله ١٤ سم وعرضه ٨ سم وارتفاعه ١١ سم.

- أ ٤١٠,٧ سم^٣ ب ٥١٠,٧ سم^٣ ج ٣١٠,٧ سم^٣ د ٧١٠,٧ سم^٣

(٥) صممت نافذة كما في الشكل المجاور فما مساحتها بالمتر المربع ؟



- أ ٣,١ م^٢ ب ٣,٩ م^٢ ج ٤,١ م^٢ د ٤,٩ م^٢

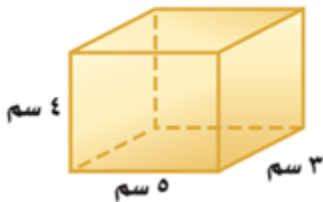
(٦) أوجد حجم منشور ثلاثي ارتفاعه ١٦ م وقاعدته مثلثة الشكل ارتفاعها ٨ م وطول قاعدتها ١٢ م

- أ ٧٤٨ م^٣ ب ٧٥٨ م^٣ ج ٧٦٨ م^٣ د ٧٧٨ م^٣

(٧) أوجد حجم مخروط نصف قطر قاعدته ٥ م وارتفاعه ٧ م

- أ ١٥٣,٢ م^٣ ب ١٦٣,٢ م^٣ ج ١٧٣,٢ م^٣ د ١٨٣,٢ م^٣

(٨) أوجد المساحة الكلية لسطح منشور

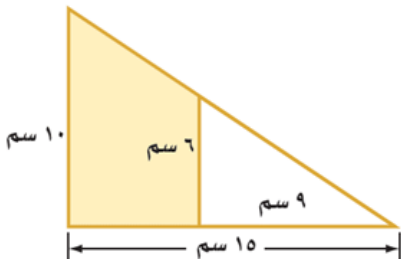


- أ ٩٤ سم^٢ ب ٨٤ سم^٢ ج ٧٤ سم^٢ د ٦٤ سم^٢

(٩) المساحة الجانبية لسطح أسطوانة ارتفاعها ٥ بوصات ونصف قطر القاعدة ١,٥ بوصة

- أ ٤٥,١ ب ٤٧,١ ج ٤٩,١ د ٤٣,١

(١٠) مساحة المنطقة المظللة بالشكل =



- أ ٦١ سم^٢ ب ٥٢ سم^٢ ج ٤٨ سم^٢ د ٦٤ سم^٢

٤ درجات

السؤال الثاني: حدد اسم المجسم التالي ويّين عدد أوجهه وشكلها ثم أذكر عدد الأحرف والرؤوس

عدد الرؤوس	عدد الأحرف	عدد الأوجه وشكلها	اسم المجسم	المجسم
				

٦ درجات

السؤال الثالث: ضع الرقم المناسب من المجموعة (أ) أمام ما يناسبه من المجموعة (ب) :

م	المجموعة (أ)	م	المجموعة (ب)
١	مجسم قاعدته دائرتان متطابقتان ومتوازيان		المنشور
٢	مجسم له وجهان متوازيان ومتطابقان يسميان القاعدتين		الشكل المركب
٣	شكل ثلاثي الأبعاد له قاعدة دائرية و سطح منحنى يصل القاعدة بالرأس		الهرم
٤	يتكون من شكلين بسيطين أو أكثر		الحجم
٥	قياس الحيز الذي يشغله الجسم في الفضاء ويقاس بالوحدات المكعبة		المخروط
٦	مجسم قاعدته الوحيدة مضلع ووجهه مثلثات.		الأسطوانة



اختبار منتصف الفصل الدراسي الثالث

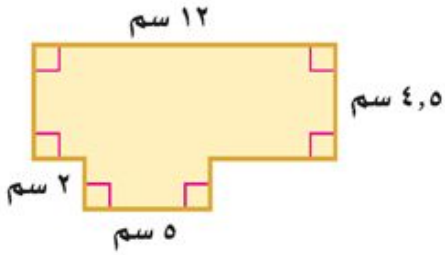
٢٠ درجة

D M

الاسم :

١٠ درجات

السؤال الأول: اختر الإجابة الصحيحة لكل فقرة



(١) مساحة الشكل المركب = سم^٢

- أ ٥٤ ب ٦٤ ج ٧٤ د ٨٤

(٢) أوجد حجم منشور رباعي طوله ٣ سم وعرضه ٢ سم وارتفاعه ٦ سم

- أ ٣٦ سم^٣ ب ٣٤ سم^٣ ج ٣٢ سم^٣ د ٣٠ سم^٣

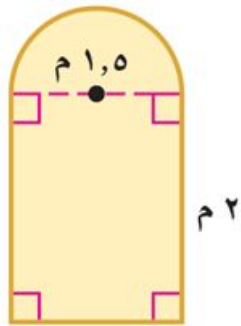
(٣) نقطة تقاطع ثلاثة مستويات أو أكثر

- أ الوجه ب الحرف ج الرأس د القطر

(٤) أوجد حجم هرم رباعي طوله ١٤ سم وعرضه ٨ سم وارتفاعه ١١ سم.

- أ ٤١٠,٧ سم^٣ ب ٥١٠,٧ سم^٣ ج ٣١٠,٧ سم^٣ د ٧١٠,٧ سم^٣

(٥) صممت نافذة كما في الشكل المجاور فما مساحتها بالمتري المربع ؟



- أ ٣,١ م^٢ ب ٣,٩ م^٢ ج ٤,١ م^٢ د ٤,٩ م^٢

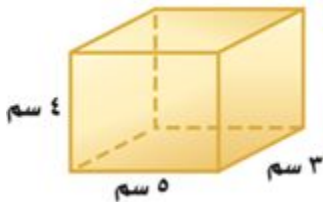
(٦) أوجد حجم منشور ثلاثي ارتفاعه ١٦ م وقاعدته مثلثة الشكل ارتفاعها ٨ م وطول قاعدتها ١٢ م

- أ ٧٤٨ م^٣ ب ٧٥٨ م^٣ ج ٧٦٨ م^٣ د ٧٧٨ م^٣

(٧) أوجد حجم مخروط نصف قطر قاعدته ٥ م وارتفاعه ٧ م

- أ ١٥٣,٢ م^٣ ب ١٦٣,٢ م^٣ ج ١٧٣,٢ م^٣ د ١٨٣,٢ م^٣

(٨) أوجد المساحة الكلية لسطح منشور

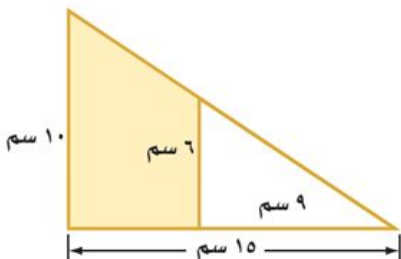


- أ ٩٤ سم^٢ ب ٨٤ سم^٢ ج ٧٤ سم^٢ د ٦٤ سم^٢

(٩) المساحة الجانبية لسطح أسطوانة ارتفاعها ٥ بوصات ونصف قطر القاعدة ١,٥ بوصة

- أ ٤٥,١ ب ٤٧,١ ج ٤٩,١ د ٤٣,١

(١٠) مساحة المنطقة المظللة بالشكل =



- أ ٦١ سم^٢ ب ٥٢ سم^٢ ج ٤٨ سم^٢ د ٦٤ سم^٢

٤ درجات

السؤال الثاني: حدد اسم المجسم التالي وبيّن عدد أوجهه وشكلها ثم أذكر عدد الأحرف والرؤوس

عدد الرؤوس	عدد الأحرف	عدد الأوجه وشكلها	اسم المجسم	المجسم
٦ رؤوس	٩ أحرف	٥ أوجه مثلثات و ٣ مستطيلات	منشور ثلاثي	

٦ درجات

السؤال الثالث: ضع الرقم المناسب من المجموعة (أ) أمام ما يناسبه من المجموعة (ب) :


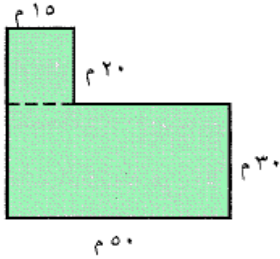
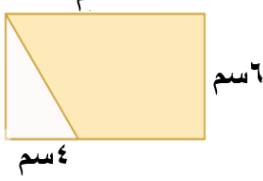
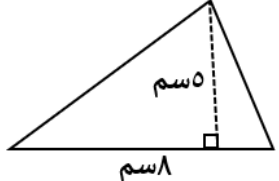
م	المجموعة (أ)	م	المجموعة (ب)
١	مجسم قاعدته دائرتان متطابقتان ومتوازيان	٢	المنشور
٢	مجسم له وجهان متوازيان ومتطابقان يسميان القاعدتين	٤	الشكل المركب
٣	شكل ثلاثي الأبعاد له قاعدة دائرية و سطح منحنى يصل القاعدة بالرأس	٦	الهرم
٤	يتكون من شكلين بسيطين أو أكثر	٥	الحجم
٥	قياس الحيز الذي يشغله الجسم في الفضاء ويقاس بالوحدات المكعبة	٣	المخروط
٦	مجسم قاعدته الوحيدة مضلع ووجهه مثلثات.	١	الأسطوانة

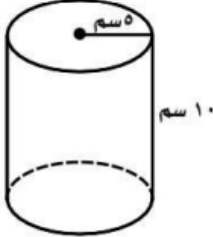



المادة	رياضيات
الصف	ثاني متوسط
الزمن	٤٥ دقيقة
نموذج (أ)	

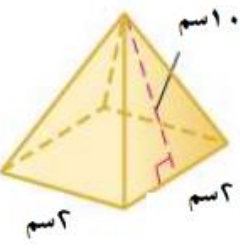
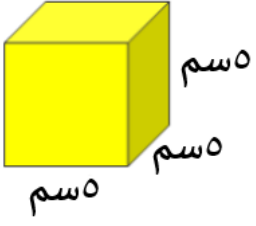
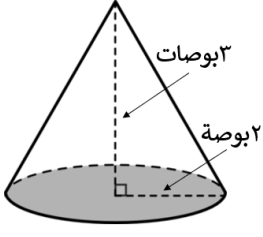
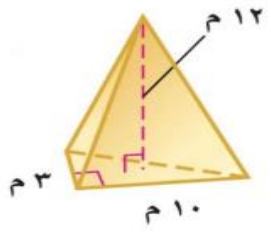
أسئلة اختبار الفترة (الفصل الدراسي الثالث) للعام الدراسي : ١٤٤٣ / ١٤٤٤ هـ

اسم الطالب / الفصل /
٢٠	
استعن بالله ، وأجب على جميع الأسئلة التالية ، مع دعواتنا لكم بالتوفيق ،،،	

السؤال الأول : اختر الإجابة الصحيحة لكل فقرة :

	٤		٣		٢		١
الشكل يسمى		مساحة الشكل المركب		مساحة المنطقة المظلة		مساحة المثلث	
هرم ثلاثي	أ	١٨٠ م ^٢	أ	٩١ سم ^٢	أ	٨٠ سم ^٢	أ
منشور رباعي	ب	٤٩٨ م ^٢	ب	٨٢ سم ^٢	ب	١٨ سم ^٢	ب
مثلث	ج	٧٩٨ م ^٢	ج	٦٦ سم ^٢	ج	١٣ سم ^٢	ج
منشور ثلاثي	د	١٨٠٠ م ^٢	د	٥٤ سم ^٢	د	٢٠ سم ^٢	د

	٨		٧		٦		٥
حجم الأسطوانة		حجم المنشور		شكل القاعدة		عدد رؤوس الشكل	
٧٨٥ سم ^٣	أ	٣٦ قدم ^٣	أ	مثلث	أ	٦	أ
١٠٠ سم ^٣	ب	١٢ قدم ^٣	ب	دائرة	ب	٣	ب
٣١٤ سم ^٣	ج	٣٢ قدم ^٣	ج	مربع	ج	٨	ج
١٧٥ سم ^٣	د	٦ قدم ^٣	د	رباعي	د	٩	د

	١٢		١١		١٠		٩
المساحة الكلية		المساحة الكلية		حجم المخروط		حجم الهرم	
٢٠ سم ^٢	أ	١٥ سم ^٢	أ	٦,٢٨ بوصة ^٣	أ	٦٠ م ^٣	أ
٤٠ سم ^٢	ب	٧٠ سم ^٢	ب	١٢,٥٦ بوصة ^٣	ب	٣٦٠ م ^٣	ب
٨٢ سم ^٢	ج	٥٥٥ سم ^٢	ج	١٨,٨٤ بوصة ^٣	ج	١٢٠ م ^٣	ج
٤٤ سم ^٢	د	١٥٠ سم ^٢	د	٣٧,٦٨ بوصة ^٣	د	١٨٠ م ^٣	د

السؤال الثاني /

ضع الرقم المناسب من المجموعة (أ) أمام ما يناسبه من المجموعة (ب) :

م	المجموعة (أ)	م	المجموعة (ب)
١	مجسم قاعدته دائرتان متطابقتان ومتوازيتان		المنشور
٢	مستقيم ناتج عن تقاطع مستويين		المخروط
٣	قياس الحيز الذي يشغله الجسم في الفضاء ويقاس بالوحدات المكعبة		الرأس
٤	يتكون من شكلين بسيطين أو أكثر		الهرم
٥	مجسم له وجهان متوازيان ومتطابقان يسميان القاعدتين		الأسطوانة
٦	شكل ثلاثي الأبعاد له قاعدة دائرية و سطح منحنى يصل القاعدة بالرأس		الحرف
٧	نقطة تقاطع ثلاثة مستويات أو أكثر		الحجم
٨	مجسم قاعدته الوحيدة مضلع وواجهه مثلثات.		الشكل المركب

وفقكم الله ،،،