

تم تحميل وعرض هذا المادة من موقع واجبي:



www.wajibi.net

اشترك معنا ليصلك كل جديد:



20

الدرجة:

نموذج اختبار منتصف الفترة لمادة الدراسات الاجتماعية للصف الثالث المتوسط

أ / ب

الفصل

اسم الطالب

5 درجات

السؤال الاول: ضع علامة (√) أمام العبارة الصائبة وعلامة (x) أمام العبارة الخاطئة لما يأتي؟

1	يحثنا ديننا الاسلامي على العمل والانجاز
2	التطور التقني لم يقلل من الاعتماد على الأيدي العاملة
3	يساعد علم المساحة في تمثيل مواقع الظواهر الطبيعية
4	عندما يكون الانسان منجزا فانه يشعر بالرضا
5	التضخم غير مضر بالاقتصاد

درجتين

السؤال الثاني:

البطالة مشكلة اقتصادية واجتماعية، وقامت حكومة وطني بجهود واجراءات لتقليص نسبة البطالة ومن هذه الاجراءات (برنامج جودة الحياة) عبر بأسلوبك ويايجاز عن هذا البرنامج واهدافه؟

.....

.....

4 درجات

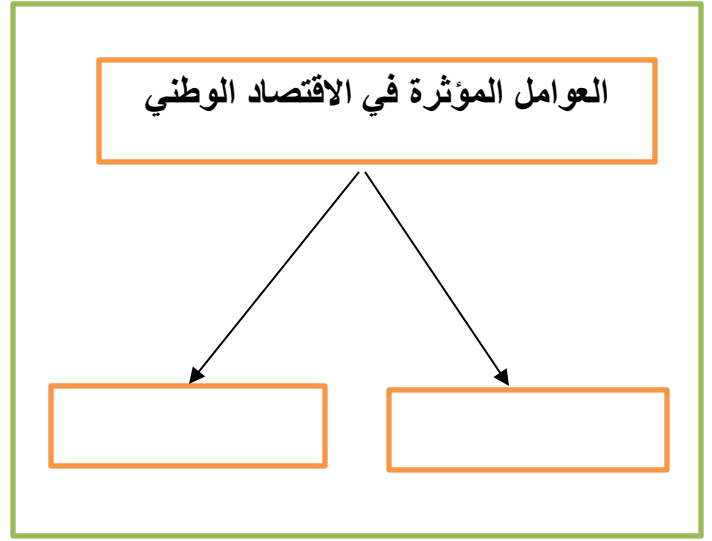
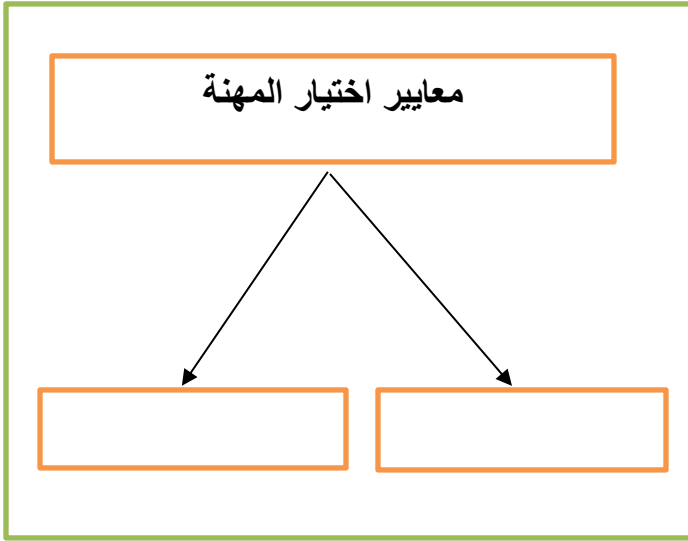
السؤال الثالث: اختر الاجابة الصحيحة في الجدول ادناه؟

1	نسبة البعد على الخريطة وما يقابله على الطبيعة:	2	كل ما يأتي من اقسام GPS ماعدا :
أ	مقياس الرسم	أ	المستخدم
ب	الاحداثيات	ب	المساحة الارضية
ج	اطار الخريطة	ج	التحكم
د	عنوان الخريطة	د	الاقمار الصناعية
3	الانشطة البشرية في مجال الانتاج والخدمات :	4	من تتوافر لديهم مهارات ولا تتوافر لهم فرص عمل
أ	الانجاز الذاتي	أ	بطالة اختيارية
ب	الانتاج	ب	بطالة هيكلية
ج	التضخم	ج	بطالة مقنعة
د	الاقتصاد الوطني	د	بطالة وظيفية

يتبع

السؤال الرابع: أكل خرائط المفاهيم التالية؟

4 درجات



درجتين

السؤال الخامس: قارن بين الخريطة والصور الجوية وفق الجدول أدناه؟

الصور الجوية	وجه المقارنة	الخريطة
	المفتاح والرموز	
	الظواهر التي تفسرها	

3 درجات

السؤال السادس: من خلال درستك لأنواع الخرائط ومستعينا بالشكل المجاور حدد أنواع الخرائط أدناه؟

- خريطة سياسية
- خريطة مناخية
- خريطة اقتصادية
- خريطة تاريخية



انتهت الاسئلة / محمد القرني

20

الدرجة:

نموذج اختبار منتصف الفترة لمادة الدراسات الاجتماعية للصف الثالث المتوسط

اسم الطالب

نموذج اجابة

الفصل

أ / ب

5 درجات

السؤال الاول: ضع علامة (√) أمام العبارة الصائبة وعلامة (x) أمام العبارة الخاطئة لما يأتي؟

√	يحثنا ديننا الاسلامي على العمل والانجاز	1
x	التطور التقني لم يقلل من الاعتماد على الأيدي العاملة	2
√	يساعد علم المساحة في تمثيل مواقع الظواهر الطبيعية	3
√	عندما يكون الانسان منجزا فانه يشعر بالرضا	4
x	التضخم غير مضر بالاقتصاد	5

درجتين

السؤال الثاني:

البطالة مشكلة اقتصادية واجتماعية، وقامت حكومة وطني بجهود واجراءات لتقليص نسبة البطالة ومن هذه الاجراءات (برنامج جودة الحياة) عبر بأسلوبك ويايجاز عن هذا البرنامج واهدافه؟

هو احد برامج رؤية المملكة 2030 ويخدم عدة جوانب منها الجانب الاقتصادي والاجتماعي ويسهم في خفض البطالة وتوفير فرص عمل كثيرة في عدة قطاعات مختلفة

4 درجات

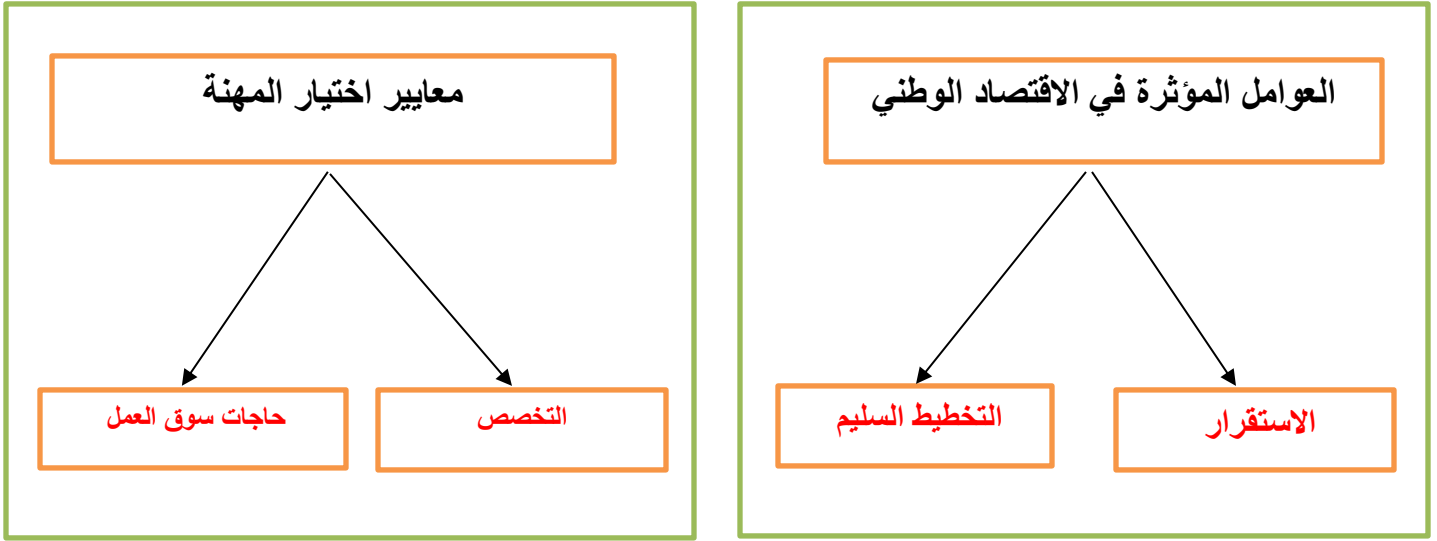
السؤال الثالث: اختر الاجابة الصحيحة في الجدول ادناه؟

كل ما يأتي من اقسام GPS ماعدا :	2	نسبة البعد على الخريطة وما يقابله على الطبيعة:	1
المستخدم	أ	مقياس الرسم	أ
المساحة الارضية	ب	الاحداثيات	ب
التحكم	ج	اطار الخريطة	ج
الاقمار الصناعية	د	عنوان الخريطة	د
من تتوافر لديهم مهارات ولا تتوافر لهم فرص عمل	4	الانشطة البشرية في مجال الانتاج والخدمات :	3
بطالة اختيارية	أ	الانجاز الذاتي	أ
بطالة هيكلية	ب	الانتاج	ب
بطالة مقنعة	ج	التضخم	ج
بطالة وظيفية	د	الاقتصاد الوطني	د

يتبع

السؤال الرابع: أكل خرائط المفاهيم التالية؟

4 درجات



درجتين

السؤال الخامس: قارن بين الخريطة والصور الجوية وفق الجدول أدناه؟

الصور الجوية	وجه المقارنة	الخريطة
لا يوجد بها مفتاح ورموز	المفتاح والرموز	يوجد بها مفتاح ورموز
الظواهر الثابتة والمتحركة	الظواهر التي تفسرها	الظواهر الثابتة

3 درجات

السؤال السادس: من خلال درستك لأنواع الخرائط ومستعينا بالشكل المجاور حدد أنواع الخرائط أدناه؟

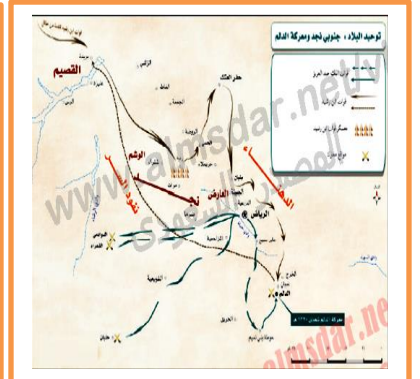
خريطة سياسية
خريطة مناخية
خريطة اقتصادية
خريطة تاريخية



خريطة اقتصادية



خريطة مناخية



خريطة تاريخية

انتهت الاسئلة / محمد القرني



نموذج اختبار منتصف الفترة
الفصل الدراسي الثالث 1444
المادة: الدراسات الاجتماعية
الصف: الثالث المتوسط



وزارة التعليم

إدارة

مكتب تعليم

مدرسة

الدرجة /20

الفصل

إعداد / محمد القرني

اسم الطالب

علم المساحة
خريطة سياسية
الخريطة
خريطة تضاريسية
الاحداثيات
الصور المائلة

السؤال الأول: مستعينا بالشكل المجاور ضع المصطلح امام ما يناسبه من العبارات ادناه؟

- (تمثيل سطح الارض او جزء منع على لوحة مستوية) ❖
(تقاطع خطوط الطول ودوائر العرض .) ❖
(هي صور تلتقط بعدسات التصوير في وضع مائل .) ❖
(العلم الذي يبحث في الطرائق المختلفة لتمثيل سطح الارض .) ❖
(هي الخرائط التي توضح حدود الدول .) ❖

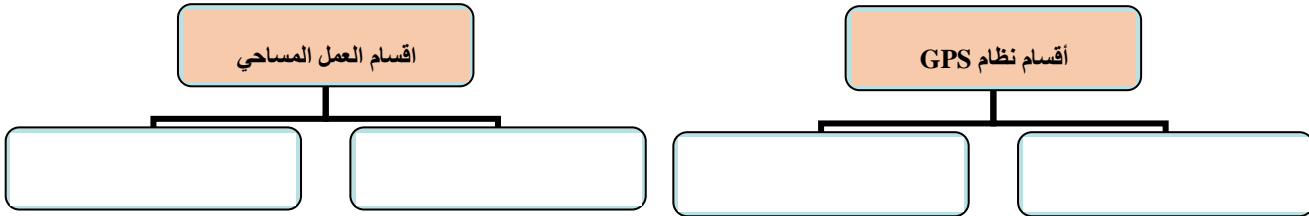
5 درجات

السؤال الثاني : ضع الرقم امام المجموعة الاولى امام ما يناسبه من المجموعة الثانية ؟

المجموعة الثانية	الرقم	المجموعة الاولى	الرقم
يحيط بالخريطة من الخارج		مقياس الرسم	1
تقاطع خطوط الطول مع دوائر العرض		اطار الخريطة	2
النسبة بين البعد على الخريطة ومايقابله على الطبيعة		عنوان الخريطة	3
اسم وموضوع الخريطة والمكان الذي تمثله			

3 درجات

السؤال الثالث : أكمل خرائط المفاهيم التالية ؟



4 درجات

السؤال الرابع : (أ) قارن بين الخريطة والصور الجوية وفق الجدول؟

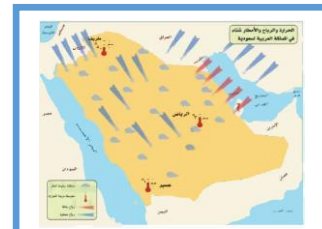
الصور الجوية	وجه المقارنة	الخريطة
	المفتاح	
	الظاهرة التي تفسرها	

5 درجات

(ب) وضع باختصار اهمية نظام ال GPS ؟

السؤال الخامس: عزيزي الطالب من خلال دراستك لأنواع الخرائط صنف ما يأتي مستعينا بالشكل المجاور؟

خريطة سكانية
خريطة اقتصادية
خريطة تاريخية
خريطة مناخية



3 درجات





نموذج اختبار منتصف الفترة
الفصل الدراسي الثالث 1444
المادة: الدراسات الاجتماعية
الصف: الثالث المتوسط



وزارة التعليم
إدارة
مكتب تعليم
مدرسة

الدرجة /20

الفصل

إعداد / محمد القرني (اجابة)

اسم الطالب

علم المساحة
خريطة سياسية
الخريطة
خريطة تضاريسية
الاحداثيات
الصور المائلة

السؤال الأول: مستعينا بالشكل المجاور ضع المصطلح امام ما يناسبه من العبارات ادناه؟

- ❖ (الخريطة) تمثل سطح الارض او جزء منع على لوحة مستوية
- ❖ (الاحداثيات) تقاطع خطوط الطول ودوائر العرض .
- ❖ (الصور المائلة) هي صور تلتقط بعدسات التصوير في وضع مائل .
- ❖ (علم المساحة) العلم الذي يبحث في الطرائق المختلفة لتمثيل سطح الارض .
- ❖ (خريطة سياسية) هي الخرائط التي توضح حدود الدول .

5 درجات

السؤال الثاني : ضع الرقم امام المجموعة الاولى امام ما يناسبه من المجموعة الثانية ؟

المجموعة الثانية	الرقم	المجموعة الاولى	الرقم
يحيط بالخريطة من الخارج	2	مقياس الرسم	1
تقاطع خطوط الطول مع دوائر العرض		اطار الخريطة	2
النسبة بين البعد على الخريطة ومايقابله على الطبيعة	1	عنوان الخريطة	3
اسم وموضوع الخريطة والمكان الذي تمثله	3		

3 درجات

السؤال الثالث : اكمل خرائط المفاهيم التالية ؟



4 درجات

السؤال الرابع : (أ) قارن بين الخريطة والصور الجوية وفق الجدول؟

الصور الجوية	وجه المقارنة	الخريطة
لا تحتاج اليه	المفتاح	تحتاج ويوجد فيها
الظواهر الثابتة والمتحركة	الظاهرة التي تفسرها	الظواهر الثابتة فقط

5 درجات

(ب) وضع باختصار اهمية نظام ال GPS ؟

يحدد المواقع بدقة عالية ويفيدنا في تحديد اتجاه القبلة وارشاد سائقي السيارات الى الاماكن التي يقصدونها

السؤال الخامس: عزيزي الطالب من خلال دراستك لأنواع الخرائط صنف ما يأتي مستعينا بالشكل المجاور؟

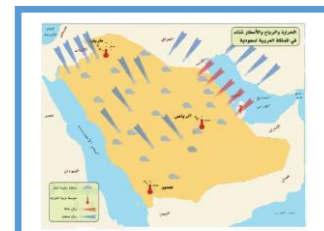
خريطة سكانية
خريطة اقتصادية
خريطة تاريخية
خريطة مناخية



خريطة سكانية



خريطة اقتصادية



خريطة مناخية

3 درجات