

تم تحميل وعرض هذا المادة من موقع واجبي:



www.wajibi.net

اشترك معنا ليصلك كل جديد:



السؤال الثاني :

5

ملاحظات المعلمة	المستوى الدرجة	الدرجة	المهارة المطلوبة	الوقت
		1	الجلسة الصحيحة	1
		1	افتح برنامج فيكس كود في ار (VEXcode VR).	2
		2	انشئ 3 متغيرات جديدة باسم (C- T-U)	3
		1	اعيد تسمية المتغير الافتراضي (myVariable) وسمية باسمك	4

تمنياتي لكم بالتوفيق والنجاح والتميز

معلمة المادة: أفنان المطيري

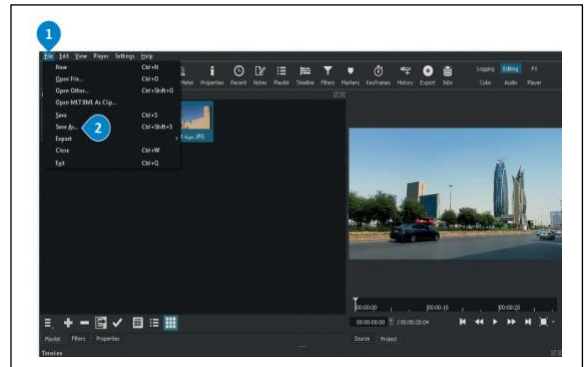
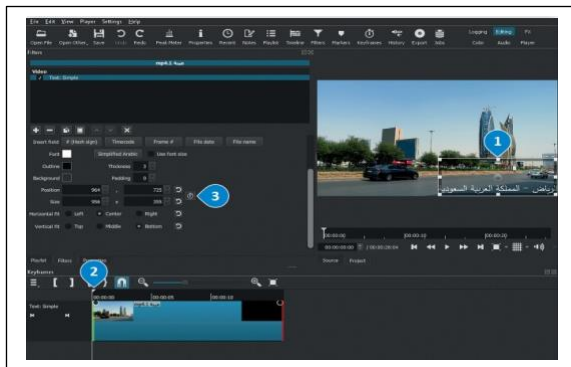
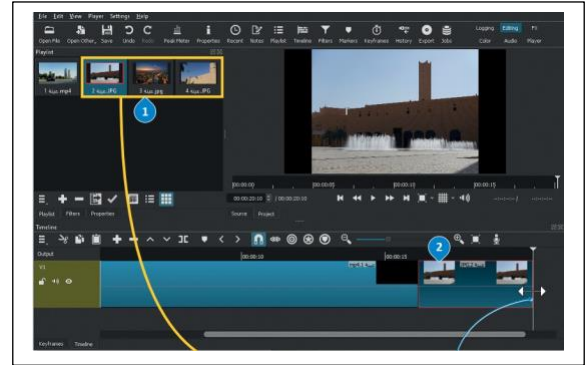
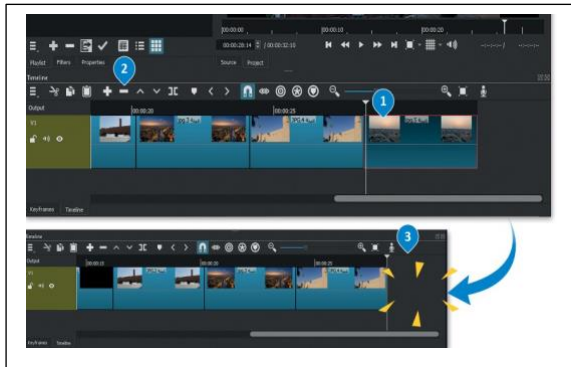
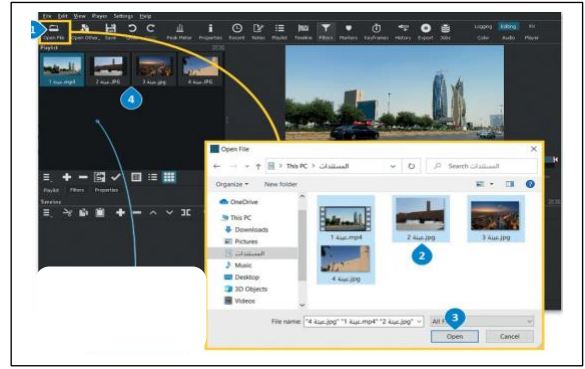
اختبار نهاية الفصل الدراسي الثالث (عملي بدون معمل) للعام 1444هـ

رقم الجلوس ()

اسم الطالب/

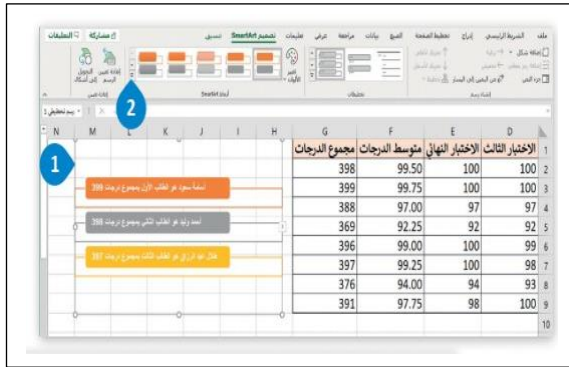
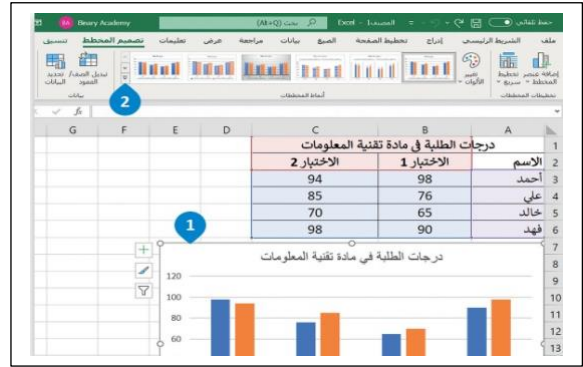
السؤال الاول : في برنامج الشوت كت بين المقصود بتنفيذ الخطوات تحت كل صورة مما يلي: درجتين لكل فقرة

استيراد الملفات للمشروع	إضافة الفيديو والصور للمخطط الزمني	إدراج الصور الثابتة	حفظ المشروع	حذف ملف من المخطط الزمني	إضافة حركة على النص
-------------------------	------------------------------------	---------------------	-------------	--------------------------	---------------------



السؤال الثاني : في برنامج الاكسل بين المقصود بتنفيذ الخطوات تحت كل صورة مما يلي : درجتين لكل فقرة

تغيير التخطيط	تنسيق المخطط	أنماط WordArt	نمط SmartArt
---------------	--------------	---------------	--------------



ب- اكتب رقم اللبنة البرمجية أمام الأمر الصحيح بلغة البايثون : درجة لكل فقرة

<code>drivetrain.turn_for(RIGHT, 90, DEGREES)</code>	
<code>drivetrain.drive_for(FORWARD, 200, MM)</code>	
<code>for repeat_count in range(10):</code>	
<code>drivetrain.set_drive_velocity(50, PERCENT)</code>	
<code>wait(1, SECONDS)</code>	

- 1
- 2
- 3
- 4
- 5

انتهت الاسئلة

اختبار نهاية الفصل الدراسي الثالث (عملي بدون معمل) للعام ١٤٤٤ هـ

رقم الجلوس ()

Oöi f , μ³±1/2y'

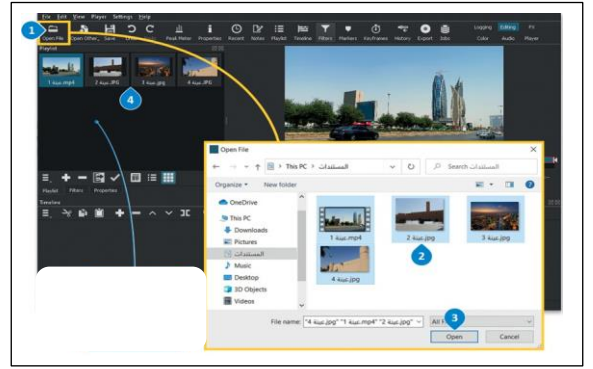
اسم الطالب/

السؤال الاول : في برنامج الشوت كت بين المقصود بتنفيذ الخطوات تحت كل صورة مما يلي: درجتين لكل فقرة

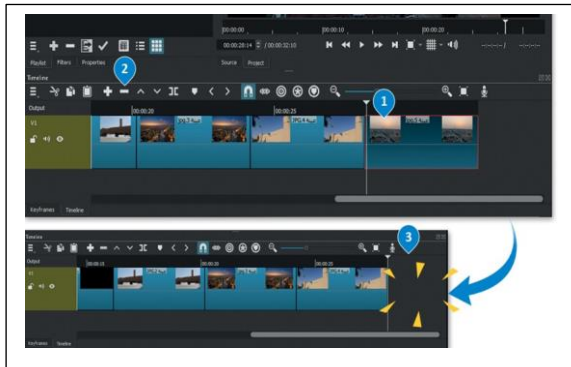
استيراد الملفات للمشروع	إضافة الفيديو والصور للمخطط الزمني	إدراج الصور الثابتة	حفظ المشروع	حذف ملف من المخطط الزمني	إضافة حركة على النص
-------------------------	------------------------------------	---------------------	-------------	--------------------------	---------------------



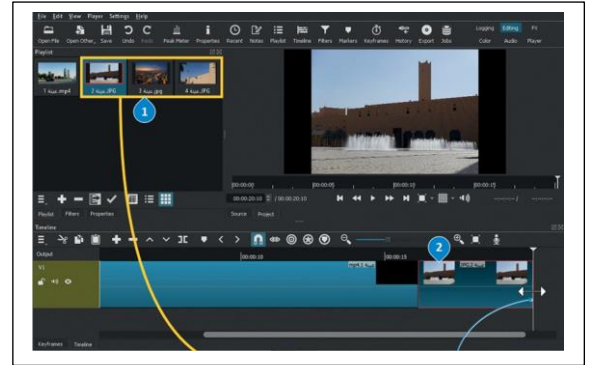
إضافة الفيديو والصور للمخطط الزمني



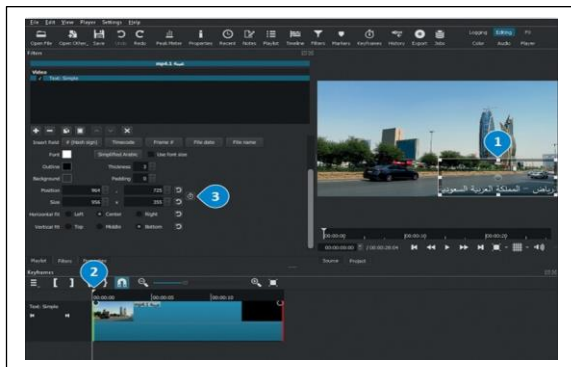
استيراد الملفات للمشروع



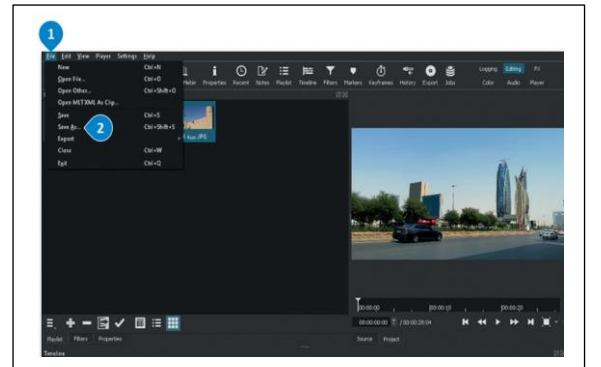
حذف ملف من المخطط الزمني



إدراج الصور الثابتة



إضافة حركة على النص



حفظ المشروع

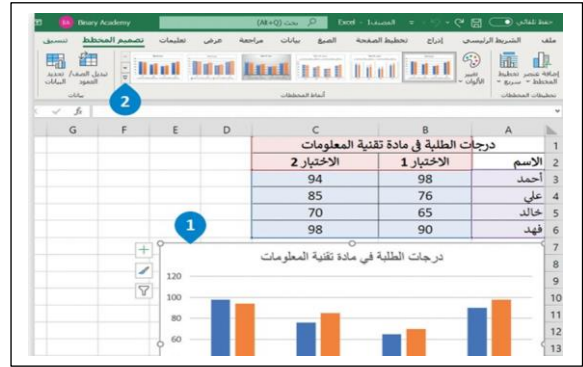
السؤال الثاني : في برنامج الاكسل بين المقصود بتنفيذ الخطوات تحت كل صورة مما يلي : درجتين لكل فقرة

١٣

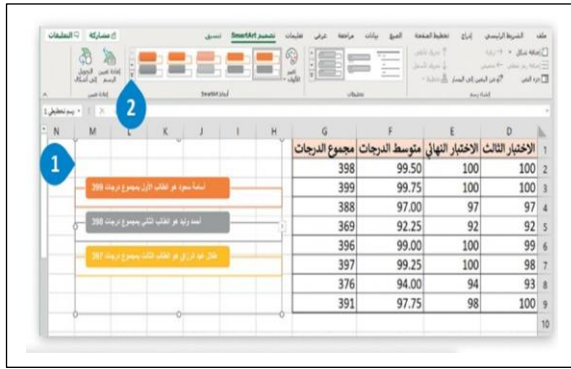
تغيير التخطيط	تنسيق المخطط	أنماط WordArt	نمط SmartArt
---------------	--------------	---------------	--------------



تغيير التخطيط



تنسبة , المخطط



نمط SmartArt



أنماط WordArt

ب- اكتب رقم اللبنة البرمجية أمام الأمر الصحيح بلغة البايثون : درجة لكل فقرة

<code>drivetrain.turn_for(RIGHT, 90, DEGREES)</code>	٢
<code>drivetrain.drive_for(FORWARD, 200, MM)</code>	١
<code>for repeat_count in range(10):</code>	٤
<code>drivetrain.set_drive_velocity(50, PERCENT)</code>	٣
<code>wait(1, SECONDS)</code>	٥

- ١
- ٢
- ٣
- ٤
- ٥

انتهت الاسئلة