

تم تحميل وعرض هذا المادة من موقع واجبي:



www.wajibi.net

اشترك معنا ليصلك كل جديد:



اسم الطالبة: رقم الجلوس:

| | | | | | |
|--|--------------|--------------|---------|--------------------|---------|
| المادة : دراسات اجتماعية | | | | | |
| اليوم : | | | | | |
| التاريخ : ١١ / ١٤٤٤ هـ | | | | | |
| الزمن : ثلاث ساعات | | | | | |
| عدد الصفحات : (٥) عدد الأسئلة : (٤) | | الدرجة رقماً | | الدرجة المستحقة | |
| الدرجة كتابة | | الدرجة رقماً | | الدرجة | |
| السؤال | الدرجة رقماً | الدرجة كتابة | المصححة | المراجعة | المدققة |
| الأول | | | | | |
| الثاني | | | | | |
| الثالث | | | | | |
| الرابع | | | | | |

رددي أثناء انتظارك :

- (سبحان الله و بحمده) مئة مرة .
- (لا حول و لا قوة إلا بالله) كنز من كنوز الجنة .
- (حسبي الله لا إله إلا هو عليه توكلت وهو رب العرش العظيم) سبع مرات .
- (لا إله إلا الله وحده لا شريك له و له الملك وله الحمد وهو على كل شيء قدير) مائة مرة .
- (اللهم صل وسلم على نبينا محمد) عشر مرات .
- اكثري من الاستغفار .

اسم الطالبة :

الاختبار النهائي لمادة الدراسات الاجتماعية للصف الأول الثانوي نظام المسارات
الفصل الدراسي الثالث (الدور الأول) لعام ١٤٤٤ هـ

طالبتي الغالية :

استعيني بالله سبحانه وتعالى ثم اقرئي الأسئلة جيداً وأجيبني عما يأتي:

السؤال الأول: أ / أكمل الفراغات التالية بما يناسبها :

- (١) الدول الأعضاء في جامعة الدول العربية عددها دولة.
- (٢) انتهت الحرب العالمية الأولى باستسلام. وانتصار دول الحلفاء على المحور.
- (٣) اللغة الرسمية في الولايات المتحدة الأمريكية هي اللغة يتحدث بها ٨٠٪ من السكان.
- (٤) عدد الدول المشاركة في الحرب العالمية الأولى دولة.
- (٥) ترتبط دول الخليج العربي بعدة روابط أبرزها روابط الدين و والثقافة .
- (٦) استضافت المملكة العربية السعودية القمة العربية ٢٩ في مدينة الظهران بالمملكة العربية السعودية عام ١٤٣٩ هـ وأطلق عليها الملك سلمان حفظه الله اسم قمةتضامنا مع القضية الفلسطينية.
- (٧) يضم الاتحاد الأوروبي دولة تغطي معظم أنحاء القارة.
- (٨) يقع مقر منظمة التعاون الإسلامي في مدينة..... وتضم في عضويتها ٥٧ دولة .

ب / صنفى المصطلحات تبعاً لتعريفاتها في الجدول التالي..

الحرب العالمية - هيئة الأمم المتحدة - سايكس بيكو - الكشوف الجغرافية - البخور - رابطة العالم الإسلامي

| | |
|--|--|
| منظمة أنشئت بعد الحرب العالمية الثانية من أجل إقرار السلام والعدل في العالم | |
| اتفاقية سرية وقعت بين فرنسا وبريطانيا وروسيا على أن يتقاسموا أملاك الدولة العثمانية في العراق والشام . | |
| الطريق التجاري العالمي الذي كان العرب في شبه الجزيرة العربية يسيطرون عليه منذ ما قبل الإسلام | |
| رحلات بحرية قام بها الأوروبيين لاكتشاف مناطق جديدة في القرن الخامس عشر . | |
| منظمة إسلامية شعبية عالمية مقرها مكة المكرمة تعني بإيضاح حقيقة الدعوة الإسلامية . | |

ج / ما النتائج المترتبة على :

❖ قيام الاتحاد الأوروبي .

.....
.....
.....

السؤال الثاني :

أ) اختاري الإجابة الصحيحة في الآتي :

| | | | |
|--|--------------------|---------------|------------|
| ١. وقعت قنبلتي هيروشيما و ناجازاكي على عام ١٩٤٥ م : | | | |
| أ- اليابان | ب- الصين | ج- ألمانيا | د- تركيا |
| ٢- تشكل الولايات المتحدة القسم الأكبر من قارة : | | | |
| أ- أوروبا | ب- أمريكا الشمالية | ج- أستراليا | د- أفريقيا |
| ٣- منظمة من أهدافها تنسيق السياسة النفطية للبلدان الأعضاء وحماية مصالح الدول المنتجة للنفط : | | | |
| أ- أوبك | ب- اليونسكو | ج- اليونسيف | د. الفاو |
| ٤- المسرح الرئيسي للحرب العالمية الأولى قارة : | | | |
| أ- آسيا | ب- أستراليا | ج- أمريكا | د- أوروبا |
| ٥- أكبر دولة في العالم من حيث المساحة : | | | |
| أ- روسيا الاتحادية | ب- الصين | ج- كندا | د- الجزائر |
| ٦- اللغة الرسمية في الصين هي : | | | |
| أ- الفارسية | أ- العربية | ج- الإنجليزية | د- لغة هان |

ب) انسبي المظاهر التضاريسية التالية الى بلدانها :

قزوين - الأبلش - هاواي - الدانوب - أوب

| | |
|---|--|
| ١- جبال تقع في شرق الولايات المتحدة الأمريكية | |
| ٢- نهر ينبع من ألمانيا ويجتاز دول الاتحاد الأوروبي | |
| ٣- جزيرة في المحيط الهادي تعد أصغر الولايات في الولايات المتحدة | |
| ٤- أكبر مسطح مائي داخلي في العالم جنوب روسيا | |

ج) عللي :

١. يشهد سكان الاتحاد الأوروبي نموا بطيئا مقارنة بسكان العالم .

٢. تنوع المناخ والمحاصيل الزراعية في الولايات المتحدة .

السؤال الثالث :

أ) صلي العامود أ بما يناسبه من العامود ب :

| ب | أ | |
|-----------------------|---|---|
| فاسكو دا جاما | مستشار ألمانيا وعمل على تسليح الجيش وأصبح أقوى جيش في العالم | ١ |
| أحمد بن ماجد | عقدت القمة الاستثنائية الافتراضية لدول مجموعة العشرين عام ٢٠٢٠ م برئاسته لتنسيق الجهود العالمية لمكافحة جائحة كورونا. | ٢ |
| بلفور | استطاع أن يدور حول أفريقيا مكتشفاً طريق رأس الرجاء الصالح. | ٣ |
| جيمس كوك | عالم البحار المسلم الملقب بأسد البحار استفاد منه فاسكو دي جاما في رحلته الى الهند | ٤ |
| الملك سلمان حفظه الله | اعطى اليهود وعد ينص على تأسيس وطن قومي لهم في فلسطين | ٥ |
| هتلر | مكتشف قارة أستراليا | ٦ |
| الملك خالد رحمه الله | | ٧ |

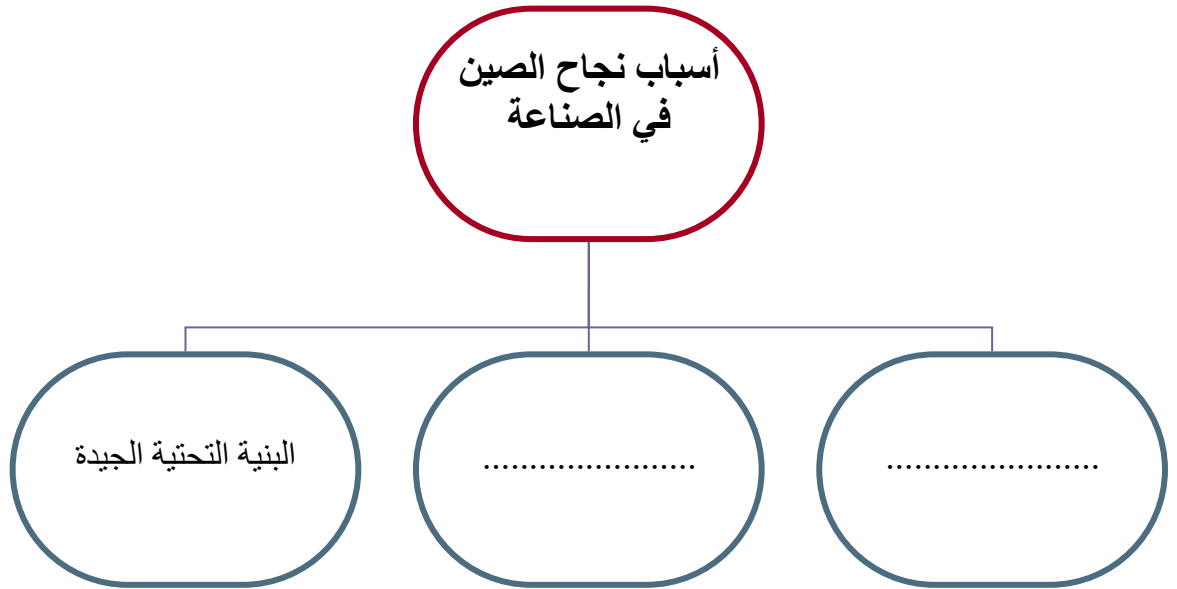
ب) أذكرى نتائج الحرب العالمية الأولى (٢ فقط) :

.....

.....

.....

ج / أكمل خريطة المفاهيم التالية :



السؤال الرابع :

أ/ ضعي علامة (✓) أمام العبارة الصحيحة وعلامة (×) أمام العبارة الخاطئة :

١. عدد الخسائر البشرية في الحرب العالمية الثانية خمسة ملايين قتيل ()
٢. أكثر دول العالم اكتظاظا بالسكان الصين. ()
٣. كان من نتائج الكشوف الجغرافية إثبات كروية الأرض ()
٤. أنشئت الجامعة العربية قبل انشاء هيئة الأمم المتحدة بنحو ستة أشهر. ()
٥. قامت الصين بإطلاق أول رائد فضاء بشري في تاريخ العالم. ()

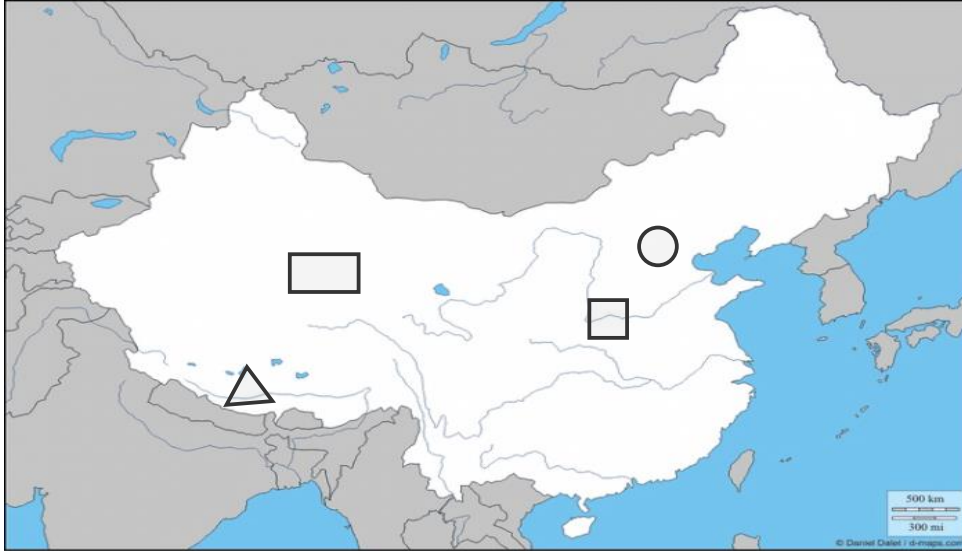
ب/ اشرحي السبب الرئيسي المباشر لقيام الحرب العالمية الأولى.

.....

.....

.....

ج) أمامك خريطة لجمهورية الصين أكتبى الرقم المناسب على الخريطة :



- ١- النهر الأصفر
- ٢- هضبة التبت
- ٣- العاصمة بكين
- ٤- جبال الهملايا

انتهت الأسئلة .

جعلني الله وإياكن ممن يُفْرَن بالفردوس الاعلى من الجنة ☺

معلمتك /

اسم الطالبة: M رقم الجلوس:

| | | | | | |
|--|--------------|--------------|---------|--------------------|---------|
| المادة : دراسات اجتماعية | | | | | |
| اليوم : | | | | | |
| التاريخ : ١١ / ١٤٤٤ هـ | | | | | |
| الزمن : ثلاث ساعات | | | | | |
| عدد الصفحات : (٥) عدد الأسئلة : (٤) | | الدرجة رقماً | | الدرجة المستحقة | |
| الدرجة كتابة | | الدرجة رقماً | | الدرجة | |
| السؤال | الدرجة رقماً | الدرجة كتابة | المصححة | المراجعة | المدققة |
| الأول | | | | | |
| الثاني | | | | | |
| الثالث | | | | | |
| الرابع | | | | | |

رددي أثناء انتظارك :

- (سبحان الله و بحمده) مئة مرة .
- (لا حول و لا قوة إلا بالله) كنز من كنوز الجنة .
- (حسبي الله لا إله إلا هو عليه توكلت وهو رب العرش العظيم) سبع مرات .
- (لا إله إلا الله وحده لا شريك له و له الملك وله الحمد وهو على كل شيء قدير) مائة مرة .
- (اللهم صل وسلم على نبينا محمد) عشر مرات .
- اكثري من الاستغفار .

اسم الطالبة :

الاختبار النهائي لمادة الدراسات الاجتماعية للصف الأول الثانوي نظام المسارات
الفصل الدراسي الثالث (الدور الأول) لعام ١٤٤٤ هـ

طالبتي الغالية :

١٠

١٠

استعيني بالله سبحانه وتعالى ثم اقرئي الأسئلة جيداً وأجيبى عما يأتي:

السؤال الأول: أ / أكمل الفراغات التالية بما يناسبها :

٤

- ١) الدول الأعضاء في جامعة الدول العربية عددها **٢٢** دولة.
- ٢) انتهت الحرب العالمية الأولى باستسلام **ألمانيا** وانتصار دول الحلفاء على المحور.
- ٣) اللغة الرسمية في الولايات المتحدة الأمريكية هي اللغة **الإنجليزية** يتحدث بها ٨٠٪ من السكان.
- ٤) عدد الدول المشاركة في الحرب العالمية الأولى **٣٣** دولة.
- ٥) ترتبط دول الخليج العربي بعدة روابط أبرزها روابط الدين **واللغة العادات التقاليد** والثقافة.
- ٦) استضافت المملكة العربية السعودية القمة العربية ٢٩ في مدينة الظهران بالمملكة العربية السعودية عام ١٤٣٩ هـ وأطلق عليها الملك سلمان حفظه الله اسم قمة **القدس** تضامناً مع القضية الفلسطينية.
- ٧) يضم الاتحاد الأوربي **٢٧** دولة تغطي معظم أنحاء القارة.
- ٨) يقع مقر منظمة التعاون الإسلامي في مدينة **جدة** وتضم في عضويتها ٥٧ دولة .

٥

ب / صنفى المصطلحات تبعاً لتعريفاتها في الجدول التالي..

الحرب العالمية - هيئة الأمم المتحدة - سايكس بيكو - الكشوف الجغرافية - البخور - رابطة العالم الإسلامي

| | |
|-----------------------|--|
| هيئة الأمم المتحدة | منظمة أنشئت بعد الحرب العالمية الثانية من أجل إقرار السلام والعدل في العالم |
| سايكس بيكو | اتفاقية سرية وقعت بين فرنسا وبريطانيا وروسيا على أن يتقاسموا أملاك الدولة العثمانية في العراق والشام . |
| البخور | الطريق التجاري العالمي الذي كان العرب في شبه الجزيرة العربية يسيطرون عليه منذ ما قبل الإسلام |
| الكشوف الجغرافية | رحلات بحرية قام بها الأوروبيين لاكتشاف مناطق جديدة في القرن الخامس عشر . |
| رابطة العالم الإسلامي | منظمة إسلامية شعبية عالمية مقرها مكة المكرمة تعني بإيضاح حقيقة الدعوة الإسلامية . |

ج / ما النتائج المترتبة على :

❖ قيام الاتحاد الأوروبي .

ارتفع مستوى المعيشة لشعوبها و نمت أسواقها الداخلية

السؤال الثاني :

أ) اختاري الإجابة الصحيحة في الآتي :

٦

| | | | |
|--|---------------------------|---------------|-------------------|
| ١. وقعت قنبلتي هيروشيما و ناجازاكي على عام ١٩٤٥ م : | | | |
| أ- اليابان | ب- الصين | ج- ألمانيا | د- تركيا |
| ٢- تشكل الولايات المتحدة القسم الأكبر من قارة : | | | |
| أ- أوروبا | ب- أمريكا الشمالية | ج- أستراليا | د- أفريقيا |
| ٣- منظمة من أهدافها تنسيق السياسة النفطية للبلدان الأعضاء وحماية مصالح الدول المنتجة للنفط : | | | |
| أ- أوبك | ب- اليونسكو | ج- اليونسيف | د. الفاو |
| ٤- المسرح الرئيسي للحرب العالمية الأولى قارة : | | | |
| أ- آسيا | ب- أستراليا | ج- أمريكا | د- أوروبا |
| ٥- أكبر دولة في العالم من حيث المساحة : | | | |
| أ- روسيا الاتحادية | ب- الصين | ج- كندا | د- الجزائر |
| ٦- اللغة الرسمية في الصين هي : | | | |
| أ- الفارسية | أ- العربية | ج- الإنجليزية | د- لغة هان |

ب) انسبي المظاهر التضاريسية التالية الى بلدانها :

٢

قزوين - الأبلش - هاواي - الدانوب - أوب

| | |
|---|----------------|
| ١- جبال تقع في شرق الولايات المتحدة الأمريكية | الأبلش |
| ٢- نهر ينبع من ألمانيا ويجتاز دول الاتحاد الأوروبي | الدانوب |
| ٣- جزيرة في المحيط الهادي تعد أصغر الولايات في الولايات المتحدة | هاواي |
| ٤- أكبر مسطح مائي داخلي في العالم جنوب روسيا | قزوين |

ج) عللي :

٢

١. يشهد سكان الاتحاد الأوروبي نموا بطيئا مقارنة بسكان العالم .

تأخر سن الزواج وتحديد النسل

٢. تنوع المناخ والمحاصيل الزراعية في الولايات المتحدة .

بسبب اتساع المساحة في الولايات المتحدة .

(أ) صلي العامود أ بما يناسبه من العامود ب :

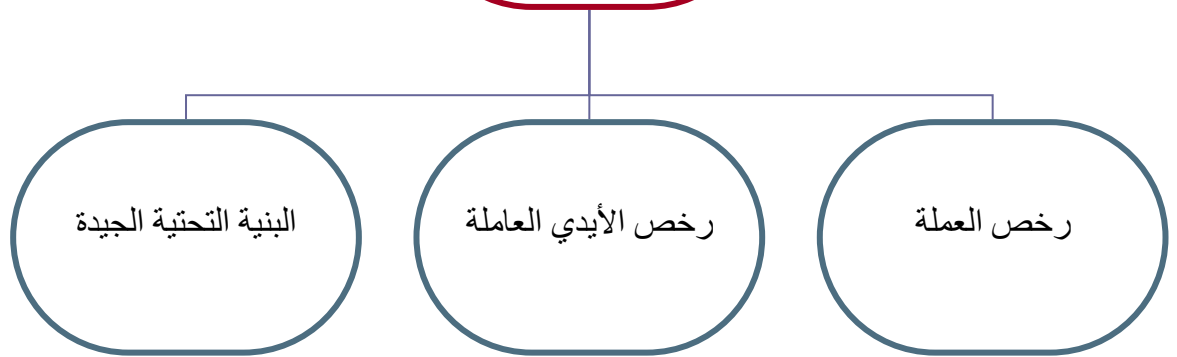
| ب | أ | |
|-----------------------|---|---|
| فاسكو دا جاما | ٣ | ١ مستشار ألمانيا وعمل على تسليح الجيش وأصبح أقوى جيش في العالم |
| أحمد بن ماجد | ٤ | ٢ عقدت القمة الاستثنائية الافتراضية لدول مجموعة العشرين عام ٢٠٢٠ م برئاسته لتنسيق الجهود العالمية لمكافحة جائحة كورونا. |
| بلفور | ٥ | ٣ استطاع أن يدور حول أفريقيا مكتشفاً طريق رأس الرجاء الصالح. |
| جيمس كوك | ٦ | ٤ عالم البحار المسلم الملقب بأسد البحار استفاد منه فاسكو دي جاما في رحلته الى الهند |
| الملك سلمان حفظه الله | ٢ | ٥ اعطى اليهود وعد ينص على تأسيس وطن قومي لهم في فلسطين |
| هتلر | ١ | ٦ مكتشف قارة أستراليا |
| الملك خالد رحمه الله | | ٧ |

٢

(ب) أذكرى نتائج الحرب العالمية الأولى (٢ فقط) :

- ١- الخسائر البشرية ٢ - الخسائر المادية ٣- تفكك الدولة العثمانية
 - ٤- اتساع مساحة بعض دول أوروبا وتقلص بعضها الآخر .
 - ٥- انشاء بعض المنظمات الدولية
 - ٦- وقوع كثير من بلدان العالم العربي تحت الانتداب .
- ج / أكمل خريطة المفاهيم التالية :

أسباب نجاح الصين
في الصناعة



أ/ ضعي علامة (✓) أمام العبارة الصحيحة وعلامة (×) أمام العبارة الخاطئة :

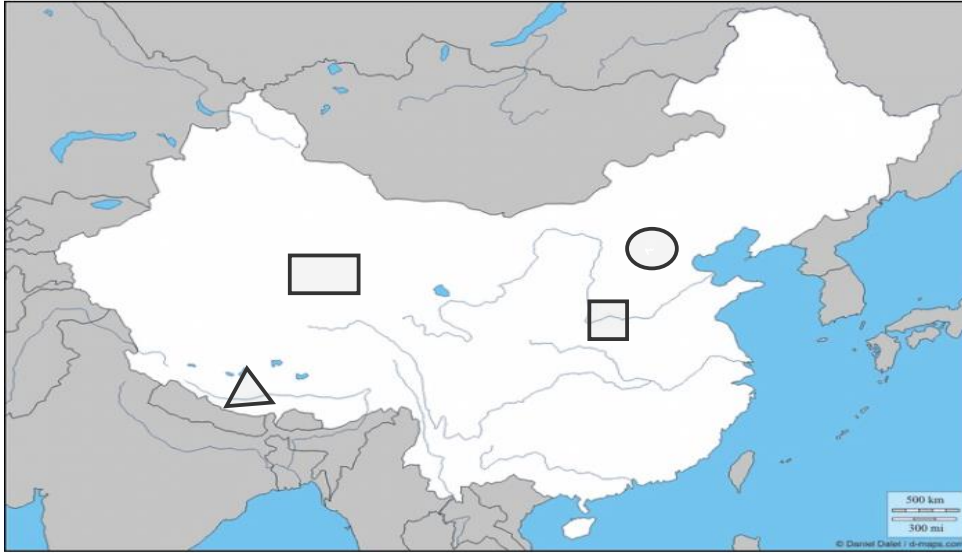
١. عدد الخسائر البشرية في الحرب العالمية الثانية خمسة ملايين قتيل (×)
٢. أكثر دول العالم اكتظاظا بالسكان الصين. (✓)
٣. كان من نتائج الكشوف الجغرافية إثبات كروية الأرض (✓)
٤. أنشئت الجامعة العربية قبل انشاء هيئة الأمم المتحدة بنحو ستة أشهر. (✓)
٥. قامت الصين بإطلاق أول رائد فضاء بشري في تاريخ العالم. (×)

١

ب/ اشرحي السبب الرئيسي المباشر لقيام الحرب العالمية الأولى.

اغتيال طالب صربي ولي عهد النمسا آنذاك وزوجته أثناء زيارتهم لسراييفو عاصمة البوسنة والهرسك

ج) أمامك خريطة لجمهورية الصين أكتبى الرقم المناسب على الخريطة :



٤

- ١- النهر الأصفر
- ٢- هضبة التبت
- ٣- العاصمة بكين
- ٤- جبال الهملايا

انتهت الأسئلة .

جعلني الله وإياكن ممن يُؤزَن بالفردوس الاعلى من الجنة ☺

معلمتك /

اختبار الفصل الدراسي الثالث "الفترة الثانية" العام الدراسي 1444 هـ

الشعبة ()

اسم الطالبة رابعياً

| رقم السؤال | الدرجة | المصححة | المراجعة | المدققة |
|---------------|--------|---------|----------|---------|
| السؤال الأول | | | | |
| السؤال الثاني | | | | |
| السؤال الثالث | | | | |

السؤال الأول/ أ. اختاري الإجابة الصحيحة في الآتي..

1. مثلت بلدانها ميدان التنافس الأوروبي الرامي إلى السيطرة واستغلال ثرواتها الطبيعية (آسيا – أفريقيا – أوروبا - أمريكا)
2. سلسلة جبلية تفصل بين روسيا الآسيوية وروسيا الأوروبية (روكي – الأورال – توفغال – كنلن)
3. من أنواع نباتات القارة الأوروبية في المناخ القطبي غابات (النفضية – الصنوبرية – البحر المتوسط – التندرا)
4. فرضت معاهدات الصلح غرامات باهظة على (روسيا – إيطاليا – ألمانيا - بريطانيا)
5. أعلنت الحرب على صربيا عام 1914 وكان شرارة الحرب العالمية الأولى اغتيال ولي عهدنا (ألمانيا – النمسا – روسيا - إيطاليا)
6. لُقّب بأسد البحار (البكري – المقديسي – الإدريسي – ابن ماجد)
7. يقع مقر هيئة الأمم المتحدة في (نيويورك – واشنطن – كاليفورنيا – فلوريدا)
8. لم يبحر لأبعد من مضيق جبل طارق ولقب بالملاح (ماجلان – جيمس كوك – هنري – كولومبس)
9. استضافت (المملكة العربية السعودية – العراق – الكويت – قطر) اجتماع مجموعة العشرين عام 2020
10. من نتائج الحرب العالمية الأولى إنشاء (هيئة الأمم المتحدة – منظمة العالم الإسلامي – مجلس التعاون الخليجي – عصبة الأمم)
11. أصبح (هتلر – لينين – موسوليني – سالين) مستشاراً ألمانياً وقائداً للحزب النازي
12. يصب نهر لينا في (المحيط المتجمد الشمالي – البحر الأحمر – بحر الصين – البحر الميت)
13. تُعرف بسقف العالم نظراً لارتفاعها الشديد .. هضبة (منغوليا – سيبيريا – التبت – الشطوط)
14. عدد اللغات في الإتحاد الأوروبي (23 – 33 – 44 – 55) لغة
15. شهدت روسيا قيام الثورة (الرأس مالية – الشيوعية – النازية – الفاشية) التي قادها البلاشفة
16. كانت أول مستعمرة أمريكية (فرجينيا – نيويورك – كاليفورنيا – فلوريدا) الإنجليزية على ساحل المحيط الأطلسي
17. يُنسب كتاب نزهة المشتاق في اختراق الأفاق لـ (البكري – المقديسي – الإدريسي – ابن ماجد)
18. تتكون الولايات المتحدة الأمريكية من (20 - 30 - 40 - 50) ولاية

2. بما تفسرين الآتي؟؟

تنوع المناخ في الولايات المتحدة الأمريكية؟
يشهد سكان الإتحاد الأوروبي نمواً بطيئاً؟

ب/ 1. أكمل الفراغ الآتي بما يتناسب مع الجملة..

أكبر الولايات المتحدة الأمريكية (.....)
أصغر الولايات المتحدة الأمريكية (.....)

ج/ صححي ما تحته خط في الآتي..

1. تمكن موسوليني زعيم الحزب الفاشي عام 1922 م من تسلم السلطة في النمسا
3. من نتائج الحرب العالمية الثانية تفكك الدولة العثمانية.
4. أوفت بريطانيا بعهدا للشريف حسين ونصبته ملكاً على العرب
5. تشكل الحدود البرية لروسيا 14 دولة

| |
|--|
| |
| |
| |
| |

السؤال الثاني/ أ. أحيي د (✓) أو (X) أمام العبارات التالية..

| | |
|----|--|
| 1 | بروكسل في بلجيكا هي عاصمة الإتحاد الأوروبي |
| 2 | ساهم الرحالة ابن بطوطة في تقديم معلومات جديدة عن أماكن عدة في أفريقيا |
| 3 | يقع مقر جامعة الدول العربية في القاهرة |
| 4 | تفكك الإتحاد السوفييتي عام 1991 م |
| 5 | تم اكتشاف استراليا على يد الملاحه الإيطالي أمريكو فيسبوتشي |
| 6 | يُعد عنصر المغول الآسيوي أول جنس بشري استوطن الأراضي التي تكونت منها الولايات المتحدة الأمريكية |
| 7 | تمتلك روسيا ربع المياه العذبة في العالم |
| 8 | المقر السابق لمنظمة أوبك كان في جنيف في سويسرا |
| 9 | الأيدي العاملة في الصين رخيصة |
| 10 | شاركت المملكة العربية السعودية في الحروب العالمية الأولى والثانية بموافقة الملك عبد العزيز آل سعود |
| 11 | انتهت الحرب العالمية الثانية باستسلام دول المحور |
| 12 | ألقت الولايات المتحدة الأمريكية قنبلي هيروشيما ونجازاكي على اليابان |
| 13 | يتمتع جنوب أوروبا بمناخ البحر الأبيض المتوسط |
| 14 | تستغرق الرحلة بالقطار بين موسكو في الغرب وميناء فلاد فستوك في الشرق سبعة أيام |
| 15 | تتمتع روسيا بارتفاع في الكثافة السكانية |
| 16 | أكبر عرق في الصين هو عرق هان |
| 17 | بلغت الخسائر البشرية في الحرب العالمية الثانية 70 مليون قتيل |
| 18 | بحر قزوين هو أكبر البحيرات في روسيا وأكبر مسطح مائي داخلي في العالم |
| 19 | تُعد أولى أفكار التوحيد السلمي في أوروبا بالتعاون والمساواة تلك التي قدمها فيكتور هوجو عام 1851 م |
| 20 | تأسست الولايات المتحدة الأمريكية من 10 مستعمرات بريطانية على طول ساحل المحيط الأطلسي |

ب. صفني المصطلحات تبعاً لتعريفاتها في الجدول التالي..

| | | | | | |
|---|------------------|---|------------|---|------------|
| 1 | الكشوف الجغرافية | 2 | الاشتراكية | 3 | سايكس بيكو |
|---|------------------|---|------------|---|------------|

| |
|--|
| اتفاقية سرية وقعت بين فرنسا وبريطانيا بموافقة روسيا على أن يتقاسم أملك الدولة العثمانية في الهلال الخصيب |
| رحلات بحرية قام بها مجموعة من الرحالة الأوروبيين |

ج. 1. وازني بين المسمى ونوع المظهر التضاريسي وموقعه في الجدول التالي..

| | | | | | | | | | |
|---|------|---|-------|---|--------|---|-------|---|------|
| 1 | جوبي | 2 | إفرست | 3 | بيرينغ | 4 | الألب | 5 | هورن |
|---|------|---|-------|---|--------|---|-------|---|------|

| | | | | |
|-------------------------------------|-----------------------|-------------------------------------|--------------------------|----------------|
| مضيق يفصل بين آسيا وأمريكا الشمالية | سلسلة جبلية في أوروبا | بحيرة في الولايات المتحدة الأمريكية | أعلى قمة جبلية في العالم | صحراء في الصين |
|-------------------------------------|-----------------------|-------------------------------------|--------------------------|----------------|

2. رتب الدول التالية تبعاً لمساحتها من الأكبر إلى الأصغر

| | | | |
|----------------------------|-------|-------|------|
| الولايات المتحدة الأمريكية | روسيا | الصين | كندا |
|----------------------------|-------|-------|------|



السؤال الثالث/ أ. حددي على خريطة العالم سير رحلة فاسكو ديجاما في الوصول للهند/ المحيط الهندي/ المحيط الأطلسي

ب. صفني الدول العربية الآتية بين ماهي (مؤسس أو عضو في جامعة الدول

العربية)



| | |
|---------------|--|
| الدول المؤسسة | |
| الدول الأعضاء | |

ج.1. حددي على خريطة الصين الآتي ..



(هضبة منغوليا / نهر هو انغ هو / روسيا / بحر الصين الشرقي)

أين تقع الصين بالنسبة لقارة آسيا؟

عاصمة الصين هي

2. أ/أرسي خريطة الولايات المتحدة الأمريكية ووضحي عليها الآتي .. (الحدود / سلسلة جبال روكي / نهر المسيسيبي / السهول الوسطى /


العاصمة)



ب/ من اين ينبع و أين يصب نهر المسيسيبي؟

ينبع من

يصب في



2. إلى ماذا ترمز الأيقونات التالية؟؟

ابحثي عن الكلمة المفقودة ..

| | | | | | |
|---|---|---|---|----|---|
| ا | ل | ا | ب | لا | ش |
| م | ن | غ | و | ل | ي |
| ب | ب | ي | ط | ا | ل |
| ص | ك | ح | ي | ه | ت |

| | | | | | | |
|---|---|----|---|---|---|---|
| خ | س | لا | ت | م | س | ر |
| ا | ل | د | ا | ن | و | ب |
| ب | ب | ي | ط | ا | ل | ر |
| ص | ك | ح | ي | ه | ت | م |

سلسلة جبلية في الولايات المتحدة الأمريكية

أطول أنهار أوروبا

انتهت الأسئلة بالتوفيق والنجاح.. معلمات المادة.. أ. ذكرى إخوان أ. وضحي السببي

اختبار الفصل الدراسي الثالث "الفترة الثانية" العام الدراسي 1444 هـ

الشعبة ()

???? ? ? ? ? ? ? ?

اسم الطالبة رابعياً

| رقم السؤال | الدرجة | المصححة | المراجعة | المدققة |
|---------------|--------|---------|----------|---------|
| السؤال الأول | | | | |
| السؤال الثاني | | | | |
| السؤال الثالث | | | | |

13

السؤال الأول/ أ. اختاري الإجابة الصحيحة في الآتي..

1. مثلت بلدانها ميدان التنافس الأوروبي الرامي إلى السيطرة واستغلال ثرواتها الطبيعية (آسيا - أوروبا - أمريكا)
2. سلسلة جبلية تفصل بين روسيا الآسيوية وروسيا الأوروبية (روكي - تويغال - كننن)
3. من أنواع نباتات القارة الأوروبية في المناخ القطبي غابات (النفضية - الصنوبرية - البحر المتوسط)
4. فرضت معاهدات الصلح غرامات باهظة على (روسيا - إيطاليا - بريطانيا)
5. أعلنت الحرب على صربيا عام 1914 وكان شرارة الحرب العالمية الأولى اغتيال ولي عهدنا (ألمانيا - روسيا - إيطاليا)
6. لُقب بأسد البحار (البكري - المقديسي - الإدريسي)
7. يقع مقر هيئة الأمم المتحدة في (واشنطن - كاليفورنيا - فلوريدا)
8. لم يبحر لأبعد من مضيق جبل طارق ولقب بالملاح (ماجلان - جيمس كوك - كولومبس)
9. استضافت () - العراق - الكويت - قطر) اجتماع مجموعة العشرين عام 2020
10. من نتائج الحرب العالمية الأولى إنشاء (هيئة الأمم المتحدة - منظمة العالم الإسلامي - مجلس التعاون الخليجي -)
11. أصبح (لينين - موسوليني - سالين) مستشاراً ألمانياً وقائداً للحزب النازي
12. يصب نهر لينا في (البحر الأحمر - بحر الصين - البحر الميت)
13. تُعرف بسقف العالم نظراً لارتفاعها الشديد .. هضبة (منغوليا - سيبيريا - الشطوط)
14. عدد اللغات في الإتحاد الأوروبي (33 - 44 - 55) لغة
15. شهدت روسيا قيام الثورة (الرأس مالية - النازية - الفاشية) التي قادها البلاشفة
16. كانت أول مستعمرة أمريكية (نيويورك - كاليفورنيا - فلوريدا) الإنجليزية على ساحل المحيط الأطلسي
17. يُنسب كتاب نزهة المشتاق في اختراق الأفاق لـ (البكري - المقديسي - ابن ماجد)
18. تتكون الولايات المتحدة الأمريكية من (20 - 30 - 40) ولاية

ب/ 1. أكمل الفراغ الآتي بما يتناسب مع الجملة..

2. بما تفسرين الآتي؟؟

تنوع المناخ في الولايات المتحدة الأمريكية؟ اتساع المساحة
يشهد سكان الإتحاد الأوروبي نمواً بطيئاً؟ تحديد النسل وتأخر سن الزواج

أكبر الولايات المتحدة الأمريكية (الأسكا)
أصغر الولايات المتحدة الأمريكية (هاواي)

ج/ صححي ما تحته خط في الآتي..

1. تمكن موسوليني زعيم الحزب الفاشي عام 1922 م من تسلم السلطة في النمسا

3. من نتائج الحرب العالمية الثانية تفكك الدولة العثمانية.

4. أوفت بريطانيا بعهدا للشريف حسين ونصبته ملكاً على العرب

5. تشكل الحدود البرية لروسيا 14 دولة

| |
|-----------------------|
| إيطاليا |
| الحرب العالمية الأولى |
| نكثت بعهدا |
| الصين |

15.5

السؤال الثاني/ أ. أحيي د (✓) أو (X) أمام العبارات التالية..

| | |
|---|---|
| ✓ | 1 بروكسل في بلجيكا هي عاصمة الإتحاد الأوروبي |
| ✓ | 2 ساهم الرحالة ابن بطوطة في تقديم معلومات جديدة عن أماكن عدة في أفريقيا |
| ✓ | 3 يقع مقر جامعة الدول العربية في القاهرة |
| ✓ | 4 تفكك الإتحاد السوفييتي عام 1991 م |
| X | 5 تم اكتشاف استراليا على يد الملاحه الإيطالي أمريكو فيسبوتشي |
| ✓ | 6 يُعد عنصر المغول الآسيوي أول جنس بشري استوطن الأراضي التي تكونت منها الولايات المتحدة الأمريكية |
| ✓ | 7 تمتلك روسيا ربع المياه العذبة في العالم |
| ✓ | 8 المقر السابق لمنظمة أوبك كان في جنيف في سويسرا |
| ✓ | 9 الأيدي العاملة في الصين رخيصة |
| X | 10 شاركت المملكة العربية السعودية في الحروب العالمية الأولى والثانية بموافقة الملك عبد العزيز آل سعود |
| ✓ | 11 انتهت الحرب العالمية الثانية باستسلام دول المحور |
| ✓ | 12 ألقت الولايات المتحدة الأمريكية قنبلي هيروشيما ونجازاكي على اليابان |
| ✓ | 13 يتمتع جنوب أوروبا بمناخ البحر الأبيض المتوسط |
| ✓ | 14 تستغرق الرحلة بالقطار بين موسكو في الغرب وميناء فلاد فستوك في الشرق سبعة أيام |
| X | 15 تتمتع روسيا بارتفاع في الكثافة السكانية |
| ✓ | 16 أكبر عرق في الصين هو عرق هان |
| ✓ | 17 بلغت الخسائر البشرية في الحرب العالمية الثانية 70 مليون قتيل |
| ✓ | 18 بحر قزوين هو أكبر البحيرات في روسيا وأكبر مسطح مائي داخلي في العالم |
| ✓ | 19 تُعد أولى أفكار التوحيد السلمي في أوروبا بالتعاون والمساواة تلك التي قدمها فيكتور هوجو عام 1851 م |
| X | 20 تأسست الولايات المتحدة الأمريكية من 10 مستعمرات بريطانية على طول ساحل المحيط الأطلسي |

ب. صفني المصطلحات تبعاً لتعريفاتها في الجدول التالي..

| | | | | | |
|---|------------------|---|------------|---|------------|
| 1 | الكشوف الجغرافية | 2 | الاشتراكية | 3 | سايكس بيكو |
|---|------------------|---|------------|---|------------|

| | |
|---|--|
| 2 | اتفاقية سرية وقعت بين فرنسا وبريطانيا بموافقة روسيا على أن يتقاسم أملك الدولة العثمانية في الهلال الخصيب |
| 1 | رحلات بحرية قام بها مجموعة من الرحالة الأوروبيين |

ج. 1. وازني بين المسمى ونوع المظهر التضاريسي وموقعه في الجدول التالي..

| | | | | |
|------|-------|--------|-------|------|
| 5 | 4 | 3 | 2 | 1 |
| هورن | الألب | بيرينغ | إفرست | جوبي |

| | | | | |
|----------------|--------------------------|-------------------------------------|-----------------------|-------------------------------------|
| 1 | 2 | 5 | 4 | 3 |
| صحراء في الصين | أعلى قمة جبلية في العالم | بحيرة في الولايات المتحدة الأمريكية | سلسلة جبلية في أوروبا | مضيق يفصل بين آسيا وأمريكا الشمالية |

2. رتبي الدول التالية تبعاً لمساحتها من الأكبر إلى الأصغر

| | | | |
|------|-------|-------|----------------------------|
| كندا | الصين | روسيا | الولايات المتحدة الأمريكية |
| 2 | 4 | 1 | 3 |

11.5



السؤال الثالث/ أ. حددي على خريطة العالم سير رحلة فاسكو دي جاما في الوصول للهند/ المحيط الهندي/ المحيط الأطلسي

ب. صفني الدول العربية الآتية بين ماهي (مؤسس أو عضو في جامعة الدول العربية)



| | | |
|---------------|----------|---------|
| الدول المؤسسة | السعودية | مصر |
| الدول الأعضاء | السودان | الجزائر |

ج.1. حددي على خريطة الصين الآتي ..



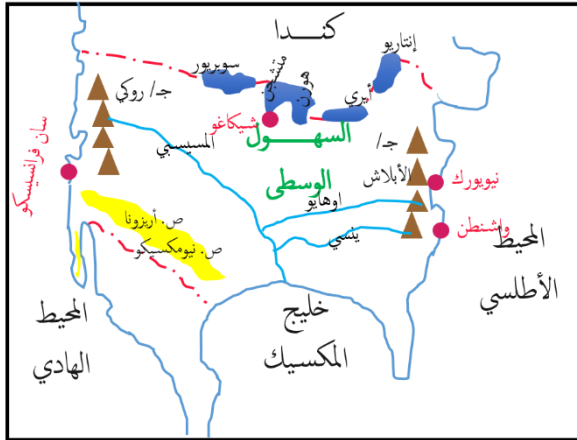
(هضبة منغوليا / نهر هوانغ هو / روسيا/ بحر الصين الشرقي)

أين تقع الصين بالنسبة لقارة آسيا؟ شرق آسيا

عاصمة الصين هي بكين

2. أ/أرسي خريطة الولايات المتحدة الأمريكية ووضحي عليها الآتي.. (الحدود / سلسلة جبال روكي / نهر المسيسي / السهول الوسطى /

العاصمة)



ب/ من اين ينبع و أين يصب نهر المسيسي؟

ينبع من سلسلة جبال روكي

يصب في خليج المكسيك

| | |
|--------------|--------------------|
| | |
| منظمة الأوبك | هيئة الأمم المتحدة |

2. إلى ماذا ترمز الأيقونات التالية؟؟

ابحثي عن الكلمة المفقودة ..

| | | | | | |
|---|----|---|---|---|---|
| ش | لا | ب | ا | ل | ا |
| م | ل | و | غ | ن | م |
| ب | ا | ط | ي | ب | ب |
| ص | ه | ي | ح | ك | ص |

| | | | | | | |
|---|---|---|---|----|---|---|
| ر | س | م | ت | لا | س | خ |
| ب | و | ن | د | ا | ل | ا |
| ر | ل | ا | ط | ي | ب | ب |
| م | ت | ه | ي | ح | ك | ص |

سلسلة جبلية في الولايات المتحدة الأمريكية

أطول أنهار أوروبا

انتهت الأسئلة بالتوفيق والنجاح.. معلمات المادة.. أ. ذكرى إخوان أ. وضحي السببي

| | | |
|-------------|-------------------|--------|
| اليوم | التاريخ | الزمن |
| الأحد | 1444 / 11 / 15 هـ | ساعتان |
| اسم الطالبة | | |
| | | |

نموذج اختبار مادة الاجتماعيات للصف الأول الثانوي مسارات" لعام 1444 هـ

ظلي في نموذج الاجابة اجابتك عن كل من الفقرات التالية :

1/ اختاري الإجابة الصحيحة من بين الخيارات التالية :

| | | | |
|----|--|----|--|
| 1 | سلسلة جبلية تقع في الاتحاد الأوروبي فيها أعلى قمة مونت بلانك | 2 | اكتشف طريق رأس الرجاء الصالح ووصل إلى الهند . |
| A | جبال الأبلش | A | جميس كوك |
| B | جبال الألب | B | فاسكودا جاما |
| C | جبال الأورال | C | ماجلان |
| D | جبال ماكنلي | D | كولومبس |
| 3 | شهدت قيام الحزب النازي قبل قيام الحرب العالمية الثانية . | 4 | أكبر البحيرات في روسيا الاتحادية . |
| A | روسيا | A | بحيرة التبت |
| B | إيطاليا | B | بحيرة قزوين |
| C | ألمانيا | C | بحيرة باكيال |
| D | اليابان | D | بحيرة سيبيريا |
| 5 | أول مستعمرة انجليزية تكونت منها أمريكا . | 6 | أولى دول العالم من حيث المساحة . |
| A | واشنطن | A | روسيا |
| B | تكساس | B | أمريكا |
| C | فرجينيا | C | الصين |
| D | لوس انجلوس | D | كندا |
| 7 | جبال تشكل الحدود بين الصين والهند . | 8 | يقع مقر هيئة الأمم المتحدة في . |
| A | الأورال | A | القاهرة |
| B | الهمالايا | B | نيويورك |
| C | الأبلش | C | جنيف |
| D | أطلس | D | جدة |
| 9 | قبل الحرب العالمية الأولى كان العالم العربي تحت الاستعمار . | 10 | بلغ عدد الدول التي شاركت الحرب العالمية الأولى . |
| A | البريطاني | A | 22 دولة |
| B | الفرنسي | B | 33 دولة |
| C | الاطالي | C | 44 دولة |
| D | الهولندي | D | 66 دولة |
| 11 | تعد الديانة الرئيسية في الصين . | 12 | أول جنس بشري استوطن أراضي أمريكا . |
| A | الإسلام | A | الروس |
| B | المهودية | B | التتار |
| C | النصرانية | C | العرب |
| D | البوذية | D | المغول |
| 13 | تبنت فكرة الدعوة إلى إقامة جامعة الدول العربية . | 14 | مثلت ميدان التنافس الأوروبي على أراضيها . |
| A | بريطانيا | A | أوروبا |
| B | ألمانيا | B | أمريكا |
| C | فرنسا | C | أفريقيا |
| D | روسيا | D | آسيا |
| 15 | أعلنت ألمانيا استسلامها في معركة المارن عام . | 16 | خرجت رحلات الكشوفات الجغرافية من قارة . |
| A | 1914 م | A | آسيا |
| B | 1939 م | B | أوروبا |
| C | 1918 م | C | أفريقيا |
| D | 1945 م | D | أستراليا |
| 17 | أنشأت بسبب الحريق الإجرامي الذي ارتكب في المسجد الأقصى . | 18 | يبلغ عدد دول الاتحاد الأوروبي . |
| A | منظمة التعاون الإسلامي | A | 22 دولة |
| B | جامعة الدول العربية | B | 25 دولة |
| C | هيئة الأمم المتحدة | C | 23 دولة |
| D | رابطة العالم الإسلامي | D | 27 دولة |
| 19 | تمتلك ثاني أكبر ميزانية للبحوث والتنمية في العالم . | 20 | يعتبر أطول أنهار الاتحاد الأوروبي وينبع من ألمانيا . |
| A | روسيا | A | نهر الفولغا |
| B | الاتحاد الأوروبي | B | نهر الدانوب |
| C | الصين | C | نهر أمور |
| D | أمريكا | D | نهر كوليمبا |

2 / قرري مدى صحة أو خطأ كل من الفقرات التالية .

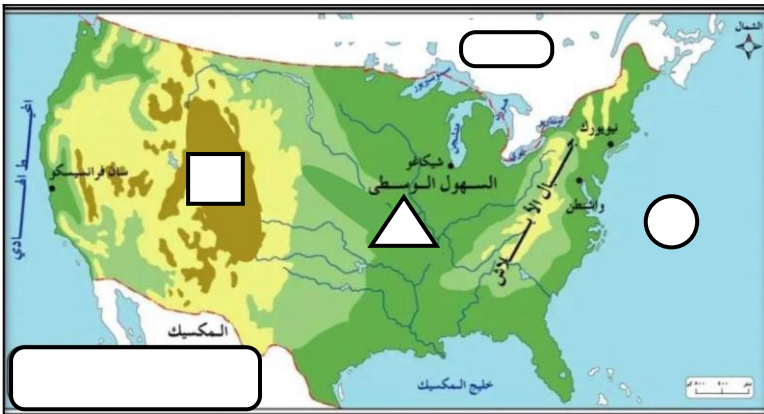
| العبارة | A : صح | B : خطأ |
|---------|--------|---|
| 21 | | كان السبب المباشر لقيام الحرب العالمية الثانية اغتيال طالب صربي ولي عهد النمسا . |
| 22 | | قامت الولايات المتحدة الأمريكية بإلقاء القنبلة الذرية على مدينة برلين الألمانية . |
| 23 | | ضمت بقية أجزاء الولايات المتحدة الأمريكية عن طريق الكشوفات الجغرافية . |
| 24 | | بلغت الخسائر البشرية في الحرب العالمية الأولى 9 مليون قتيل . |
| 25 | | أدى الانفاق العسكري الكبير في روسيا لضعفها اقتصادياً . |
| 26 | | من أهداف الاتحاد الأوروبي تأسيس المواطنة الأوروبية . |
| 27 | | طلبت ألمانيا بمدينة داننجنج التي يمثل الروس أغلب سكانها . |
| 28 | | تقع الصين شرق آسيا ويحكمها الحزب الشيوعي . |
| 29 | | عقدت قمة مجموعة العشرين عام 2020 في اليابان . |
| 30 | | نسبة ضئيلة من أراضي روسيا صالحة للزراعة . |

3 / أقرني المنظمات في العمود الأول بما يناسبها من أهدافها في العمود الثاني .

| الرقم | الأهداف |
|-------|--|
| A | • الدفاع عن المصالح العربية والقضايا الوطنية . |
| B | • تنسيق وتوحيد السياسات النفطية للبدان الأعضاء . |
| C | • التصدي للتحديات التي تواجه العالم الإسلامي |
| D | • حفظ السلام والأمن الدولي |

| م | المنظمة |
|----|------------------------|
| 31 | منظمة أوبك |
| 32 | هيئة الأمم المتحدة |
| 33 | جامعة الدول العربية |
| 34 | منظمة التعاون الإسلامي |

| | |
|-------------|--|
| 4 / من يكون | <ul style="list-style-type: none"> • أنشأ أكاديمية للعلوم البحرية واستعان بخبراء الفلك والملاحة. • معاهدة سرية بين فرنسا وبريطانيا لتقسيم المشرق العربي. |
| 5 / اريحي | <ul style="list-style-type: none"> • بداية الحرب العالمية الثانية. • نشأة منظمة رابطة العالم الإسلامي |



6 / (دولة تكونت من 13 مستعمرة بريطانية) .

من خلال الخريطة التي أمامك أجيبي عما يلي :

| | |
|--|---|
| أ / اسم الدولة : | |
| ب / سمي المظاهر التي تمثلها الرموز التالية : | |
| 1 | ● |
| 2 | ▲ |
| 3 | ▬ |
| 4 | ■ |

اختبار الصف الأول ثانوي مادة الدراسات الاجتماعية الفصل الدراسي الثالث (الاختبار الثاني ٤٠ درجة)

اسم الطالبة /..... الصف.....

السؤال الأول :

اخترى العبارة الصحيحة من بين الخيارات التالية :

- ١/ اسهم في الإرشاد الملاحي لعدد من الكشوف الجغرافية
أ-أبن ماجد ب - الادريسي ج -أبن بطوطه د- المقدسي
- ٢/مكتشف طريق راس الرجاء الصالح
أ - فاسكوداجاما ب- كولومبوس. ج-جون كابوت. د - جيمس كوك
- ٣/تمكن من الوصول للسواحل الشرقية لأستراليا ونيوزيلندا
أ-الأمير هنري الملاح. ب- ماجلان. ج-جون كابوت. د - جيمس كوك
- ٤/بلغ عدد الدول المشاركة في الحرب العالمية الأولى
أ- ٢٢. ب- ٣٣. ج -٤٤. د- ٥٥.
- ٥/ بلغت الخسائر البشرية في الحرب العالمية الأولى
أ - ٩ مليون نسمة. ب- ١٠ مليون نسمة. ج-١١ مليون نسمة. د -١٢ مليون نسمة
- ٦/من نتائج الحرب العالمية الأولى وقوع عدد الدول العربية تحت الانتداب وفق اتفاقية
أ - لندن. ب-سايكس بيكو. ج- وعد بلفور. د- باريس
- ٧/ من آثار الحرب العالمية الأولى صدور وعد بلفور سنة ١٩١٧م بإعطاء وطن قومي لليهود في
أ - فلسطين. ب -العراق. ج- سوريا. د - لبنان
- ٨ /اتسعت مساحة بعض دول اوربا بعد الحرب العالمية الأولى مثل
أ - ألمانيا. ب - اليابان. ج - بريطانيا. د- النمسا
- ٩/ اتبعت سياسة العزله لإبعاد النفوذ الأوربي
أ - القارة الاسيوية. ب- القارة الافريقية. ج - القارة الامريكية. د- استراليا
- ١٠ -قامت فيها الثورة الشيوعية وأقاموا فيها أول دولة اشتراكية معلنين قيام
أ - الاتحاد السوفيتي. ب- الولايات المتحدة الأميركية ج - يوغسلافيا. د- المملكة المتحدة
- ١١ -تأسست الولايات المتحدة الأميركية من مستعمرات بريطانياه كان عددها
أ - ١١. ب- ١٢. ج - ١٣. د - ١٤
- ١٢ / اكبر الأقليات في الولايات المتحدة الأميركية:
أ - الأفارقة. ب- الأوربيون ج- الأستراليون. د - العرب
- ١٣ / أكثر الدول الأعضاء في الاتحاد الأوروبي سكاناً هي دولة :
أ - ألمانيا. ب- فرنسا. ج-إيطاليا. د- مالطه

١٤ / عدد الدول الأعضاء في الإتحاد الأوروبي :

أ - ٢٧ . ب - ٢٨ . ج - ٢٩ . د - ٣٠

١٥ / تفصل روسيا بين قارتي :

أ - آسيا واوربا . ب- أوروبا وأفريقيا . ج - آسيا وأستراليا . د - آسيا وأفريقيا

١٦ / أكثر بلدان العالم اكتظاظا بالسكان :

أ - بريطانيا . ب - الهند . ج - أمريكا . د - الصين

١٧ / تمتلك الصين أكبر ميزانية للبحوث والتنمية في العالم.

١ - أول . ب - ثاني . ج - ثالث . د - رابع.

١٨ / تعد الحضارة أحد أقدم الحضارات في العالم حيث ازدهرت في حوض النهر الأصفر

أ - الصينية . ب - الهندية . ج - المصرية . د - العراقية.

١٩ / يحد الصين دوله.

أ - ١٤ . ب - ١٥ . ج - ١٦ . د - ١٧ .

٢٠ - تقع روسيا الإتحادية في اوراسيا.

أ - شرق . ب - غرب . ج - شمال . د - جنوب

السؤال الثاني :

ضعي علامة (صح أو خطأ) بعد مايناسبها في العبارات التالية :

- ١/ من دوافع الكشوف الجغرافية الدينيه الرغبة في الحصول على منتجات الشرق (.....)
- ٢/ قامت حركة الكشوف الجغرافية لدوافع سياسيه واقتصادية فقط. (.....)
- ٣/ الكشوف الجغرافية هي الرحلات البحرية الواسعة التي قام بها بعض الأوروبيين في القرن ١٥ الميلادي لاكتشاف مناطق جديدة. (.....)
- ٤/ من نتائج الكشوف الجغرافية على العالم العربي والإسلامي اضعاف دولة المماليك وسقوطها. (.....)
- ٥/ تعد الولايات المتحدة الأميركية مثالا للتنوع العرقي والثقافي (.....)
- ٦/ السبب المباشر للحرب العالمية الأولى هو اغتيال طالب صربي لولي عهد النمسا. (.....)
- ٧/ لم يوافق الملك عبدالعزيز رحمه الله على التعاون مع بريطانيا في حملتها ضد الدولة العثمانية. (.....)
- ٨ / تمكن الحزب النازي من تسلم الحكم في إيطاليا واصبح هتلر مستشارًا. (.....)
- ٩/ تعتبر بريطانيا من دول الحلفاء في الحرب العالمية الثانية. (.....)
- ١٠/ اندلعت الحرب العالمية الثانية سنة ١٩٣٩م. (.....)
- ١١/ مرحلة تفوق دول المحور هي مرحلة تميزت بانتصار المانيا وحلفائها في الحرب العالمية الثانية. (.....)
- ١٢/ من نتائج الحرب العالمية الثانية تقسيم باريس عاصمة فرنسا إلى قسمين شرقي وغربي. (.....)
- ١٣/ عدد سكان الولايات المتحدة الأميركية (٣٢٧,٧ مليون نسمة). (.....)
- ١٤ / تعتبر قمة مونت بلانك أعلى قمة جبلية في الولايات المتحدة الأميركية. (.....)
- ١٥ / أطول أنهار اوربا هو نهر الدانوب. (.....)
- ١٦ / يعتبر المناخ الصيني أحد اقسام المناخات في الإتحاد الأوروبي. (.....)
- ١٧ / تشكل جبال الأورال الحدود التقليدية بين روسيا الآسيوية وروسيا الأوروبية. (.....)
- ١٨ / يعد النمو السكاني في الولايات المتحدة الأميركية بطيئًا. (.....)
- ١٩ / اتخذ الملك عبدالعزيز رحمه الله موقفا مسانداً لطرف ضد اخر حماية لمصالح بلاده. (.....)
- ٢٠ / الصين في المرتبة الثالثة عالمياً من حيث المساحة. (.....)
- ٢١ / المشكلة الرئيسية لضعف الاقتصاد الروسي هي الانفاق العسكري الكبير. (.....)

انتهت الأسئلة

اختبار الصف الأول ثانوي مادة الدراسات الاجتماعية الفصل الدراسي الثالث (الاختبار الثاني ٤٠ درجة)

اسم الطالبة /
..... الصف ...

السؤال الأول :

اخترى العبارة الصحيحة من بين الخيارات التالية :

- ١/ اسهم في الإرشاد الملاحي لعدد من الكشوف الجغرافية
أ- **أبن ماجد** ب- الادريسي ج- أبن بطوطة د- المقدسي
- ٢/ مكتشف طريق راس الرجاء الصالح
أ- **فاسكوداجاما** ب- كولومبوس ج- جون كابوت د- جيمس كوك
- ٣/ تمكن من الوصول للسواحل الشرقية لأستراليا ونيوزيلندا
أ- الأمير هنري الملاح ب- ماجلان ج- جون كابوت د- **جيمس كوك**
- ٤/ بلغ عدد الدول المشاركة في الحرب العالمية الأولى
أ- ٢٢ ب- **٣٣** ج- ٤٤ د- ٥٥
- ٥/ بلغت الخسائر البشرية في الحرب العالمية الأولى
أ- **٩ مليون نسمة** ب- ١٠ مليون نسمة ج- ١١ مليون نسمة د- ١٢ مليون نسمة
- ٦/ من نتائج الحرب العالمية الأولى وقوع عدد الدول العربية تحت الانتداب وفق اتفاقية
أ- لندن ب- **سايكس بيكو** ج- وعد بلفور د- باريس
- ٧/ من آثار الحرب العالمية الأولى صدور وعد بلفور سنة ١٩١٧م بإعطاء وطن قومي لليهود في
أ- **فلسطين** ب- العراق ج- سوريا د- لبنان
- ٨/ اتسعت مساحة بعض دول أوروبا بعد الحرب العالمية الأولى مثل
أ- ألمانيا ب- اليابان ج- **بريطانيا** د- النمسا
- ٩/ اتبعت سياسة العزله لإبعاد النفوذ الأوربي
أ- القارة الآسيوية ب- القارة الأفريقية ج- **القارة الأمريكية** د- استراليا
- ١٠- قامت فيها الثورة الشيوعية وأقاموا فيها أول دولة اشتراكية معلنين قيام
أ- **الاتحاد السوفيتي** ب- الولايات المتحدة الأمريكية ج- يوغسلافيا د- المملكة المتحدة
- ١١- تأسست الولايات المتحدة الأمريكية من مستعمرات بريطانية كان عددها
أ- ١١ ب- ١٢ ج- **١٣** د- ١٤
- ١٢/ أكبر الأقليات في الولايات المتحدة الأمريكية:
أ- الأفارقة ب- **الأوروبيون** ج- الأستراليون د- العرب
- ١٣/ أكثر الدول الأعضاء في الاتحاد الأوروبي سكاناً هي دولة :
أ- **ألمانيا** ب- فرنسا ج- إيطاليا د- مالطة

١٤ / عدد الدول الأعضاء في الإتحاد الأوروبي :

أ - ٢٧ . ب - ٢٨ . ج - ٢٩ . د - ٣٠

١٥ / تفصل روسيا بين قارتي :

أ - آسيا وأوربا . ب - أوروبا وأفريقيا . ج - آسيا وأستراليا . د - آسيا وأفريقيا

١٦ / أكثر بلدان العالم اكتظاظًا بالسكان :

أ - بريطانيا . ب - الهند . ج - أمريكا . د - الصين

١٧ / تمتلك الصين أكبر ميزانية للبحوث والتنمية في العالم.

١ - أول . ب - ثاني . ج - ثالث . د - رابع.

١٨ / تعد الحضارة أحد أقدم الحضارات في العالم حيث ازدهرت في حوض النهر الأصفر

أ - الصينية . ب - الهندية . ج - المصرية . د - العراقية.

١٩ / يحد الصين دوله.

أ - ١٤ . ب - ١٥ . ج - ١٦ . د - ١٧.

٢٠ - تقع روسيا الإتحادية في اوراسيا.

أ - شرق . ب - غرب . ج - شمال . د - جنوب

السؤال الثاني :

ضعي علامة (صح أو خطأ) بعد مايناسبها في العبارات التالية :

- ١/ من دوافع الكشوف الجغرافية الدينية الرغبة في الحصول على منتجات الشرق (..X..)
- ٢/ قامت حركة الكشوف الجغرافية لدوافع سياسية واقتصادية فقط. (..X..)
- ٣/ الكشوف الجغرافية هي الرحلات البحرية الواسعة التي قام بها بعض الأوروبيين في القرن ١٥ الميلادي لاكتشاف مناطق جديدة. (..✓...)
- ٤/ من نتائج الكشوف الجغرافية على العالم العربي والإسلامي اضعاف دولة المماليك وسقوطها. (..✓...)
- ٥/ تعد الولايات المتحدة الأميركية مثالاً للتنوع العرقي والثقافي (..✓...)
- ٦/ السبب المباشر للحرب العالمية الأولى هو اغتيال طالب صربي لولي عهد النمسا. (..X..)
- ٧/ لم يوافق الملك عبدالعزيز رحمه الله على التعاون مع بريطانيا في حملتها ضد الدولة العثمانية. (..✓...)
- ٨ / تمكن الحزب النازي من تسلّم الحكم في إيطاليا واصبح هتلر مستشاراً. (..X..)
- ٩/ تعتبر بريطانيا من دول الحلفاء في الحرب العالمية الثانية. (..✓...)
- ١٠/ اندلعت الحرب العالمية الثانية سنة ١٩٣٩م. (..✓...)
- ١١/ مرحلة تفوق دول المحور هي مرحلة تميزت بانتصار المانيا وحلفائها في الحرب العالمية الثانية. (..✓...)
- ١٢/ من نتائج الحرب العالمية الثانية تقسيم باريس عاصمة فرنسا إلى قسمين شرقي وغربي. (..X..)
- ١٣/ عدد سكان الولايات المتحدة الأميركية (٣٢٧,٧ مليون نسمة). (..X..)
- ١٤ / تعتبر قمة مونت بلاك أعلى قمة جبلية في الولايات المتحدة الأميركية. (..X..)
- ١٥ / أطول أنهار أوربا هو نهر الدانوب. (..✓...)
- ١٦ / يعتبر المناخ الصيني أحد أقسام المناخات في الإتحاد الأوروبي. (..X..)
- ١٧ / تشكل جبال الأورال الحدود التقليدية بين روسيا الآسيوية وروسيا الأوروبية. (..✓...)
- ١٨ / يعد النمو السكاني في الولايات المتحدة الأميركية بطيئاً. (..✓...)
- ١٩ / اتخذ الملك عبدالعزيز رحمه الله موقفاً مسانداً لطرف ضد آخر حماية لمصالح بلاده. (..X..)
- ٢٠ / الصين في المرتبة الثالثة عالمياً من حيث المساحة. (..✓...)
- ٢١ / المشكلة الرئيسية لضعف الاقتصاد الروسي هي الانفاق العسكري الكبير. (..✓...)

انتهت الأسئلة