

# أوراق عمل

مادة

الدراسات الاجتماعية

الصف الثاني متوسط

الفصل الدراسي الثاني

أبنائي الطلاب : أسأل الله لكم دوام النجاح والتفوق

## س الغلاف الجوي

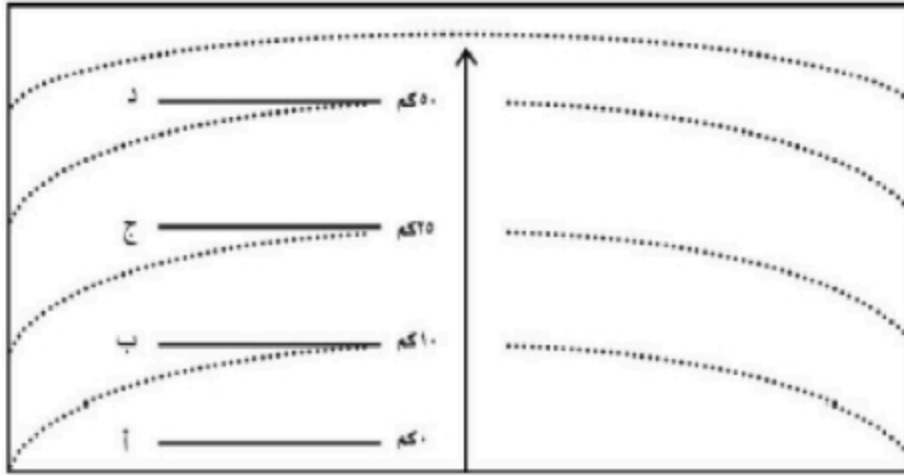
اسحب طبقات الغلاف الجوي في الشكل الآتي :

التروبوسفير

الأوزون

الستراتوسفير

الميزوسفير



اختر الإجابة الصحيحة مما يلي:

١) أيُّ مما يأتي من نتائج مؤثرات الغلاف الجوي؟

حدوث الزلازل على الأرض

دعم الحياة.

٢) أيُّ طبقة من طبقات الغلاف الجوي فيها معظم الأوزون؟

الميزوسفير

التروبوسفير

الستراتوسفير

## درس الطقس والمناخ

ضع إشارة صح أو خطأ أمام العبارة كلاً من العبارات التالية

١) كلما اقتربت من خط الاستواء، كان الجو أكثر دفئاً.

٢) ترتفع درجة الحرارة كلما ارتفعنا عن مستوى سطح البحر.

٣) التقنية الحديثة والأقمار الصناعية لا تسهم في معرفة الطقس

صل المجموعة (أ) بما يناسبها من المجموعة (ب) :

المجموعة (أ)	المجموعة (ب)
• المناخ:	• هو وصف حالة الجو بعناصره المختلفة في منطقة محددة في مدة زمنية قصيرة (عدد من الساعات إلى مدة تصل إلى أسبوعين حداً أقصى)
• الطقس	• هو متوسط حالات الجو في مكان محدد، لمدة طويلة، من حيث الحرارة والضغط الجوي، والرياح، والرطوبة

## عناصر الطقس والمناخ

صل المجموعة (أ) بما يناسبها من المجموعة (ب) :

المجموعة (أ)	المجموعة (ب)
الحرارة تقاس ب :	الهيجرومتر - السيكرومتر
الضغط الجوي تقاس ب :	الانيمومتر لقياس سرعتها، دوارة الرياح لقياس حجمها
الرياح تقاس ب :	الباروجراف؛ البارومتر المعدن
الرطوبة تقاس ب :	ترمومتر تقليدي؛ ترمومتر إلكتروني

ضع إشارة صح أو خطأ أمام العبارة كلاً من العبارات التالية

(١) يختلف الضغط الجوي من مكان إلى آخر على سطح الأرض

(٢) ترتفع درجة الحرارة على المنطقة الواقعة بين مدار السرطان ومدار الجدي

(٣) من مظاهر التكثف الضباب و السحب

## ورقة عمل درس الغلاف الصخري

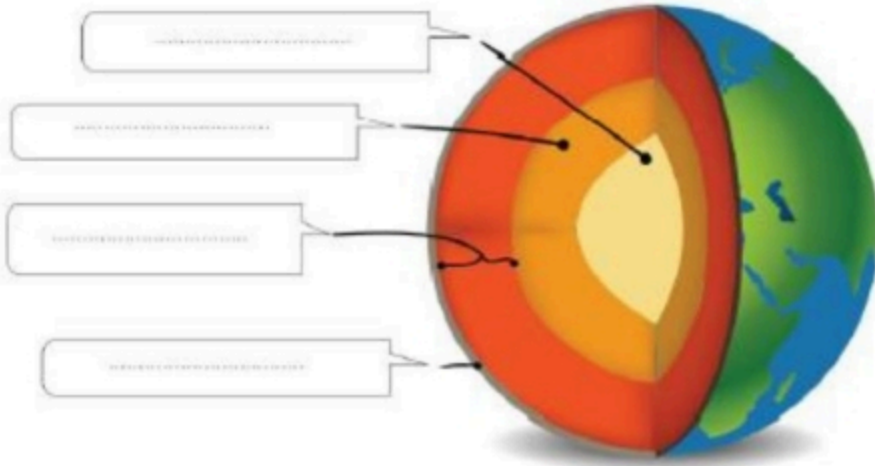
اسحب الكلمات لملا يناسبها

الوشاح

النواة الداخلية

النواة الخارجية

الغلاف الصخري



اختر الإجابة الصحيحة مما يلي:

١) ما أفضل وصف لقشرة الأرض؟

مكان يحوي ماء ويابسة

معدن منصهر

٢) على أي طبقات الأرض يكون الغلاف الجوي؟

طبقة الوشاح

القشرة الأرضية

النواة الداخلية

## ٥. علاقة عوامل البناء الداخلي والخارجية لتشكيل سطح الأرض

ضع إشارة صح أو خطأ أمام العبارة كلاً من العبارات التالية

(١) التجوية نوعان : كيميائية وميكانيكية.

(٢) في المملكة العربية السعودية براكين قديمة

(٣) الانكسارات والالتواءات من العمليات الداخلية السريعة

(٤) تقاس الزلازل بالترموتر

(٥) مقياس ريختر يزيد على ١٠٠ درجة.

(٦) التعرية من العمليات الخارجية لتشكيل سطح الأرض

اسحب الكلمات ملأ ما يناسبها :

التعرية

الجانبية

البراكين

الالتواءات

العمليات الباطنية لتشكيل سطح الأرض تتكون من : عمليات بطيئة، مثل.....،

وعمليات سريعة، مثل.....

ومن أبرز عوامل التعرية : عامل.....

العمليات الخارجية التي تشكل سطح الأرض تتكون من عمليتين، هما التجوية و.....

## الغلاف الحيوي

صل المجموعة (أ) بما يناسبها من المجموعة (ب) :

المجموعة (أ)	المجموعة (ب)
<ul style="list-style-type: none"><li>• البيئة</li><li>• الغلاف الحيوي</li><li>• من المحميات الطبيعية في المملكة العربية السعودية</li></ul>	<ul style="list-style-type: none"><li>• هو الحيّز أو المكان الذي يمكن أن تعيش فيه المخلوقات الحيّة</li><li>• محمية الطيبق - محمية محازة الصيد</li><li>• هي الوسط الذي يحيط بالمخلوق الحي، فيؤثر فيه ويتأثر به.</li></ul>

اسحب الكلمات ملأ يناسبها

المناخ

الحياة النباتية

من أهم العوامل المؤثرة في توزيع الحيوانات على سطح الأرض .....

يُقصد ب ..... الطبيعية كل ما ينبت طبيعياً دون أي تدخل من الإنسان.

## س الأقاليم الحيوية

ضع إشارة صح أو خطأ أمام العبارة كلاً من العبارات التالية

١) تُعرف الغابات الاستوائية بطول نباتاتها.

٢) يتسم الإقليم المداري الاستوائي بانخفاض درجة الحرارة

٣) تتسم الأقاليم الحيوية بالتشابه جميعها في المناخ

٤) تقع المملكة العربية السعودية في الإقليم المداري

٥) ينقسم الإقليم المعتدل إلى دافئ وبارد.

اختر الإجابة الصحيحة مما يلي:

١) تسقط الأمطار في الإقليم الاستوائي على مدار العام مع زيادة في فصلي:

الخريف والشتاء

الربيع والخريف

الصيف والشتاء

٢) ينقسم الإقليم الصحراوي إلى:

الدافئ والبارد.

المعتدل والبارد.

الحار والبارد.



الاسم : .....  
الفصل : .....  
التاريخ : ...../...../..... 143 هـ  
الموضوع : المظاهر الطبيعية لدول مجلس التعاون الخليجي

### أكمل الفراغات التالية :

- 1) تقع دول مجلس التعاون الخليجي في الجزء الجنوبي ..... من قارة .....
- 2) تقع مجلس التعاون الخليجي بين خطي طول 34 و ..... شرقا ودانرتي عرض ..... و 32 شمالا
- 3) تبلغ مساحة دول مجلس التعاون الخليجي تقريبا ..... كم

### أختار الإجابة الصحيحة مما بين الأقواس :


1- من أهم السهول الساحلية لدول مجلس التعاون

( سهول نجد - سهول تهامة - سهول عسير )

2- من أهم الهضاب في دول مجلس التعاون

( هضبة تهامة - هضبة الحجاز - هضبة عسير )

تطل دول مجلس التعاون الخليجي  
على ثلاثة بحار



.....

.....

.....

توقيع ولي الأمر :



لم تتقن



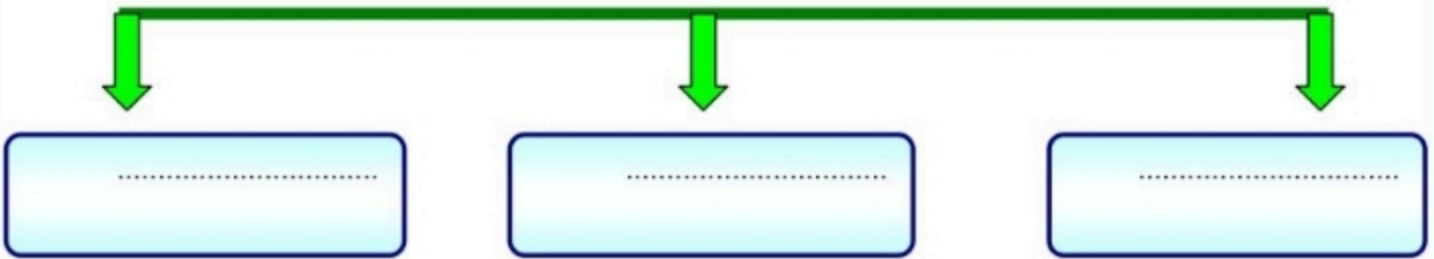
أتقنت

توقيع المعلم :

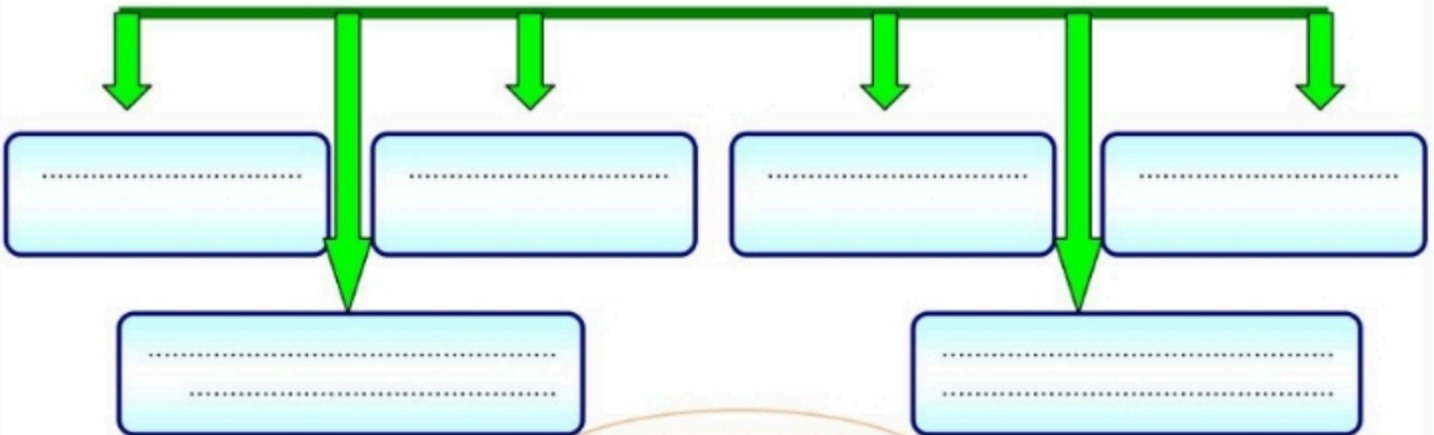
## اجتماعيات ثاني متوسط

الاسم : .....  
الفصل : .....  
التاريخ : ..... / ..... / 143 هـ  
الموضوع : المظاهر البشرية لدول مجلس التعاون

من أهم أسباب النمو السكاني  
في الفترة السابقة



الخصائص المشتركة لدول  
مجلس التعاون الخليجي :



أهم الصناعات



توقيع ولي الأمر :



لم تتقن



أتقنت

توقيع المعلمة :

## الصف الثاني المتوسط

### ن لدول الخليج العربية

السؤال الأول: تخير الإجابة الصحيحة مما بين القوسين:

- ١- تم إنشاء مجلس التعاون الخليجي عام  
( ١٤٠٢ هـ - ١٤١١ هـ - ١٤٠١ هـ )
- ٢- يوجد مقر مجلس التعاون في مدينة  
( الدمام - مكة المكرمة - الرياض )
- ٣- عدد الأجهزة التي تكون مجلس التعاون  
( ثلاثة - خمسة - ستة )
- ٤- يعقد المجلس الوزاري لمجلس الخليجي اجتماعه مرة كل  
( سنتين - ٣ أشهر - ستة أشهر )

السؤال الثاني: ضع علامة (√) أمام العبارة الصحيحة وعلامة (x) أمام العبارة الخطأ:

١	من أسباب نجاح مجلس التعاون الخليجي وجود سمات مشتركة بين دوله
٢	ساهم مجلس التعاون في تحقيق التكامل بين أعضائه
٣	يتكون المجلس الوزاري من قادة الدول الأعضاء

السؤال الثالث: أكمل الفراغات الآتية بكلمات مناسبة:

- ١- تتكون ..... من أمين عام وأمناء مساعدون
- ٢- يتكون ..... من قادة الدول الاعضاء

## الدول الخليج العربية

أختار الإجابة الصحيحة مما يأتي

١- المجلس الأعلى لمجلس التعاون الخليجي يتكون من :

رؤساء  
الوزراء

رؤساء الدول  
الأعضاء

وزراء  
الخارجية

٢- المجلس الوزاري لمجلس جامعة الدول العربية :

رؤساء  
الوزراء

رؤساء الدول  
الأعضاء

وزراء  
الخارجية

أكمل المخطط التالي

أجهزة مجلس التعاون لدول الخليج العربية

المجلس الوزاري

المجلس الاعلى

## دول الخليج العربية

السؤال الأول: ضع علامة (√) أمام العبارة الصحيحة وعلامة (X) أمام العبارة الخاطئة:

١	من وسائل تقدم دول مجلس التعاون إقامة مشروعات مشتركة
٢	الأنظمة في دول مجلس التعاون مختلفة وغير متماثلة
٣	تشارك دول مجلس التعاون في حفظ الأمن الدولي
٤	ينسق مجلس التعاون الخليجي الآراء في القضايا العربية والإسلامية
٥	التعاون بين دول مجلس المجلس يكون في القطاع الحكومي فقط

السؤال الثاني: صل كل إجابة بما يناسبها :

م	(أ)	(ب)
١	المجلس الأعلى	يجتمعون مرة كل ٣ أشهر
٢	الأمانة العامة	يضم قادة الدول الأعضاء
٣	المجلس الوزاري لدول مجلس التعاون	يتكون من أمين عام وأمناء مساعدون

بن لدول الخليج العربية

السؤال الأول: ضع علامة (√) أمام العبارة الصحيحة وعلامة (x) أمام العبارة الخطأ:

١	من إنجازات مجلس التعاون التوقيع على اتفاقية الدفاع المشترك
٢	يُعامل طلاب المراحل التعليمية في دول مجلس التعاون بالتساوي
٣	التعاون في مكافحة الإرهاب من الإنجازات السياسية لمجلس التعاون
٤	تتعاون دول مجلس التعاون الخليجي في مجال الاعلام

السؤال الثاني: تغيّر الإجابة الصحيحة مما بين القوسين:

- ١- دعم مجلس التعاون لقضية فلسطين من الإنجازات  
(الأمنية - السياسية - الاقتصادية )
- ٢- من الإنجازات العسكرية للمجلس  
(دعم وحدة العراق - درع الجزيرة - منح القروض )

السؤال الثالث: أكتب الرقم المناسب من المجموعة ( أ ) أمام العبارة المناسبة في المجموعة ( ب ):

م	( أ )	الإجابة	( ب )
١	دعم قضية فلسطين		إنجازات اقتصادية
٢	اتفاقية الدفاع المشترك		إنجازات سياسية
٣	حرية انتقال السلع		إنجازات عسكرية
٤	اعتماد أنظمة حماية الصحة		

معمل درس

التعاون لدول الخليج العربية

السؤال الاول: ضع علامة (√) أمام العبارة الصحيحة وعلامة (x) أمام العبارة الخطأ:

١	زيادة استخدام العمالة من الخارج لم يؤثر على دول مجلس التعاون
٢	التطور الاقتصادي في دول مجلس التعاون لم يصاحبه ظهور بعض المشكلات
٣	ضعف برامج التدريب من أسباب مشكلة البطالة
٤	العمالة الوافدة ينتج عنها بعض المشكلات الأمنية

السؤال الثالث: تخير الإجابة الصحيحة مما بين القوسين:

١- ليس من أسباب مشكلة البطالة

- قوة برامج التدريب
- رفض الشباب الانخراط بالأعمال المهنية
- اتجاه أصحاب العمل للعمالة الوافدة لانخفاض اجورهم

٢- ألا يجد المرء عملاً وهو قادر عليه وراغب فيه

- العمالة الوافدة
- البطالة
- فرص العمل

٢- إضافة أشياء ضارة الى الماء أو الهواء أو التربة

- التصحر
- التلوث البيئي
- الرطوبة

## التعاون لدول الخليج العربية

### القوسين:

- ١- تسرب النفط من أسباب تلوث  
(التربة - الماء - الهواء )
- ٢- من أسباب تلوث التربة  
(المبيدات الحشرية - عوادم السيارات - دخان المصانع )
- ٣- من أسباب التصحر  
(إزالة الجبال - قطع الأشجار - منع الرعي الجائر )
- ٤- الرعي الجائر سبب لمشكلة  
(تلوث الماء - تلوث الهواء - التصحر )

السؤال الثاني: ضع علامة (√) أمام العبارة الصحيحة وعلامة (x) أمام العبارة الخطأ:

١	أقرت دول مجلس التعاون نظام موحد لإدارة النفايات
٢	ترجع مشكلة التصحر لأسباب من صنع البشر فقط
٣	لمواجهة مشكلة التصحر تم إنشاء المحميات الطبيعية
٤	أسبوع الشجرة من الأسابيع التوعوية لرعاية البيئة

السؤال الثالث: أكتب المفهوم الدال على العبارة الآتية:

- ١- تدهور الأرض الزراعية والرعية لأسباب طبيعية وبشرية (.....)
- ٢- تغيير في مكونات البيئة بفعل الإنسان مما يؤدي لظهور خلل (.....)