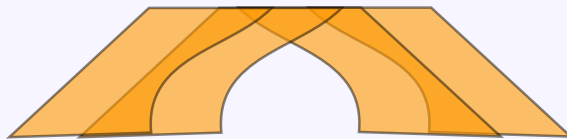


تم تحميل وعرض هذا الكتاب من موقع واجبي:



www.wajabi.net

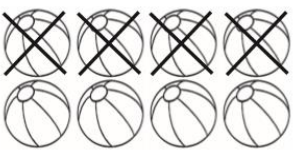
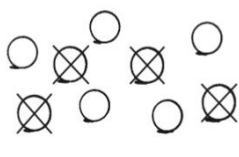
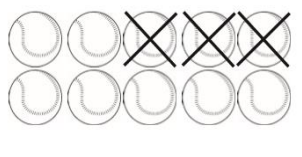
اشترك معنا في مواقع ليصلك كل جديد:



السؤال الأول: أكتب العدد المتبقي ، أكتب جملة الطرح ، مهارة حل مسائل رياضية

١٠٠	١٠ حمامات على الأرض، طارَت ٢ منها. كم حمامة بقيت؟ ○ ○	٦ قطع عدّ، أخذنا ٣ منها. كم يتبقى؟ قطعة	٧ قطع عدّ، أخذنا ٥ منها. كم يتبقى؟ قطعة
-----	---	---	---

السؤال الثاني: أكتب جملة الطرح : مهارة كتابة جمل الطرح

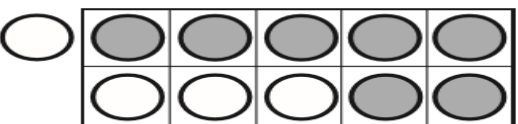
١٠٠	٣ 	٢ 	١ 
 ○ ○ ○ ○ ○ ○

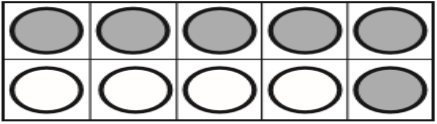
السؤال الثالث: أكتب ناتج الطرح : مهارة إيجاد ناتج (الجمع إلى الصفر)

١٠٠ = ١ - ٥ = ٣ - ٦ = ٠ - ٤
 = ٣ - ٤ = ٥ - ٥ = ٢ - ٦
 = ٥ - ٦ = ٢ - ٤ = ٢ - ٥

السؤال الرابع: أكتب ناتج الطرح : مهارة إيجاد ناتج الطرح من الأعداد (٤ ، ٥ ،)

١٠٠ = ٥ - ٧ = ٤ - ٨ = ١ - ٩
 = ٢ - ٨ = ٦ - ٩ = ٧ - ٨





..... = ٤ - ١١

..... = ٧ - ١١

..... = ٤ - ١٠

..... = ٦ - ١٠