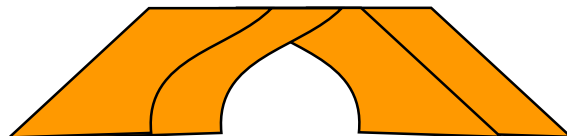




[www.wajibi.net](http://www.wajibi.net)


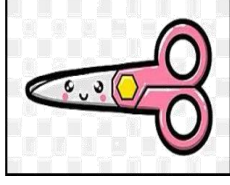
اشترك معنا في مواقع ليصلك كل جديد:



|                               |  |                                     |
|-------------------------------|--|-------------------------------------|
| التاريخ:                      | <br>وزارة التعليم<br>Ministry of Education | المملكة العربية السعودية            |
| المادة: العلوم                |  | وزارة التعليم                       |
| الصف: الأول الابتدائي         |  | الإدارة العامة للتعليم بمنطقة ..... |
| اسم الطالب/ة..... الفصل/..... |  |                                     |

## تقويم ختامي لمهارات علوم الصف الأول – (الفصل الدراسي الثاني) عام ١٤٤٤


السؤال الأول: نضع علامة (صح) تحت الموارد الطبيعية الحية:







السؤال الثاني: نصل كل كلمة بالصورة المناسبة:



الترشيد

صلب

موارد الارض

مخلوط

غاز



السؤال الثالث: نحدد الصورة التي تشير الى تلوث الهواء والماء والتربة:







السؤال الرابع: نكتب تحت كل صورة حالة المادة (صلب , سائل , غاز):



.....  
.....

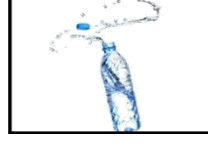
.....  
.....

.....  
.....


السؤال الخامس: نصل كل صورة من صور المواد بخصائصها:



سوائل تنساب بسرعة

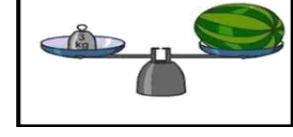


خفيف

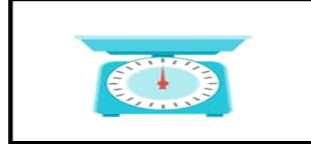


مصنوع من معدن

السؤال السادس: ١\_ نستخدم لقياس طول الأشياء الصلبة:

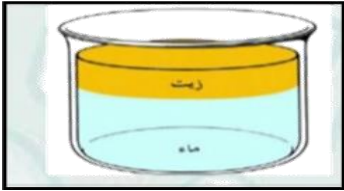


٢\_ يمكن قياس كمية السائل ب.....؟



السؤال السابع:

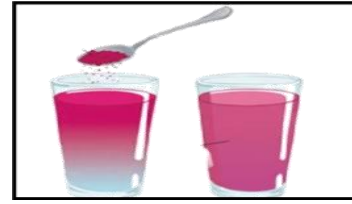
١\_ أيهما مخلوط صلب:



.....



.....



.....



.....

٢\_ نحدد طريقة فصل المخلوط ( المغناطيس ، الطفو ):

(.....)



بالتوفيق يا صغاري

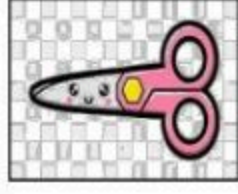
سكره الشمري




|                              |  |                                     |
|------------------------------|--|-------------------------------------|
| التاريخ:                     | <br>وزارة التعليم<br>Ministry of Education | المملكة العربية السعودية            |
| المادة: العلوم               |  | وزارة التعليم                       |
| الصف: الأول الابتدائي        |  | الإدارة العامة للتعليم بمنطقة ..... |
| اسم الطالب/ة..... الفصل..... |  |                                     |

## تقويم ختامي لمهارات علوم الصف الأول – (الفصل الدراسي الثاني) عام ١٤٤٤

السؤال الأول: نضع علامة (صح) تحت الموارد الطبيعية الحية:










السؤال الثاني: نصل كل كلمة بالصورة المناسبة:



الترشيد

صلب

موارد الارض

مخلوط

غاز

السؤال الثالث: نحدد الصورة التي تشير الى تلوث الهواء والماء والتربة:










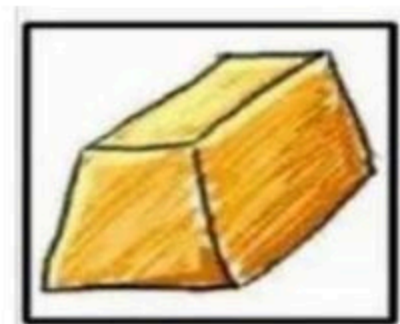

السؤال الرابع: نكتب تحت كل صورة حالة المادة (صلب , سائل , غاز):



سائل




غاز



صلب

السؤال الخامس: نصل كل صورة من صور المواد بخصائصها:



سوائل تنساب بسرعة


خفيف

مصنوع من معدن

السؤال السادس: ١ - نستخدم لقياس طول الأشياء الصلبة:

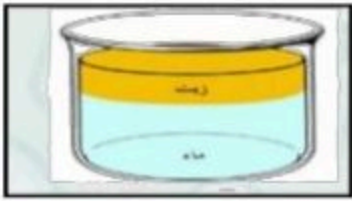


٢ - يمكن قياس كمية السائل ب.....؟



١ - أيها مخلوط صلب:

السؤال السابع:



.....



صلصال



.....



٢ - نحدد طريقة فصل المخلوط ( المغناطيس ، الطفو):

(.....**الطفو**.....)



بالتوفيق يا صغاري

سكره الشمري